

Question Paper Preview

Notations :

- Options shown in green color and with ✓ icon are correct.
- Options shown in red color and with ✗ icon are incorrect.

Question Paper Name:	ASSISTANT TEACHER PRIMARY 7th Oct 2018 Shift 2
Subject Name:	ASSISTANT TEACHER PRIMARY
Creation Date:	2018-10-07 20:36:52
Duration:	120
Total Marks:	200
Display Marks:	Yes
Share Answer Key With Delivery Engine:	Yes
Actual Answer Key:	Yes
Calculator:	None
Magnifying Glass Required?:	No
Ruler Required?:	No
Eraser Required?:	No
Scratch Pad Required?:	No
Rough Sketch/Notepad Required?:	No
Protractor Required?:	No
Show Watermark on Console?:	No
Highlighter:	No
Auto Save on Console?:	No

Mental Ability

Group Number :	1
Group Id :	167943704
Group Maximum Duration :	0
Group Minimum Duration :	0
Revisit allowed for view? :	No
Revisit allowed for edit? :	No
Break time:	0
Group Marks:	20
Revisit allowed for group Instructions? :	Yes
Maximum Instruction Time:	0
Minimum Instruction Time:	0

Mental Ability

Section Id :	167943769
Section Number :	1
Section type :	Online
Mandatory or Optional:	Mandatory
Number of Questions:	20
Number of Questions to be attempted:	20
Section Marks:	20

Display Number Panel:

Yes

Group All Questions:

No

Sub-Section Number:

1

Sub-Section Id:

1679431192

Question Shuffling Allowed :

Yes

Question Number : 1 Question Id : 16794318776 Question Type : MCQ Option Shuffling : Yes Display Question Number : Yes
Single Line Question Option : No Option Orientation : Vertical

Correct Marks : 1 Wrong Marks : 0.25

‘Doctor’ is related to ‘Stethoscope’ in the same way as ‘Carpenter’ is related to:

Options :

1. ✖ Knife

2. ✖ Needle

3. ✔ Saw

4. ✖ Spade

Question Number : 1 Question Id : 16794318776 Question Type : MCQ Option Shuffling : Yes Display Question Number : Yes
Single Line Question Option : No Option Orientation : Vertical

Correct Marks : 1 Wrong Marks : 0.25

जिस प्रकार से 'डॉक्टर' से 'स्टेथोस्कोप' संबंधित है उसी प्रकार से 'बढ़ई' किस से संबंधित है?

Options :

1. ✖ चाकू

2. ✖ सुई

3. ✔ आरी

4. ✖ कुदाल

Question Number : 2 Question Id : 16794318777 Question Type : MCQ Option Shuffling : Yes Display Question Number : Yes
Single Line Question Option : No Option Orientation : Vertical

Correct Marks : 1 Wrong Marks : 0.25

Find the odd one out of the below:

Options :

1. ✖ Spade

2. ✖ Ace

3. ✓ Rummy

4. ✗ King

Question Number : 2 Question Id : 16794318777 Question Type : MCQ Option Shuffling : Yes Display Question Number : Yes
Single Line Question Option : No Option Orientation : Vertical

Correct Marks : 1 Wrong Marks : 0.25

नीचे दिए गए शब्द में से विषम का पता लगाएं।

Options :

1. ✗ हुकुम का पत्ता

2. ✗ इक्का

3. ✓ रमी

4. ✗ बादशाह

Question Number : 3 Question Id : 16794318778 Question Type : MCQ Option Shuffling : Yes Display Question Number : Yes
Single Line Question Option : No Option Orientation : Vertical

Correct Marks : 1 Wrong Marks : 0.25

A dog is taken out every evening by the owner whose house faces east. They walk 200 metre west, then 500 metre in the south direction. Which direction should they take in the end to reach home?

Options :

1. ✗ North

2. ✓ North-east

3. ✗ South

4. ✗ South-west

Question Number : 3 Question Id : 16794318778 Question Type : MCQ Option Shuffling : Yes Display Question Number : Yes
Single Line Question Option : No Option Orientation : Vertical

Correct Marks : 1 Wrong Marks : 0.25

एक कुत्ता प्रत्येक शाम को मालिक द्वारा घर से बाहर ले जाया जाता है जिसके घर का दरवाजा पूरब दिशा में है। वे 200 मीटर पश्चिम दिशा में चलते हैं, फिर 500 मीटर दक्षिण दिशा में। घर पहुंचने के लिए अंत में उन्हें किस दिशा में चलना चाहिए?

Options :

1. ✗ उत्तर

2. ✓ उत्तर-पूर्व

3. ✗ दक्षिण

4. ✗ दक्षिण-पश्चिम

Question Number : 4 Question Id : 16794318779 Question Type : MCQ Option Shuffling : Yes Display Question Number : Yes
Single Line Question Option : No Option Orientation : Vertical

Correct Marks : 1 Wrong Marks : 0.25

Find the missing term in the below series:

0.6, 0.9, 0.06, 0.09, 0.006, 0.009, _____, 0.0009

Options :

1. ✗ 0.090

2. ✗ 0.060

3. ✗ 0.0009

4. ✓ 0.0006

Question Number : 4 Question Id : 16794318779 Question Type : MCQ Option Shuffling : Yes Display Question Number : Yes
Single Line Question Option : No Option Orientation : Vertical

Correct Marks : 1 Wrong Marks : 0.25

नीचे दी गई श्रृंखला में लुप्त पद का पता लगाएं।

0.6, 0.9, 0.06, 0.09, 0.006, 0.009, _____, 0.0009

Options :

1. ✗ 0.090

2. ✗ 0.060

3. ✗ 0.0009

4. ✓ 0.0006

Question Number : 5 Question Id : 16794318780 Question Type : MCQ Option Shuffling : Yes Display Question Number : Yes
Single Line Question Option : No Option Orientation : Vertical

Correct Marks : 1 Wrong Marks : 0.25

If 1st January is Sunday, then 1st February of the same year will be which day?

Options :

1. ✓ Wednesday

2. ✗ Sunday

3. ✗ Monday

4. ✗ Saturday

Question Number : 5 Question Id : 16794318780 Question Type : MCQ Option Shuffling : Yes Display Question Number : Yes
Single Line Question Option : No Option Orientation : Vertical

Correct Marks : 1 Wrong Marks : 0.25

यदि 1 जनवरी को रविवार है, तो उसी वर्ष की पहली फरवरी को कौन सा दिन होगा?

Options :

1. ✓ बुधवार

2. ✗ रविवार

3. ✗ सोमवार

4. ✗ शनिवार

Question Number : 6 Question Id : 16794318781 Question Type : MCQ Option Shuffling : Yes Display Question Number : Yes
Single Line Question Option : No Option Orientation : Vertical

Correct Marks : 1 Wrong Marks : 0.25

Prakash scored more than Dhivakar. Ram scored as much as Deepak. Ragul scored less than Murali. Dhivakar scored more than Ram. Murali scored less than Deepak. Who scored the highest?

Options :

1. ✓ Prakash

2. ✗ Deepak

3. ✗ Murali

4. ✗ Ram

Question Number : 6 Question Id : 16794318781 Question Type : MCQ Option Shuffling : Yes Display Question Number : Yes
Single Line Question Option : No Option Orientation : Vertical

Correct Marks : 1 Wrong Marks : 0.25

प्रकाश ने दिवाकर से ज्यादा स्कोर किया। राम ने दीपक के बराबर स्कोर किया। रागुल ने मुरली से कम स्कोर किया। दिवाकर ने राम से ज्यादा स्कोर किया। मुरली ने दीपक से कम स्कोर किया। उच्चतम स्कोर किसने किया?

Options :

1. ✓ प्रकाश

2. ✗ दीपक

3. ✗ मुरली

4. ✗ राम

Question Number : 7 Question Id : 16794318782 Question Type : MCQ Option Shuffling : Yes Display Question Number : Yes
Single Line Question Option : No Option Orientation : Vertical

Correct Marks : 1 Wrong Marks : 0.25

If $12 + 6 = 72$; $7 + 3 = 21$; then $16 + 6 = ?$

Options :

1. ✗ 69

2. ✓ 96

3. ✗ 32

4. ✗ 23

Question Number : 7 Question Id : 16794318782 Question Type : MCQ Option Shuffling : Yes Display Question Number : Yes
Single Line Question Option : No Option Orientation : Vertical

Correct Marks : 1 Wrong Marks : 0.25

यदि $12 + 6 = 72$; $7 + 3 = 21$; तब $16 + 6 = ?$

Options :

1. ✗ 69

2. ✓ 96

3. ✗ 32

4. ✗ 23

Question Number : 8 Question Id : 16794318783 Question Type : MCQ Option Shuffling : Yes Display Question Number : Yes
Single Line Question Option : No Option Orientation : Vertical

Correct Marks : 1 Wrong Marks : 0.25

You are given two statements and two conclusions. Choose the correct comment about conclusions from the options below:

Statements:

- I. All trees are animals.
- II. All animals are flowers.

Conclusions:

- I. All trees are flowers.
- II. Some animals are not trees.

Options :

- 1. ☒ Only conclusion I follows
- 2. ☐ Only conclusion II follows
- 3. ☐ Either conclusion I or II follows
- 4. ☐ Both conclusions I and II follows

Question Number : 8 Question Id : 16794318783 Question Type : MCQ Option Shuffling : Yes Display Question Number : Yes
Single Line Question Option : No Option Orientation : Vertical

Correct Marks : 1 Wrong Marks : 0.25

आपको दो कथन और दो निष्कर्ष दिए गए हैं। नीचे दिए गए विकल्पों में से निष्कर्षों के बारे में सही टिप्पणी चुनें।
कथन:

- I. सभी पेड़ जानवर हैं।
- II. सभी जानवर पुष्प हैं।

निष्कर्ष:

- I. सभी पेड़ पुष्प हैं।
- II. कुछ जानवर पेड़ नहीं हैं।

Options :

- 1. ☒ केवल निष्कर्ष I अनुसरण करता है
- 2. ☐ केवल निष्कर्ष II अनुसरण करता है
- 3. ☐ या तो निष्कर्ष I या II अनुसरण करता है
- 4. ☐ निष्कर्ष I और II दोनों अनुसरण करते हैं

Question Number : 9 Question Id : 16794318784 Question Type : MCQ Option Shuffling : Yes Display Question Number : Yes
Single Line Question Option : No Option Orientation : Vertical

Correct Marks : 1 Wrong Marks : 0.25

Two numbers are such that sum of their squares is 169 and their sum is 17. Find the product of these two numbers.

Options :

1. ✖ 90
2. ✖ 66
3. ✖ 56
4. ✔ 60

Question Number : 9 Question Id : 16794318784 Question Type : MCQ Option Shuffling : Yes Display Question Number : Yes
Single Line Question Option : No Option Orientation : Vertical

Correct Marks : 1 Wrong Marks : 0.25

दो संख्याएं इस प्रकार हैं कि उनके वर्गों का योग 169 है और उनका योग 17 है। इन दो संख्याओं का गुणनफल ज्ञात करें।

Options :

1. ✖ 90
2. ✖ 66
3. ✖ 56
4. ✔ 60

Question Number : 10 Question Id : 16794318785 Question Type : MCQ Option Shuffling : Yes Display Question Number : Yes
Single Line Question Option : No Option Orientation : Vertical

Correct Marks : 1 Wrong Marks : 0.25

Find the missing letter from the below table:

C	K	D	L
X	?	Y	W
G	S	H	T

Options :

1. ✔ V
2. ✖ Z
3. ✖ U
4. ✖ W

Question Number : 10 Question Id : 16794318785 Question Type : MCQ Option Shuffling : Yes Display Question Number : Yes
Single Line Question Option : No Option Orientation : Vertical

Correct Marks : 1 Wrong Marks : 0.25

नीचे दी गई तालिका में गायब अक्षरका पता लगाएं:

C	K	D	L
X	?	Y	W
G	S	H	T

Options :

1. ✓ V

2. ✗ Z

3. ✗ U

4. ✗ W

Question Number : 11 Question Id : 16794318786 Question Type : MCQ Option Shuffling : Yes Display Question Number : Yes
Single Line Question Option : No Option Orientation : Vertical

Correct Marks : 1 Wrong Marks : 0.25

Introducing Gopal to her friend, Seetha said, "His brother's father is the only son of my grandfather." How is Gopal related to Seetha?

Options :

1. ✓ Brother

2. ✗ Father

3. ✗ Uncle

4. ✗ Brother-in-law

Question Number : 11 Question Id : 16794318786 Question Type : MCQ Option Shuffling : Yes Display Question Number : Yes
Single Line Question Option : No Option Orientation : Vertical

Correct Marks : 1 Wrong Marks : 0.25

अपने दोस्त से गोपाल का परिचय कराते हुए सीता ने कहा, "उसके भाई के पिता मेरे दादा के इकलौते पुत्र हैं।" गोपाल का सीता से क्या संबंध है?

Options :

1. ☒ भाई
2. ☐ पिता
3. ☐ चाचा
4. ☐ बहनोई

Question Number : 12 Question Id : 16794318787 Question Type : MCQ Option Shuffling : Yes Display Question Number : Yes
Single Line Question Option : No Option Orientation : Vertical

Correct Marks : 1 Wrong Marks : 0.25

If SALUTE is written as RYIQOY in certain code, then how SOLDIER would be written in that code?

Options :

1. ☐ RMIZDYL
2. ☒ RMIZDYK
3. ☐ RMIZEYK
4. ☐ RMIZDZK

Question Number : 12 Question Id : 16794318787 Question Type : MCQ Option Shuffling : Yes Display Question Number : Yes
Single Line Question Option : No Option Orientation : Vertical

Correct Marks : 1 Wrong Marks : 0.25

यदि SALUTE को किसी कोड में RYIQOY लिखा गया है, तो उस कोड में SOLDIER को कैसे लिखा जाएगा?

Options :

1. ☐ RMIZDYL
2. ☒ RMIZDYK
3. ☐ RMIZEYK
4. ☐ RMIZDZK

Question Number : 13 Question Id : 16794318788 Question Type : MCQ Option Shuffling : Yes Display Question Number : Yes
Single Line Question Option : No Option Orientation : Vertical

Correct Marks : 1 Wrong Marks : 0.25

Given below is a question and two statements. Read them carefully and choose the most appropriate option.

How many brothers does Kavya have?

Statements:

I. Kavya's father has five children.

II. Kavya has two sisters.

Options :

1. ✖ Data in statement I alone is sufficient to answer the question
2. ✖ Data in statement II alone is sufficient to answer the question
3. ✖ Data in both statements I and II together is not sufficient to answer the question
4. ✔ Data in statements I and II together is necessary to answer the question

Question Number : 13 Question Id : 16794318788 Question Type : MCQ Option Shuffling : Yes Display Question Number : Yes
Single Line Question Option : No Option Orientation : Vertical

Correct Marks : 1 Wrong Marks : 0.25

नीचे एक प्रश्न और दो कथन दिया गया है। उन्हें ध्यानपूर्वक पढ़ें और सबसे उचित विकल्प चुनें।

काव्य के कितने भाई हैं?

कथन:

I. काव्य के पिता के पांच बच्चे हैं।

II. काव्य की दो बहनें हैं।

Options :

1. ✖ प्रश्न का उत्तर देने के लिए अकेले कथन I में डेटा पर्याप्त है
2. ✖ प्रश्न का उत्तर देने के लिए अकेले कथन II में डेटा पर्याप्त है
3. ✖ प्रश्न का उत्तर देने के लिए कथन I और II दोनों का मिलाकर डेटा पर्याप्त नहीं है
4. ✔ प्रश्न का उत्तर देने के लिए कथन I और II दोनों का मिलाकर डेटा आवश्यक है

Question Number : 14 Question Id : 16794318789 Question Type : MCQ Option Shuffling : Yes Display Question Number : Yes
Single Line Question Option : No Option Orientation : Vertical

Correct Marks : 1 Wrong Marks : 0.25

Kapil is 7 ranks ahead than Vimal in the class of 39. If Vimal's rank is 17th from the last, what is Kapil's rank from the beginning?

Options :

1. ✖ 15

2. ✔ 16

3. ✖ 17

4. ✖ 19

Question Number : 14 Question Id : 16794318789 Question Type : MCQ Option Shuffling : Yes Display Question Number : Yes
Single Line Question Option : No Option Orientation : Vertical

Correct Marks : 1 Wrong Marks : 0.25

कपिल 39 छात्रों की कक्षा में विमल से 7 रैंक आगे है। यदि विमल का रैंक आखिरी से 17 वां है, तो कपिल का रैंक शुरुआत से क्या है?

Options :

1. ✖ 15

2. ✔ 16

3. ✖ 17

4. ✖ 19

Question Number : 15 Question Id : 16794318790 Question Type : MCQ Option Shuffling : Yes Display Question Number : Yes
Single Line Question Option : No Option Orientation : Vertical

Correct Marks : 1 Wrong Marks : 0.25

A cube is painted blue on two adjacent faces and on one opposite face, green on two opposite faces and pink on the remaining face. It is then cut into 64 equal cubes. How many cubes have only one blue-coloured face?

Options :

1. ✖ 10

2. ✖ 16

3. ✔ 12

4. ✖ 14

Question Number : 15 Question Id : 16794318790 Question Type : MCQ Option Shuffling : Yes Display Question Number : Yes
Single Line Question Option : No Option Orientation : Vertical

Correct Marks : 1 Wrong Marks : 0.25

एक घन के दो आसन्न फलकों और एक विपरीत फलक पर नीला रंग, दो विपरीत फलकों पर हरा रंग और बचे फलक पर गुलाबी रंग लगाया जाता है। फिर इसे 64 बराबर आकार के घनों में काटा जाता है। कितने घनों पर केवल एक नीले रंग का फलक है?

Options :

1. ✖ 10

2. ✖ 16

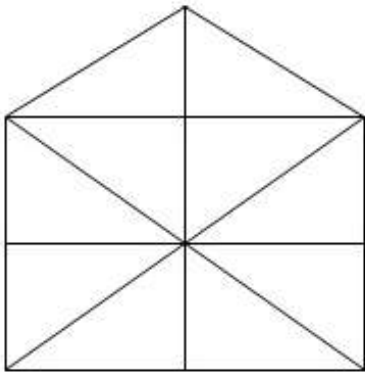
3. ✔ 12

4. ✖ 14

Question Number : 16 Question Id : 16794318791 Question Type : MCQ Option Shuffling : Yes Display Question Number : Yes
Single Line Question Option : No Option Orientation : Vertical

Correct Marks : 1 Wrong Marks : 0.25

Find the number of triangles from the following figure:



Options :

1. ✖ 12

2. ✖ 16

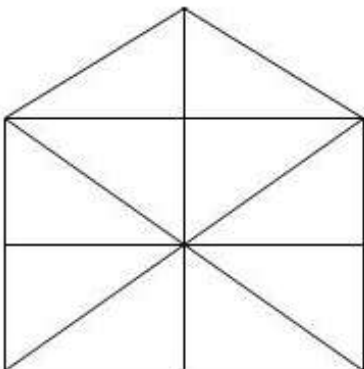
3. ✖ 24

4. ✔ 21

Question Number : 16 Question Id : 16794318791 Question Type : MCQ Option Shuffling : Yes Display Question Number : Yes
Single Line Question Option : No Option Orientation : Vertical

Correct Marks : 1 Wrong Marks : 0.25

निम्नलिखित आकृति में त्रिकोणों की संख्या कितनी है?



Options :

1. ✖ 12
2. ✖ 16
3. ✖ 24
4. ✔ 21

Question Number : 17 Question Id : 16794318792 Question Type : MCQ Option Shuffling : Yes Display Question Number : Yes
Single Line Question Option : No Option Orientation : Vertical

Correct Marks : 1 Wrong Marks : 0.25

Select the most appropriate option to fill in the blank.

A newspaper always has _____.

Options :

1. ✔ news
2. ✖ advertisement
3. ✖ month
4. ✖ office

Question Number : 17 Question Id : 16794318792 Question Type : MCQ Option Shuffling : Yes Display Question Number : Yes
Single Line Question Option : No Option Orientation : Vertical

Correct Marks : 1 Wrong Marks : 0.25

रिक्त जगह को भरने के लिए सबसे उचित विकल्प का चयन करें।

एक समाचार पत्र में हमेशा _____ होता है।

Options :

1. ✔ समाचार
2. ✖ विज्ञापन
3. ✖ माह
4. ✖ कार्यालय

Question Number : 18 Question Id : 16794318793 Question Type : MCQ Option Shuffling : Yes Display Question Number : Yes
Single Line Question Option : No Option Orientation : Vertical

Correct Marks : 1 Wrong Marks : 0.25

If the English alphabets are written in the reverse order, which will be the 10th letter to the right of O?

Options :

1. ✖ F
2. ✔ E
3. ✖ G
4. ✖ I

Question Number : 18 Question Id : 16794318793 Question Type : MCQ Option Shuffling : Yes Display Question Number : Yes
Single Line Question Option : No Option Orientation : Vertical

Correct Marks : 1 Wrong Marks : 0.25

यदि अंग्रेजी वर्णमाला को विपरीत क्रम में लिखा जाता है, तो O के दाईं तरफ 10वां अक्षर क्या होगा?

Options :

1. ✖ F
2. ✔ E
3. ✖ G
4. ✖ I

Question Number : 19 Question Id : 16794318794 Question Type : MCQ Option Shuffling : Yes Display Question Number : Yes
Single Line Question Option : No Option Orientation : Vertical

Correct Marks : 1 Wrong Marks : 0.25

Anbu is twice as old as Pranesh. Three years ago, he was three times as old as Pranesh. How old is Anbu now?

Options :

1. ✖ 9 years
2. ✖ 10 years
3. ✔ 12 years
4. ✖ 15 years

Question Number : 19 Question Id : 16794318794 Question Type : MCQ Option Shuffling : Yes Display Question Number : Yes
Single Line Question Option : No Option Orientation : Vertical

Correct Marks : 1 Wrong Marks : 0.25

अंबू की उम्र प्रणेश की उम्र की दो गुनी है। तीन साल पहले, उसकी उम्र प्रणेश के उम्र से तीन गुनी थी। इस समय अंबू की उम्र कितनी है?

Options :

1. ✖ 9 वर्ष

2. ✖ 10 वर्ष

3. ✔ 12 वर्ष

4. ✖ 15 वर्ष


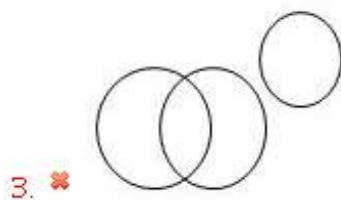
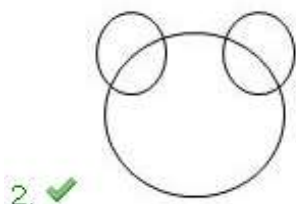
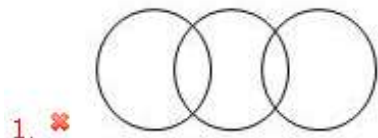
Question Number : 20 Question Id : 16794318795 Question Type : MCQ Option Shuffling : Yes Display Question Number : Yes
Single Line Question Option : No Option Orientation : Vertical

Correct Marks : 1 Wrong Marks : 0.25

Which of the following venn diagrams correctly represents the following three classes:

Students of Medicine, Students of Engineering, Men?

Options :




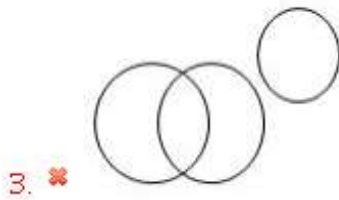
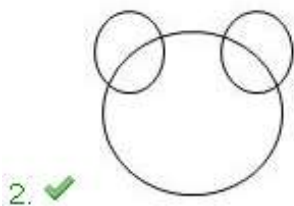
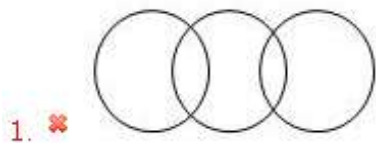
Question Number : 20 Question Id : 16794318795 Question Type : MCQ Option Shuffling : Yes Display Question Number : Yes
Single Line Question Option : No Option Orientation : Vertical

Correct Marks : 1 Wrong Marks : 0.25

निम्नलिखित में से कौन सा वेन आरेख निम्नलिखित तीन वर्गों का सही तरीके से दर्शाता है?

चिकित्सा के छात्र, इंजीनियरिंग के छात्र, पुरुष?

Options :



General Awareness

Group Number :	2
Group Id :	167943705
Group Maximum Duration :	0
Group Minimum Duration :	0
Revisit allowed for view? :	No
Revisit allowed for edit? :	No
Break time:	0
Group Marks:	20
Revisit allowed for group Instructions? :	Yes
Maximum Instruction Time:	0
Minimum Instruction Time:	0

General Awareness

Section Id :	167943770
Section Number :	1
Section type :	Online
Mandatory or Optional:	Mandatory
Number of Questions:	20
Number of Questions to be attempted:	20
Section Marks:	20
Display Number Panel:	Yes
Group All Questions:	No

Sub-Section Id:

1679431193

Question Shuffling Allowed :

Yes

Question Number : 21 Question Id : 16794318796 Question Type : MCQ Option Shuffling : Yes Display Question Number : Yes
Single Line Question Option : No Option Orientation : Vertical

Correct Marks : 1 Wrong Marks : 0.25

Choose the correct statements.

1. The writ of prohibition is a writ issued by only the High court to an inferior court.
2. The object of the writ is to compel inferior courts to keep themselves within the limits of their jurisdiction.

Options :

1. ✖ Only 1
2. ✔ Only 2
3. ✖ Both 1 and 2
4. ✖ None of the given options

Question Number : 21 Question Id : 16794318796 Question Type : MCQ Option Shuffling : Yes Display Question Number : Yes
Single Line Question Option : No Option Orientation : Vertical

Correct Marks : 1 Wrong Marks : 0.25

सही कथन का चयन करें।

1. निषेध याचिका, केवल उच्च न्यायालय द्वारा निचली अदालतों को जारी की जाने वाली याचिका होती है।
2. इस याचिका का उद्देश्य, निचली अदालतों को उनके क्षेत्राधिकार के तहत सीमित रखने हेतु बाध्य करना होता है।

Options :

1. ✖ केवल 1
2. ✔ केवल 2
3. ✖ 1 और 2 दोनों
4. ✖ उपरोक्त विकल्प में से कोई नहीं

Question Number : 22 Question Id : 16794318797 Question Type : MCQ Option Shuffling : Yes Display Question Number : Yes
Single Line Question Option : No Option Orientation : Vertical

Correct Marks : 1 Wrong Marks : 0.25

_____ को संसद का उच्च सदन कहा जाता है।

Options :

1. ✖ लोक सभा

2. ✓ राज्य सभा

3. ✗ लोक सभा और राज्य सभा

4. ✗ संसद

Question Number : 22 Question Id : 16794318797 Question Type : MCQ Option Shuffling : Yes Display Question Number : Yes
Single Line Question Option : No Option Orientation : Vertical

Correct Marks : 1 Wrong Marks : 0.25

The Upper House called as:

Options :

1. ✗ Lok Sabha

2. ✓ Rajya Sabha

3. ✗ Lok Sabha and Rajya Sabha

4. ✗ Parliament

Question Number : 23 Question Id : 16794318798 Question Type : MCQ Option Shuffling : Yes Display Question Number : Yes
Single Line Question Option : No Option Orientation : Vertical

Correct Marks : 1 Wrong Marks : 0.25

Right to elementary education comes under which of the following Article?

Options :

1. ✗ Article 19

2. ✗ Article 20

3. ✗ Article 21

4. ✓ Article 21A

Question Number : 23 Question Id : 16794318798 Question Type : MCQ Option Shuffling : Yes Display Question Number : Yes
Single Line Question Option : No Option Orientation : Vertical

Correct Marks : 1 Wrong Marks : 0.25

प्राथमिक शिक्षा का अधिकार, निम्नलिखित में से किस अनुच्छेद के तहत शामिल किया गया है?

Options :

1. ✗ अनुच्छेद 19

2. ✖ અનુચ્છેદ 20

3. ✖ અનુચ્છેદ 21

4. ✔ અનુચ્છેદ 21A

Question Number : 24 Question Id : 16794318799 Question Type : MCQ Option Shuffling : Yes Display Question Number : Yes
Single Line Question Option : No Option Orientation : Vertical

Correct Marks : 1 Wrong Marks : 0.25

What was the date of the Third Buddhist Council?

Options :

1. ✖ 383 B.C

2. ✔ 250 B.C

3. ✖ 235 B.C

4. ✖ 227 B.C

Question Number : 24 Question Id : 16794318799 Question Type : MCQ Option Shuffling : Yes Display Question Number : Yes
Single Line Question Option : No Option Orientation : Vertical

Correct Marks : 1 Wrong Marks : 0.25

तीसरी बौद्ध परिषद की तारीख क्या थी?

Options :

1. ✖ 383 B.C

2. ✔ 250 B.C

3. ✖ 235 B.C

4. ✖ 227 B.C

Question Number : 25 Question Id : 16794318800 Question Type : MCQ Option Shuffling : Yes Display Question Number : Yes
Single Line Question Option : No Option Orientation : Vertical

Correct Marks : 1 Wrong Marks : 0.25

What was the ruling period of Iltutmish?

Options :

1. ✖ 1210 - 1228

2. ✖ 1210 - 1230

3. ✖ 1210 - 1235

4. ✔ 1210 - 1236

Question Number : 25 Question Id : 16794318800 Question Type : MCQ Option Shuffling : Yes Display Question Number : Yes
Single Line Question Option : No Option Orientation : Vertical

Correct Marks : 1 Wrong Marks : 0.25

इल्लुत्तिमिश का शासन काल कब से कब था?

Options :

1. ✖ 1210 - 1228

2. ✖ 1210 - 1230

3. ✖ 1210 - 1235

4. ✔ 1210 - 1236

Question Number : 26 Question Id : 16794318801 Question Type : MCQ Option Shuffling : Yes Display Question Number : Yes
Single Line Question Option : No Option Orientation : Vertical

Correct Marks : 1 Wrong Marks : 0.25

A secret socio - religious group Paramahansa Mandali/ Sabha was founded by which of the given options.

Options :

1. ✖ Jyotiba Phule

2. ✖ Atmaram Pandurang

3. ✔ Mehtaji Durgaram

4. ✖ Balshastri Jambhekar

Question Number : 26 Question Id : 16794318801 Question Type : MCQ Option Shuffling : Yes Display Question Number : Yes
Single Line Question Option : No Option Orientation : Vertical

Correct Marks : 1 Wrong Marks : 0.25

निम्नलिखित में से किस के द्वारा परमहंस मंडली/सभा, एक गोपनीय सामाजिक-धार्मिक समूह का गठन किया गया था?

Options :

1. ✖ ज्योतिबा फुले

2. ✖ आत्माराम पांडुरंग

3. ✓ मेहताजी दुर्गाराम

4. ✗ बालशास्त्री जामभेकर

Question Number : 27 Question Id : 16794318802 Question Type : MCQ Option Shuffling : Yes Display Question Number : Yes
Single Line Question Option : No Option Orientation : Vertical

Correct Marks : 1 Wrong Marks : 0.25

What is the literacy rate of Chattisgarh?

Options :

1. ✓ 70.3%

2. ✗ 69.3%

3. ✗ 67.7%

4. ✗ 61.8%

Question Number : 27 Question Id : 16794318802 Question Type : MCQ Option Shuffling : Yes Display Question Number : Yes
Single Line Question Option : No Option Orientation : Vertical

Correct Marks : 1 Wrong Marks : 0.25

छत्तीसगढ़ की साक्षरता दर क्या है?

Options :

1. ✓ 70.3%

2. ✗ 69.3%

3. ✗ 67.7%

4. ✗ 61.8%

Question Number : 28 Question Id : 16794318803 Question Type : MCQ Option Shuffling : Yes Display Question Number : Yes
Single Line Question Option : No Option Orientation : Vertical

Correct Marks : 1 Wrong Marks : 0.25

Which of the following is not a tributaries of Krishna River?

Options :

1. ✗ Koyna

2. ✗ Bhima

3. ✗ Tungbhadra

4. ✓ Brahmani

Question Number : 28 Question Id : 16794318803 Question Type : MCQ Option Shuffling : Yes Display Question Number : Yes
Single Line Question Option : No Option Orientation : Vertical

Correct Marks : 1 Wrong Marks : 0.25

निम्नलिखित में से कौन सा विकल्प, कृष्णा नदी की सहायक नदी नहीं है?

Options :

1. ✗ कोयना

2. ✗ भीमा

3. ✗ तुंगभद्रा

4. ✓ ब्राह्मणी

Question Number : 29 Question Id : 16794318804 Question Type : MCQ Option Shuffling : Yes Display Question Number : Yes
Single Line Question Option : No Option Orientation : Vertical

Correct Marks : 1 Wrong Marks : 0.25

What is the meaning of El-Nino?

Options :

1. ✗ Mansoon

2. ✗ Low pressure

3. ✗ High pressure

4. ✓ Child Christ

Question Number : 29 Question Id : 16794318804 Question Type : MCQ Option Shuffling : Yes Display Question Number : Yes
Single Line Question Option : No Option Orientation : Vertical

Correct Marks : 1 Wrong Marks : 0.25

एल-नीनो का अर्थ क्या है?

Options :

1. ✗ मानसून

2. ✗ कम दबाव

3. ✗ उच्च दबाव

4. ✓ बाल क्राइस्ट

Question Number : 30 Question Id : 16794318805 Question Type : MCQ Option Shuffling : Yes Display Question Number : Yes
Single Line Question Option : No Option Orientation : Vertical

Correct Marks : 1 Wrong Marks : 0.25

_____ glass is usually used in vehicles to avoid accident.

Options :

1. ✗ Borosilicate
2. ✓ Laminated safety
3. ✗ Alkali silicate
4. ✗ Optical

Question Number : 30 Question Id : 16794318805 Question Type : MCQ Option Shuffling : Yes Display Question Number : Yes
Single Line Question Option : No Option Orientation : Vertical

Correct Marks : 1 Wrong Marks : 0.25

दुर्घटना से बचने के लिए, सामान्यतः _____ शीशे का प्रयोग किया जाता है।

Options :

1. ✗ बोरोसिलिकेट
2. ✓ लैमिनेटेड सेफ्टी
3. ✗ अल्कली सिलिकेट
4. ✗ ऑप्टिकल

Question Number : 31 Question Id : 16794318806 Question Type : MCQ Option Shuffling : Yes Display Question Number : Yes
Single Line Question Option : No Option Orientation : Vertical

Correct Marks : 1 Wrong Marks : 0.25

The buoyant force is greater if volume of an object submerged in liquid is _____.

Options :

1. ✗ Smaller
2. ✓ Larger
3. ✗ Equal
4. ✗ Half

Question Number : 31 Question Id : 16794318806 Question Type : MCQ Option Shuffling : Yes Display Question Number : Yes
Single Line Question Option : No Option Orientation : Vertical

Correct Marks : 1 Wrong Marks : 0.25

पानी में डुबाई गई वस्तु का आयतन _____ होने पर, उत्प्लावक बल (बॉयंट फोर्स) अधिक होता है।

Options :

1. ✖ छोटा
2. ✔ बड़ा
3. ✖ समान
4. ✖ आधा

Question Number : 32 Question Id : 16794318807 Question Type : MCQ Option Shuffling : Yes Display Question Number : Yes
Single Line Question Option : No Option Orientation : Vertical

Correct Marks : 1 Wrong Marks : 0.25

Human Insulin gene now could be inserted into the genome of _____.

Options :

1. ✖ Horse
2. ✖ Cat
3. ✔ Bacteria
4. ✖ Virus

Question Number : 32 Question Id : 16794318807 Question Type : MCQ Option Shuffling : Yes Display Question Number : Yes
Single Line Question Option : No Option Orientation : Vertical

Correct Marks : 1 Wrong Marks : 0.25

अब मानवीय इन्सुलिन जीन को _____ के जिनोम में प्रविष्ट किया जा सकता है।

Options :

1. ✖ घोड़ा
2. ✖ बिल्ली
3. ✔ बैक्टीरिया
4. ✖ वाइरस

Question Number : 33 Question Id : 16794318808 Question Type : MCQ Option Shuffling : Yes Display Question Number : Yes
Single Line Question Option : No Option Orientation : Vertical

Correct Marks : 1 Wrong Marks : 0.25

With regard to the Net National Product (NNP) which of the following statements is correct?

1. NNP of an economy is the GNP after deducting the loss due to depreciation.
2. $NNP = GDP + \text{income from abroad} - \text{Depreciation}$

Options :

1. ✖ 1 only
2. ✖ 2 only
3. ✔ 1 and 2 both
4. ✖ None of the given options

Question Number : 33 Question Id : 16794318808 Question Type : MCQ Option Shuffling : Yes Display Question Number : Yes
Single Line Question Option : No Option Orientation : Vertical

Correct Marks : 1 Wrong Marks : 0.25

शुद्ध राष्ट्रीय उत्पाद (एन.एन.पी.) के संबंध में, निम्नलिखित में से कौन सा कथन सही है?

1. एक अर्थव्यवस्था की एनएनपी (NNP), मूल्यहास के कारण हानि की कटौती के बाद प्राप्त जी.डी.पी. (GDP) होता है।
2. $NNP = GDP + \text{विदेश से प्राप्त आय} - \text{मूल्यहास}$

Options :

1. ✖ केवल 1
2. ✖ केवल 2
3. ✔ 1 और 2 दोनों
4. ✖ दिए गए विकल्पों में से कोई नहीं

Question Number : 34 Question Id : 16794318809 Question Type : MCQ Option Shuffling : Yes Display Question Number : Yes
Single Line Question Option : No Option Orientation : Vertical

Correct Marks : 1 Wrong Marks : 0.25

What does LERMS stands for:

Options :

1. ✖ Liquid Exchange Rate Mechanism System
2. ✖ Liberalised Exchange Rate Monitoring System

3. ✓ Liberalised Exchange Rate Mechanism System

4. ✗ Liquid Exchange Rate Monitoring System

Question Number : 34 Question Id : 16794318809 Question Type : MCQ Option Shuffling : Yes Display Question Number : Yes
Single Line Question Option : No Option Orientation : Vertical

Correct Marks : 1 Wrong Marks : 0.25

एल.ई.आर.एम.एस. का पूरा नाम क्या है?

Options :

1. ✗ लिक्विड एक्सचेंज रेट मेकैनिज्म सिस्टम

2. ✗ लिबरलाइज्ड एक्सचेंज रेट मॉनिटरिंग सिस्टम

3. ✓ लिबरलाइज्ड एक्सचेंज रेट मेकैनिज्म सिस्टम

4. ✗ लिक्विड एक्सचेंज रेट मॉनिटरिंग सिस्टम

Question Number : 35 Question Id : 16794318810 Question Type : MCQ Option Shuffling : Yes Display Question Number : Yes
Single Line Question Option : No Option Orientation : Vertical

Correct Marks : 1 Wrong Marks : 0.25

What is the Minimum support price of Maize in 2018-2019 season?

Options :

1. ✓ ₹ 1700

2. ✗ ₹ 1730

3. ✗ ₹ 1765

4. ✗ ₹ 1780

Question Number : 35 Question Id : 16794318810 Question Type : MCQ Option Shuffling : Yes Display Question Number : Yes
Single Line Question Option : No Option Orientation : Vertical

Correct Marks : 1 Wrong Marks : 0.25

वर्ष 2018-2019 अवधि में मक्का का न्यूनतम समर्थन मूल्य क्या है?

Options :

1. ✓ ₹ 1700

2. ✗ ₹ 1730

3. ✖ ₹ 1765

4. ✖ ₹ 1780

Question Number : 36 Question Id : 16794318811 Question Type : MCQ Option Shuffling : Yes Display Question Number : Yes
Single Line Question Option : No Option Orientation : Vertical

Correct Marks : 1 Wrong Marks : 0.25

In July, 2018 the BRICS summit was held at:

Options :

1. ✖ Sao Paulo

2. ✖ Beijing

3. ✖ Moscow

4. ✔ Johannesburg

Question Number : 36 Question Id : 16794318811 Question Type : MCQ Option Shuffling : Yes Display Question Number : Yes
Single Line Question Option : No Option Orientation : Vertical

Correct Marks : 1 Wrong Marks : 0.25

जुलाई 2018 में बी.आर.आई.सी.एस.(ब्रिक्स) सम्मेलन, _____ में आयोजित किया गया था।

Options :

1. ✖ साओ पाउलो

2. ✖ बीजिंग

3. ✖ मॉस्को

4. ✔ जोहानिसबर्ग

Question Number : 37 Question Id : 16794318812 Question Type : MCQ Option Shuffling : Yes Display Question Number : Yes
Single Line Question Option : No Option Orientation : Vertical

Correct Marks : 1 Wrong Marks : 0.25

What is the name of the official mascot of 2018 Asian Para Games?

Options :

1. ✖ Nemo

2. ✖ Mimo

3. ✖ Bono

4. ✓ Momo

Question Number : 37 Question Id : 16794318812 Question Type : MCQ Option Shuffling : Yes Display Question Number : Yes
Single Line Question Option : No Option Orientation : Vertical

Correct Marks : 1 Wrong Marks : 0.25

2018, एशियाई पैरा खेल का आधिकारिक मैसकॉट का नाम क्या है?

Options :

1. ✗ नेमो

2. ✗ मीमो

3. ✗ बोनो

4. ✓ मोमो

Question Number : 38 Question Id : 16794318813 Question Type : MCQ Option Shuffling : Yes Display Question Number : Yes
Single Line Question Option : No Option Orientation : Vertical

Correct Marks : 1 Wrong Marks : 0.25

Which of the followings is the regional dance of West Bengal?

Options :

1. ✓ Jatra

2. ✗ Khyal

3. ✗ Rouf

4. ✗ Munzra

Question Number : 38 Question Id : 16794318813 Question Type : MCQ Option Shuffling : Yes Display Question Number : Yes
Single Line Question Option : No Option Orientation : Vertical

Correct Marks : 1 Wrong Marks : 0.25

निम्नलिखित में से कौन सा विकल्प, पश्चिम बंगाल का क्षेत्रीय नृत्य है?

Options :

1. ✓ जत्रा

2. ✗ खयाल

3. ✗ राँउफ

4. ✗ मुन्ज़रा

Question Number : 39 Question Id : 16794318814 Question Type : MCQ Option Shuffling : Yes Display Question Number : Yes
Single Line Question Option : No Option Orientation : Vertical

Correct Marks : 1 Wrong Marks : 0.25

Who is the founder of Amazon.com Inc.?

Options :

1. ☒ Jeff Bezos
2. ☐ Mark Twain
3. ☐ Schindler Jones
4. ☐ Russel Christ

Question Number : 39 Question Id : 16794318814 Question Type : MCQ Option Shuffling : Yes Display Question Number : Yes
Single Line Question Option : No Option Orientation : Vertical

Correct Marks : 1 Wrong Marks : 0.25

Amazon.com Inc के संस्थापक कौन हैं?

Options :

1. ☒ जेफ़ बिज़ॉस
2. ☐ मार्क ट्वेइन
3. ☐ स्किंडलर जोन्स
4. ☐ रसेल क्राइस्ट

Question Number : 40 Question Id : 16794318815 Question Type : MCQ Option Shuffling : Yes Display Question Number : Yes
Single Line Question Option : No Option Orientation : Vertical

Correct Marks : 1 Wrong Marks : 0.25

Who is the winner of Mens' singles Wimbledon 2018?

Options :

1. ☒ Novak Djokovic
2. ☐ Roger Federar
3. ☐ Rafael Nadal
4. ☐ Pete Sampras

Question Number : 40 Question Id : 16794318815 Question Type : MCQ Option Shuffling : Yes Display Question Number : Yes
Single Line Question Option : No Option Orientation : Vertical

Correct Marks : 1 Wrong Marks : 0.25

विम्बलडेन 2018 के पुरुष एकल प्रतियोगिता के विजेता कौन हैं?

Options :

1. ☒ नोवाक इजोकोविक

2. ☐ रोजर फेडरर

3. ☐ रफेल नाडल

4. ☐ पीट साम्प्रास

Arithmetic Ability

Group Number :	3
Group Id :	167943706
Group Maximum Duration :	0
Group Minimum Duration :	0
Revisit allowed for view? :	No
Revisit allowed for edit? :	No
Break time:	0
Group Marks:	20
Revisit allowed for group Instructions? :	Yes
Maximum Instruction Time:	0
Minimum Instruction Time:	0

Arithmetic Ability

Section Id :	167943771
Section Number :	1
Section type :	Online
Mandatory or Optional:	Mandatory
Number of Questions:	19
Number of Questions to be attempted:	19
Section Marks:	20
Display Number Panel:	Yes
Group All Questions:	No

Sub-Section Number:	1
Sub-Section Id:	1679431194
Question Shuffling Allowed :	Yes

Question Number : 41 Question Id : 16794318816 Question Type : MCQ Option Shuffling : Yes Display Question Number : Yes
Single Line Question Option : No Option Orientation : Vertical

Correct Marks : 1 Wrong Marks : 0.25

The value of $\frac{(68.4)^2 + (31.6)^2}{(684+316)^2 + (684-316)^2}$ is equal to:

Options :

- 1. ✖ 0.0025
- 2. ✔ 0.005
- 3. ✖ 0.025
- 4. ✖ 0.05

Question Number : 41 Question Id : 16794318816 Question Type : MCQ Option Shuffling : Yes Display Question Number : Yes
Single Line Question Option : No Option Orientation : Vertical

Correct Marks : 1 Wrong Marks : 0.25

$\frac{(68.4)^2 + (31.6)^2}{(684+316)^2 + (684-316)^2}$ का मान इसके बराबर है:

Options :

- 1. ✖ 0.0025
- 2. ✔ 0.005
- 3. ✖ 0.025
- 4. ✖ 0.05

Question Number : 42 Question Id : 16794318817 Question Type : MCQ Option Shuffling : Yes Display Question Number : Yes
Single Line Question Option : No Option Orientation : Vertical

Correct Marks : 1 Wrong Marks : 0.25

The unit digit in $(7)^{91} - (3)^{58} + (24)^{15}$ is:

Options :

- 1. ✖ 2
- 2. ✖ 3
- 3. ✖ 5
- 4. ✔ 8

Question Number : 42 Question Id : 16794318817 Question Type : MCQ Option Shuffling : Yes Display Question Number : Yes
Single Line Question Option : No Option Orientation : Vertical

Correct Marks : 1 Wrong Marks : 0.25

$(7)^{91} - (3)^{58} + (24)^{15}$ में इकाई अंक है:

Options :

1. ✖ 2

2. ✖ 3

3. ✖ 5

4. ✔ 8

Question Number : 43 Question Id : 16794318818 Question Type : MCQ Option Shuffling : Yes Display Question Number : Yes
Single Line Question Option : No Option Orientation : Vertical

Correct Marks : 1 Wrong Marks : 0.25

What is the sum of digits of the least number which should be added to 24000 to make it a perfect cube?

Options :

1. ✖ 1

2. ✖ 3

3. ✔ 20

4. ✖ 22

Question Number : 43 Question Id : 16794318818 Question Type : MCQ Option Shuffling : Yes Display Question Number : Yes
Single Line Question Option : No Option Orientation : Vertical

Correct Marks : 1 Wrong Marks : 0.25

उस न्यूनतम संख्या के अंकों का योग क्या है जिसे पूर्ण घन बनाने के लिए 24000 में जोड़ा जाना चाहिए?

Options :

1. ✖ 1

2. ✖ 3

3. ✔ 20

4. ✖ 22

Question Number : 44 Question Id : 16794318819 Question Type : MCQ Option Shuffling : Yes Display Question Number : Yes
Single Line Question Option : No Option Orientation : Vertical

Correct Marks : 1 Wrong Marks : 0.25

The value of $1.\overline{23} - 0.\overline{86} + 0.\overline{29}$ is:

Note: For this question, discrepancy is found in question/answer. So, this question is ignored for all candidates.

Options :

1. $0.\overline{665}$
2. $0.\overline{65}$
3. $0.6\overline{56}$
4. $0.65\overline{65}$

Question Number : 44 Question Id : 16794318819 Question Type : MCQ Option Shuffling : Yes Display Question Number : Yes
 Single Line Question Option : No Option Orientation : Vertical
 Correct Marks : 1 Wrong Marks : 0.25

$1.\overline{23} - 0.\overline{86} + 0.\overline{29}$ का मान इसके बराबर है:

Note: For this question, discrepancy is found in question/answer. So, this question is ignored for all candidates.

Options :

1. $0.\overline{665}$
2. $0.\overline{65}$
3. $0.6\overline{56}$
4. $0.65\overline{65}$

Question Number : 45 Question Id : 16794318820 Question Type : MCQ Option Shuffling : Yes Display Question Number : Yes
 Single Line Question Option : No Option Orientation : Vertical
 Correct Marks : 1 Wrong Marks : 0.25

The HCF and LCM of two numbers are 36 and 144 respectively. What is sum of their reciprocals?

Options :

1. ✖ $\frac{1}{72}$
2. ✖ $\frac{1}{48}$
3. ✔ $\frac{5}{144}$
4. ✖ $\frac{1}{24}$

Question Number : 45 Question Id : 16794318820 Question Type : MCQ Option Shuffling : Yes Display Question Number : Yes
 Single Line Question Option : No Option Orientation : Vertical

Correct Marks : 1 Wrong Marks : 0.25

दो संख्याओं का महत्तम समापवर्तक और लघुत्तम समावर्त्य क्रमशः 36 और 144 है। उनके व्युत्क्रमों का योग क्या है?

Options :

1. ✖ $\frac{1}{72}$

2. ✖ $\frac{1}{48}$

3. ✔ $\frac{5}{144}$

4. ✖ $\frac{1}{24}$

Question Number : 46 Question Id : 16794318821 Question Type : MCQ Option Shuffling : Yes Display Question Number : Yes
Single Line Question Option : No Option Orientation : Vertical

Correct Marks : 1 Wrong Marks : 0.25

The average weight of students in a class is 45 kg. When 4 new students whose average weight is 39 kg. Joint them, the average weight decreases by 0.75 kg. What was the number of students initially in the class?

Options :

1. ✖ 24

2. ✖ 25

3. ✖ 26

4. ✔ 28

Question Number : 46 Question Id : 16794318821 Question Type : MCQ Option Shuffling : Yes Display Question Number : Yes
Single Line Question Option : No Option Orientation : Vertical

Correct Marks : 1 Wrong Marks : 0.25

एक कक्षा में छात्रों का औसत वजन 45 किलोग्राम है। जब 39 किलोग्राम औसत वजन के 4 नए छात्र उनमें शामिल होते हैं तो उनका औसत वजन 0.75 किलोग्राम कम हो जाता है। शुरुआत में कक्षा में छात्रों की संख्या कितनी थी?

Options :

1. ✖ 24

2. ✖ 25

3. ✖ 26

4. ✔ 28

Question Number : 47 Question Id : 16794318822 Question Type : MCQ Option Shuffling : Yes Display Question Number : Yes
Single Line Question Option : No Option Orientation : Vertical

Correct Marks : 1 Wrong Marks : 0.25

₹ 12,960 is divided among A, B and C such that 6 times share of A is equal to 4 times share of B and also equal to 3 times share of C. How much did B gets?

Options :

1. ✖ ₹ 2880

2. ✔ ₹ 4320

3. ✖ ₹ 5040

4. ✖ ₹ 5760

Question Number : 47 Question Id : 16794318822 Question Type : MCQ Option Shuffling : Yes Display Question Number : Yes
Single Line Question Option : No Option Orientation : Vertical

Correct Marks : 1 Wrong Marks : 0.25

₹ 12,960 की राशि A, B और C में इस तरह से बांटी जाती है कि A का 6 गुना हिस्सा B के 4 गुने हिस्से के बराबर है और C के भी 3 गुने हिस्से के बराबर है। B को कितना मिला?

Options :

1. ✖ ₹ 2880

2. ✔ ₹ 4320

3. ✖ ₹ 5040

4. ✖ ₹ 5760

Question Number : 48 Question Id : 16794318823 Question Type : MCQ Option Shuffling : Yes Display Question Number : Yes
Single Line Question Option : No Option Orientation : Vertical

Correct Marks : 1 Wrong Marks : 0.25

The difference between mean proportion and third proportion of $\frac{3}{2}$ and $\frac{3}{8}$ is:

Options :

1. ✖ $\frac{21}{4}$

2. ✖ $\frac{21}{8}$

3. ✖ $\frac{21}{16}$

4. ✔ $\frac{21}{32}$

Question Number : 48 Question Id : 16794318823 Question Type : MCQ Option Shuffling : Yes Display Question Number : Yes
Single Line Question Option : No Option Orientation : Vertical

Correct Marks : 1 Wrong Marks : 0.25

$\frac{3}{2}$ और $\frac{3}{8}$ के माध्य समानुपात और तृतीय समानुपात के बीच अंतर है:

Options :

1. ✖ $\frac{21}{4}$

2. ✖ $\frac{21}{8}$

3. ✖ $\frac{21}{16}$

4. ✔ $\frac{21}{32}$

Question Number : 49 Question Id : 16794318824 Question Type : MCQ Option Shuffling : Yes Display Question Number : Yes
Single Line Question Option : No Option Orientation : Vertical

Correct Marks : 1 Wrong Marks : 0.25

Two numbers are less than a third number by 28% and 36% respectively. How much percent is first number greater than the second number correct to one decimal place?

Options :

1. ✖ 11.8%

2. ✖ 12.2%

3. ✔ 12.5%

4. ✖ 13.8%

Question Number : 49 Question Id : 16794318824 Question Type : MCQ Option Shuffling : Yes Display Question Number : Yes
Single Line Question Option : No Option Orientation : Vertical

Correct Marks : 1 Wrong Marks : 0.25

दो संख्याएं एक तीसरी संख्या से क्रमशः 28% और 36% कम हैं। पहली संख्या दूसरी संख्या से कितने प्रतिशत बड़ी है? (एक दशमलव स्थान तक)

Options :

- 1. ✖ 11.8%
- 2. ✖ 12.2%
- 3. ✔ 12.5%
- 4. ✖ 13.8%

Question Number : 50 Question Id : 16794318825 Question Type : MCQ Option Shuffling : Yes Display Question Number : Yes
Single Line Question Option : No Option Orientation : Vertical

Correct Marks : 1 Wrong Marks : 0.25

By selling 14 articles a person loses cost price of 2 articles. What is this loss percent correct to one decimal place?

Options :

- 1. ✖ 12.5%
- 2. ✖ 13.2%
- 3. ✖ 14.1%
- 4. ✔ 14.3%

Question Number : 50 Question Id : 16794318825 Question Type : MCQ Option Shuffling : Yes Display Question Number : Yes
Single Line Question Option : No Option Orientation : Vertical

Correct Marks : 1 Wrong Marks : 0.25

14 वस्तुएं बेचने पर एक व्यक्ति को 2 वस्तुओं के लागत मूल्य की हानि होती है। इसका हानि प्रतिशत क्या है?
(एक दशमलव स्थान तक)

Options :

- 1. ✖ 12.5%
- 2. ✖ 13.2%
- 3. ✖ 14.1%
- 4. ✔ 14.3%

Question Number : 51 Question Id : 16794318826 Question Type : MCQ Option Shuffling : Yes Display Question Number : Yes
Single Line Question Option : No Option Orientation : Vertical

Correct Marks : 1 Wrong Marks : 0.25

The market price of an article is ₹ 2500. It is sold at successive discounts of 18% and $x\%$. If selling price of the article is ₹ 1763, what is the value of x ?

Options :

1. ✖ 10

2. ✖ 12

3. ✔ 14

4. ✖ 16

Question Number : 51 Question Id : 16794318826 Question Type : MCQ Option Shuffling : Yes Display Question Number : Yes
Single Line Question Option : No Option Orientation : Vertical

Correct Marks : 1 Wrong Marks : 0.25

एक वस्तु का बाजार मूल्य ₹ 2500 है। उसे 18% और $x\%$ के क्रमिक छूट पर बेचा जाता है। यदि वस्तु का बिक्री मूल्य ₹ 1763 है तो x का मान क्या है?

Options :

1. ✖ 10

2. ✖ 12

3. ✔ 14

4. ✖ 16

Question Number : 52 Question Id : 16794318827 Question Type : MCQ Option Shuffling : Yes Display Question Number : Yes
Single Line Question Option : No Option Orientation : Vertical

Correct Marks : 1 Wrong Marks : 0.25

The difference between compound interest and simple interest on ₹ 14,400 for 2 years is ₹ 51.84. What is the rate of interest per annum?

Options :

1. ✖ 4%

2. ✔ 6%

3. ✖ 8%

4. ✖ 10%

Question Number : 52 Question Id : 16794318827 Question Type : MCQ Option Shuffling : Yes Display Question Number : Yes
Single Line Question Option : No Option Orientation : Vertical

Correct Marks : 1 Wrong Marks : 0.25

2 वर्ष के लिए ₹ 14,400 पर चक्रवृद्धि ब्याज और साधारण ब्याज के बीच अंतर ₹ 51.84 है। वार्षिक ब्याज दर क्या है?

Options :

1. ✖ 4%

2. ✓ 6%

3. ✗ 8%

4. ✗ 10%

Question Number : 53 Question Id : 16794318828 Question Type : MCQ Option Shuffling : Yes Display Question Number : Yes
Single Line Question Option : No Option Orientation : Vertical

Correct Marks : 1 Wrong Marks : 0.25

The sides of a triangle are 20 cm, 21 cm and 29 cm with each vertex as center, circles of radius 4 cm are drawn. What is the area of remaining part of the triangle after removing the portion of the three sectors common to triangle and circles in cm^2 ($\pi = 3.14$)

Options :

1. ✗ 153.48

2. ✓ 184.88

3. ✗ 191.16

4. ✗ 197.44

Question Number : 53 Question Id : 16794318828 Question Type : MCQ Option Shuffling : Yes Display Question Number : Yes
Single Line Question Option : No Option Orientation : Vertical

Correct Marks : 1 Wrong Marks : 0.25

एक त्रिभुज की भुजाएं 20 cm, 21 cm, और 29 cm हैं। त्रिभुज के प्रत्येक शीर्ष पर केन्द्र के साथ 4 cm त्रिज्या के वृत्त खींचे जाते हैं। त्रिभुज और वृत्तों के लिए सामान्य तीन क्षेत्रों के हिस्से को हटाने के बाद त्रिभुज के शेष भाग का क्षेत्रफल cm^2 में क्या है? ($\pi = 3.14$)

Options :

1. ✗ 153.48

2. ✓ 184.88

3. ✗ 191.16

4. ✗ 197.44

Question Number : 54 Question Id : 16794318829 Question Type : MCQ Option Shuffling : Yes Display Question Number : Yes
Single Line Question Option : No Option Orientation : Vertical

Correct Marks : 1 Wrong Marks : 0.25

The radius of a sphere is decreased by 60%. What is decrease percent in the value?

Options :

1. ✗ 60%

2. ✖ 75.8%

3. ✖ 86.4%

4. ✔ 93.6%

Question Number : 54 Question Id : 16794318829 Question Type : MCQ Option Shuffling : Yes Display Question Number : Yes
Single Line Question Option : No Option Orientation : Vertical

Correct Marks : 1 Wrong Marks : 0.25

एक गोले की त्रिज्या 60% कम कर दी जाती है। उसके मान में गिरावट प्रतिशत कितना है?

Options :

1. ✖ 60%

2. ✖ 75.8%

3. ✖ 86.4%

4. ✔ 93.6%

Question Number : 55 Question Id : 16794318830 Question Type : MCQ Option Shuffling : Yes Display Question Number : Yes
Single Line Question Option : No Option Orientation : Vertical

Correct Marks : 1 Wrong Marks : 0.25

The efficiency of A, B and C are in the ratio 3 : 4 : 7. They can together complete a work in 18 days. In how many days, C alone will complete that work?

Options :

1. ✔ 36

2. ✖ 48

3. ✖ 63

4. ✖ 84

Question Number : 55 Question Id : 16794318830 Question Type : MCQ Option Shuffling : Yes Display Question Number : Yes
Single Line Question Option : No Option Orientation : Vertical

Correct Marks : 1 Wrong Marks : 0.25

A, B और C की कार्यक्षमता 3 : 4 : 7 के अनुपात में है। वे एक साथ मिलकर एक काम को 18 दिन में पूरा कर सकते हैं। अकेले C उस काम को कितने दिन में पूरा करेगा?

Options :

1. ✔ 36

2. ✖ 48

3. ✖ 63

4. ✖ 84

Question Number : 56 Question Id : 16794318831 Question Type : MCQ Option Shuffling : Yes Display Question Number : Yes
Single Line Question Option : No Option Orientation : Vertical

Correct Marks : 1 Wrong Marks : 0.25

200 persons working 9 hours a day can complete $\frac{1}{4}$ th of the work in 10 days. How many persons can complete the whole work working 6 hours a day in 20 days?

Options :

1. ✖ 400

2. ✖ 450

3. ✖ 500

4. ✔ 600

Question Number : 56 Question Id : 16794318831 Question Type : MCQ Option Shuffling : Yes Display Question Number : Yes
Single Line Question Option : No Option Orientation : Vertical

Correct Marks : 1 Wrong Marks : 0.25

दिन में 9 घंटे काम करने वाले 200 व्यक्ति 10 दिन में $\frac{1}{4}$ (एक-चौथाई) काम पूरा कर सकते हैं। दिन में 6 घंटे काम करने वाले कितने व्यक्ति पूरे काम को 20 दिन में पूरा कर सकते हैं?

Options :

1. ✖ 400

2. ✖ 450

3. ✖ 500

4. ✔ 600

Question Number : 57 Question Id : 16794318832 Question Type : MCQ Option Shuffling : Yes Display Question Number : Yes
Single Line Question Option : No Option Orientation : Vertical

Correct Marks : 1 Wrong Marks : 0.25

A boat can travel 18 km upstream and 15 km downstream in 4 hours 15 minutes. If the speed of the bottle in still water is 9 km/h, what is the speed of stream in km/h?

Options :

1. ✖ 2

2. ✖ 2.5

3. ✓ 3

4. ✗ 3.5

Question Number : 57 Question Id : 16794318832 Question Type : MCQ Option Shuffling : Yes Display Question Number : Yes
Single Line Question Option : No Option Orientation : Vertical

Correct Marks : 1 Wrong Marks : 0.25

एक नाव 4 घंटे 15 मिनट में 18 km धारा-प्रतिकूल (अपस्ट्रीम) और 15 km धारा-अनुकूल (डाउनस्ट्रीम) जा सकती है। यदि स्थिर पानी में नाव की गति 9 km/h है तो धारा की गति km/h में क्या है?

Options :

1. ✗ 2

2. ✗ 2.5

3. ✓ 3

4. ✗ 3.5

Question Number : 58 Question Id : 16794318833 Question Type : MCQ Option Shuffling : Yes Display Question Number : Yes
Single Line Question Option : No Option Orientation : Vertical

Correct Marks : 1 Wrong Marks : 0.25

A person covers certain distance at 10 km/h and equal distance with a speed by x km/h. If his average speed for whole journey is 12 km/h, what is the value of x ?

Options :

1. ✗ 12

2. ✓ 15

3. ✗ 16

4. ✗ 18

Question Number : 58 Question Id : 16794318833 Question Type : MCQ Option Shuffling : Yes Display Question Number : Yes
Single Line Question Option : No Option Orientation : Vertical

Correct Marks : 1 Wrong Marks : 0.25

यदि व्यक्ति 10 km/h की गति से कुछ दूरी और x km/h की गति से उतनी ही दूरी तय करता है। यदि पूरी यात्रा के लिए उसकी औसत गति 12 km/h है तो x का मान क्या है?

Options :

1. ✗ 12

2. ✓ 15

3. ✖ 16

4. ✖ 18

Sub-Section Number: 2
Sub-Section Id: 1679431195
Question Shuffling Allowed : Yes

Question Id : 16794318834 Question Type : COMPREHENSION Sub Question Shuffling Allowed : Yes Group Comprehension Questions : No

Question Numbers : (59 to 60)

Question Label : Comprehension

The following table gives the marks obtained by students in the given class interval read the table and answer the following questions.

Class Interval	0-10	10-20	20-30	30-40	40-50
No. of Students	10	15	x	35	15

Sub questions

Question Number : 59 Question Id : 16794318835 Question Type : MCQ Option Shuffling : Yes Display Question Number : Yes Single Line Question Option : No Option Orientation : Vertical

Correct Marks : 1 Wrong Marks : 0.25

If mean marks of the students is 27.5, what is the value of x ?

Options :

1. ✔ 45

2. ✖ 40

3. ✖ 35

4. ✖ 30

Question Number : 60 Question Id : 16794318836 Question Type : MCQ Option Shuffling : Yes Display Question Number : Yes Single Line Question Option : No Option Orientation : Vertical

Correct Marks : 1 Wrong Marks : 0.25

If value of x is taken as 25 and the pie-chart is drawn, what will be the control angle of the sector sharing the number of students getting marks in the interval 30-40?

Options :

1. ✖ 118°

2. ✔ 126°

3. ✖ 132°

4. ✖ 138°

Question Id : 16794318834 Question Type : COMPREHENSION Sub Question Shuffling Allowed : Yes Group Comprehension Questions : No

Question Numbers : (59 to 60)

Question Label : Comprehension

निम्नलिखित तालिका एक निर्दिष्ट वर्ग अंतराल में छात्रों द्वारा प्राप्त अंक दर्शाती है। तालिका पढ़कर निम्नलिखित प्रश्नों के उत्तर दें ।

वर्ग अंतराल	0-10	10-20	20-30	30-40	40-50
छात्रों की संख्या	10	15	x	35	15

Sub questions

Question Number : 59 Question Id : 16794318835 Question Type : MCQ Option Shuffling : Yes Display Question Number : Yes Single Line Question Option : No Option Orientation : Vertical

Correct Marks : 1 Wrong Marks : 0.25

यदि छात्रों का माध्य अंक 27.5 है, तो x का मान क्या है?

Options :

1. ✔ 45

2. ✖ 40

3. ✖ 35

4. ✖ 30

Question Number : 60 Question Id : 16794318836 Question Type : MCQ Option Shuffling : Yes Display Question Number : Yes Single Line Question Option : No Option Orientation : Vertical

Correct Marks : 1 Wrong Marks : 0.25

यदि x का मान 25 लिया जाता है और पाई चार्ट तैयार किया जाता है, अंतराल 30-40 में अंक पाने वाले छात्रों की संख्या दर्शाने वाले क्षेत्र का केन्द्रीय कोण क्या होगा?

Options :

1. ✖ 118°
2. ✔ 126°
3. ✖ 132°
4. ✖ 138°

General English

Group Number :	4
Group Id :	167943707
Group Maximum Duration :	0
Group Minimum Duration :	0
Revisit allowed for view? :	No
Revisit allowed for edit? :	No
Break time:	0
Group Marks:	20
Revisit allowed for group Instructions? :	Yes
Maximum Instruction Time:	0
Minimum Instruction Time:	0

General English

Section Id :	167943772
Section Number :	1
Section type :	Online
Mandatory or Optional:	Mandatory
Number of Questions:	16
Number of Questions to be attempted:	16
Section Marks:	20
Display Number Panel:	Yes
Group All Questions:	No

Sub-Section Number:	1
Sub-Section Id:	1679431196
Question Shuffling Allowed :	Yes

Correct Marks : 1 Wrong Marks : 0.25

One of the options is a complete sentence? Identify it.

Options :

1. ✖ Flesh and Blood.
2. ✖ The fish in water.
3. ✖ Bharata Natyam.
4. ✔ Humans are resilient beings.

Question Number : 61 Question Id : 16794318837 Question Type : MCQ Option Shuffling : Yes Display Question Number : Yes
Single Line Question Option : No Option Orientation : Vertical

Correct Marks : 1 Wrong Marks : 0.25

One of the options is a complete sentence? Identify it.

Options :

1. ✖ Flesh and Blood.
2. ✖ The fish in water.
3. ✖ Bharata Natyam.
4. ✔ Humans are resilient beings.

Question Number : 62 Question Id : 16794318838 Question Type : MCQ Option Shuffling : Yes Display Question Number : Yes
Single Line Question Option : No Option Orientation : Vertical

Correct Marks : 1 Wrong Marks : 0.25

Choose a suitable clause to complete the sentence.

Young people are disoriented, _____.

Options :

1. ✔ because of a sense of insecurity.
2. ✖ in spite of a sense of insecurity.
3. ✖ although insecurity.
4. ✖ despite a sense of insecurity.

Question Number : 62 Question Id : 16794318838 Question Type : MCQ Option Shuffling : Yes Display Question Number : Yes
Single Line Question Option : No Option Orientation : Vertical

Correct Marks : 1 Wrong Marks : 0.25

Choose a suitable clause to complete the sentence.

Young people are disoriented, _____.

Options :

1. ☒ because of a sense of insecurity.
2. ☐ in spite of a sense of insecurity.
3. ☐ although insecurity.
4. ☐ despite a sense of insecurity.

Question Number : 63 Question Id : 16794318839 Question Type : MCQ Option Shuffling : Yes Display Question Number : Yes
Single Line Question Option : No Option Orientation : Vertical

Correct Marks : 1 Wrong Marks : 0.25

Which sentence makes most sense?

Options :

1. ☒ One should not consume drugs, whatever the circumstances.
2. ☐ One should not consume drugs, whoever the circumstances.
3. ☐ One should not consume drugs, whichever the circumstances.
4. ☐ One should not consume drugs, whenever the circumstances.

Question Number : 63 Question Id : 16794318839 Question Type : MCQ Option Shuffling : Yes Display Question Number : Yes
Single Line Question Option : No Option Orientation : Vertical

Correct Marks : 1 Wrong Marks : 0.25

Which sentence makes most sense?

Options :

1. ☒ One should not consume drugs, whatever the circumstances.
2. ☐ One should not consume drugs, whoever the circumstances.
3. ☐ One should not consume drugs, whichever the circumstances.
4. ☐ One should not consume drugs, whenever the circumstances.

Question Number : 64 Question Id : 16794318840 Question Type : MCQ Option Shuffling : Yes Display Question Number : Yes
Single Line Question Option : No Option Orientation : Vertical

Correct Marks : 1 Wrong Marks : 0.25

The Minister _____ by the 2PM flight tomorrow.

Options :

1. ✖ has arrived
2. ✖ has been arriving
3. ✖ has arrived
4. ✔ will be arriving

Question Number : 64 Question Id : 16794318840 Question Type : MCQ Option Shuffling : Yes Display Question Number : Yes
Single Line Question Option : No Option Orientation : Vertical

Correct Marks : 1 Wrong Marks : 0.25

The Minister _____ by the 2PM flight tomorrow.

Options :

1. ✖ has arrived
2. ✖ has been arriving
3. ✖ has arrived
4. ✔ will be arriving

Question Number : 65 Question Id : 16794318841 Question Type : MCQ Option Shuffling : Yes Display Question Number : Yes
Single Line Question Option : No Option Orientation : Vertical

Correct Marks : 1 Wrong Marks : 0.25

Rupali has _____ her past and begin a new phase in her life.

Options :

1. ✖ forgetting
2. ✔ to forget
3. ✖ to forgetful
4. ✖ to be forgetting

Question Number : 65 Question Id : 16794318841 Question Type : MCQ Option Shuffling : Yes Display Question Number : Yes
Single Line Question Option : No Option Orientation : Vertical

Correct Marks : 1 Wrong Marks : 0.25

Rupali has _____ her past and begin a new phase in her life.

Options :

1. ✖ forgetting
2. ✔ to forget
3. ✖ to forgetful
4. ✖ to be forgetting

Question Number : 66 Question Id : 16794318842 Question Type : MCQ Option Shuffling : Yes Display Question Number : Yes
Single Line Question Option : No Option Orientation : Vertical

Correct Marks : 1 Wrong Marks : 0.25

'Do you want me to wait forever?', the interviewee asked. The Reported Speech of this sentence would be _____

Options :

1. ✖ The interviewee enquired whether he/she wants him to wait forever.
2. ✖ The interviewee enquired whether he/she wanted him to be waiting forever.
3. ✖ The interviewee enquired whether he/she would wanting him to wait forever.
4. ✔ The interviewee enquired whether he/she wanted him to wait forever.

Question Number : 66 Question Id : 16794318842 Question Type : MCQ Option Shuffling : Yes Display Question Number : Yes
Single Line Question Option : No Option Orientation : Vertical

Correct Marks : 1 Wrong Marks : 0.25

'Do you want me to wait forever?', the interviewee asked. The Reported Speech of this sentence would be _____

Options :

1. ✖ The interviewee enquired whether he/she wants him to wait forever.
2. ✖ The interviewee enquired whether he/she wanted him to be waiting forever.
3. ✖ The interviewee enquired whether he/she would wanting him to wait forever.
4. ✔ The interviewee enquired whether he/she wanted him to wait forever.

Question Number : 67 Question Id : 16794318843 Question Type : MCQ Option Shuffling : Yes Display Question Number : Yes
Single Line Question Option : No Option Orientation : Vertical

Correct Marks : 1 Wrong Marks : 0.25

They will embark on the journey _____

(Provide the appropriate question tag)

Options :

1. ☒ won't they?

2. ☐ don't they?

3. ☐ can't they?

4. ☐ aren't they?

Question Number : 67 Question Id : 16794318843 Question Type : MCQ Option Shuffling : Yes Display Question Number : Yes
Single Line Question Option : No Option Orientation : Vertical

Correct Marks : 1 Wrong Marks : 0.25

They will embark on the journey _____

(Provide the appropriate question tag)

Options :

1. ☒ won't they?

2. ☐ don't they?

3. ☐ can't they?

4. ☐ aren't they?

Question Number : 68 Question Id : 16794318844 Question Type : MCQ Option Shuffling : Yes Display Question Number : Yes
Single Line Question Option : No Option Orientation : Vertical

Correct Marks : 1 Wrong Marks : 0.25

His audacious move enabled team India to win.

(Provide the appropriate synonym for the underlined word)

Options :

1. ☐ planned

2. ☐ concealed

3. ☒ brave

4. ☐ paused

Question Number : 68 Question Id : 16794318844 Question Type : MCQ Option Shuffling : Yes Display Question Number : Yes
Single Line Question Option : No Option Orientation : Vertical

Correct Marks : 1 Wrong Marks : 0.25

His audacious move enabled team India to win.

(Provide the appropriate synonym for the underlined word)

Options :

1. ✖ planned
2. ✖ concealed
3. ✔ brave
4. ✖ paused

Question Number : 69 Question Id : 16794318845 Question Type : MCQ Option Shuffling : Yes Display Question Number : Yes
Single Line Question Option : No Option Orientation : Vertical

Correct Marks : 1 Wrong Marks : 0.25

The luscious sweetmeats were a hit with the guests.

(Provide the appropriate synonym for the underlined word)

Options :

1. ✔ Sumptuous
2. ✖ Bland
3. ✖ Deluxe
4. ✖ Splendid

Question Number : 69 Question Id : 16794318845 Question Type : MCQ Option Shuffling : Yes Display Question Number : Yes
Single Line Question Option : No Option Orientation : Vertical

Correct Marks : 1 Wrong Marks : 0.25

The luscious sweetmeats were a hit with the guests.

(Provide the appropriate synonym for the underlined word)

Options :

1. ✔ Sumptuous
2. ✖ Bland
3. ✖ Deluxe
4. ✖ Splendid

Question Number : 70 Question Id : 16794318846 Question Type : MCQ Option Shuffling : Yes Display Question Number : Yes
Single Line Question Option : No Option Orientation : Vertical

Correct Marks : 1 Wrong Marks : 0.25

Arrange the following sentence in meaningful and grammatically correct order.

- A. The Maldives is a nation which is referred to as 'Isles under the Sun'
- B. The country is a tourists paradise.
- C. It comprises more than 1200 islands
- D. Each of these islands is a visual treat.
- E. Everyone who has visited these islands will vouch for that.

Options :

1. ✖ ADCBE

2. ✖ EDCAB

3. ✔ ACDBE

4. ✖ CDABC

Question Number : 70 Question Id : 16794318846 Question Type : MCQ Option Shuffling : Yes Display Question Number : Yes
Single Line Question Option : No Option Orientation : Vertical

Correct Marks : 1 Wrong Marks : 0.25

Arrange the following sentence in meaningful and grammatically correct order.

- A. The Maldives is a nation which is referred to as 'Isles under the Sun'
- B. The country is a tourists paradise.
- C. It comprises more than 1200 islands
- D. Each of these islands is a visual treat.
- E. Everyone who has visited these islands will vouch for that.

Options :

1. ✖ ADCBE

2. ✖ EDCAB

3. ✔ ACDBE

4. ✖ CDABC

Question Number : 71 Question Id : 16794318847 Question Type : MCQ Option Shuffling : Yes Display Question Number : Yes
Single Line Question Option : No Option Orientation : Vertical

Correct Marks : 1 Wrong Marks : 0.25

He has a notion that he's the strongest person in town.

(Provide the appropriate antonym for the underlined word)

Options :

1. ✖ Studio
2. ✖ Feeling
3. ✖ Idea
4. ✔ Misunderstanding

Question Number : 71 Question Id : 16794318847 Question Type : MCQ Option Shuffling : Yes Display Question Number : Yes
Single Line Question Option : No Option Orientation : Vertical

Correct Marks : 1 Wrong Marks : 0.25

He has a notion that he's the strongest person in town.

(Provide the appropriate antonym for the underlined word)

Options :

1. ✖ Studio
2. ✖ Feeling
3. ✖ Idea
4. ✔ Misunderstanding

Question Number : 72 Question Id : 16794318848 Question Type : MCQ Option Shuffling : Yes Display Question Number : Yes
Single Line Question Option : No Option Orientation : Vertical

Correct Marks : 1 Wrong Marks : 0.25

The student's indolent nature was the cause for his poor performance.

(Provide the appropriate antonym for the underlined word)

Options :

1. ✖ released
2. ✔ diligent
3. ✖ sluggish
4. ✖ lazy

Question Number : 72 Question Id : 16794318848 Question Type : MCQ Option Shuffling : Yes Display Question Number : Yes
Single Line Question Option : No Option Orientation : Vertical

Correct Marks : 1 Wrong Marks : 0.25

The student's indolent nature was the cause for his poor performance.

(Provide the appropriate antonym for the underlined word)

Options :

1. ✖ released

2. ✔ diligent

3. ✖ sluggish

4. ✖ lazy

Question Number : 73 Question Id : 16794318849 Question Type : MCQ Option Shuffling : Yes Display Question Number : Yes
Single Line Question Option : No Option Orientation : Vertical

Correct Marks : 1 Wrong Marks : 0.25

The hotel is right _____ the road, opposite to the court.

(Choose the correct preposition)

Options :

1. ✖ about

2. ✖ on

3. ✔ across

4. ✖ inside

Question Number : 73 Question Id : 16794318849 Question Type : MCQ Option Shuffling : Yes Display Question Number : Yes
Single Line Question Option : No Option Orientation : Vertical

Correct Marks : 1 Wrong Marks : 0.25

The hotel is right _____ the road, opposite to the court.

(Choose the correct preposition)

Options :

1. ✖ about

2. ✖ on

3. ✔ across

4. ✖ inside

Question Number : 74 Question Id : 16794318850 Question Type : MCQ Option Shuffling : Yes Display Question Number : Yes
Single Line Question Option : No Option Orientation : Vertical

Correct Marks : 1 Wrong Marks : 0.25

_____ a point, there is no meaning in talking to her.

(Choose the correct preposition)

Options :

1. ✖ Besides
2. ✖ Beside
3. ✔ Beyond
4. ✖ Below

Question Number : 74 Question Id : 16794318850 Question Type : MCQ Option Shuffling : Yes Display Question Number : Yes
Single Line Question Option : No Option Orientation : Vertical

Correct Marks : 1 Wrong Marks : 0.25

_____ a point, there is no meaning in talking to her.

(Choose the correct preposition)

Options :

1. ✖ Besides
2. ✖ Beside
3. ✔ Beyond
4. ✖ Below

Question Number : 75 Question Id : 16794318851 Question Type : MCQ Option Shuffling : Yes Display Question Number : Yes
Single Line Question Option : No Option Orientation : Vertical

Correct Marks : 1 Wrong Marks : 0.25

Depend on Google Maps. _____ you will get lost.

(Provide the appropriate conjunction)

Options :

1. ✖ yet
2. ✖ though
3. ✖ despite

4. ✓ otherwise

Question Number : 75 Question Id : 16794318851 Question Type : MCQ Option Shuffling : Yes Display Question Number : Yes
Single Line Question Option : No Option Orientation : Vertical

Correct Marks : 1 Wrong Marks : 0.25

Depend on Google Maps. _____ you will get lost.

(Provide the appropriate conjunction)

Options :

1. ✗ yet

2. ✗ though

3. ✗ despite

4. ✓ otherwise

Sub-Section Number:	2
Sub-Section Id:	1679431197
Question Shuffling Allowed :	Yes

Question Id : 16794318852 Question Type : COMPREHENSION Sub Question Shuffling Allowed : Yes Group Comprehension
Questions : No

Question Numbers : (76 to 80)

Question Label : Comprehension

Read the following passage and answer the questions that follow.

No one survives on their own, and no one thrives alone, either. Yes, you might feel an excruciating loneliness after one of life's hurtful blows. But we are simply not built to survive solo. Isolation will kill us, not protect us. We humans are social animals made for community. Even when family and friends annoy the hell out of us, they remain an essential part of our survivorship.

One must find peers, friends, and family to break the isolation and loneliness that come in the aftermath of crisis. We have to let the people in our life *into* our life. In our hour of need, we may even depend on the grace of mere acquaintances or total strangers. Some will surprise us, coming out of the woodwork to help. Others – very often our best buddies and closest siblings – will disappoint us terribly.

I often told myself during points of crisis when I felt tempted to isolate, "Dammit, just make a call to someone . . . " To survive, we must find empathetic souls – sympathetic surrogates. Our inner *victim* may shun this, preferring to retreat into a shell. However, our inner *survivor* craves people. We need to find people who understand what we are going through. Social support is absolutely essential.

Sub questions

Question Number : 76 Question Id : 16794318853 Question Type : MCQ Option Shuffling : Yes Display Question Number : Yes
Single Line Question Option : No Option Orientation : Vertical

Correct Marks : 1 Wrong Marks : 0.25

After one of life's hurtful blows you may feel:

Options :

1. ✖ a sad loneliness.
2. ✔ a tormenting loneliness.
3. ✖ a fighting loneliness.
4. ✖ a helping loneliness.

Question Number : 77 Question Id : 16794318854 Question Type : MCQ Option Shuffling : Yes Display Question Number : Yes
Single Line Question Option : No Option Orientation : Vertical

Correct Marks : 1 Wrong Marks : 0.25

'aftermath' means

Options :

1. ✖ Excursion

2. ✖ Percussion

3. ✔ Repercussions

4. ✖ Concussion

Question Number : 78 Question Id : 16794318855 Question Type : MCQ Option Shuffling : Yes Display Question Number : Yes
Single Line Question Option : No Option Orientation : Vertical

Correct Marks : 1 Wrong Marks : 0.25

These people form an integral part of our survivorship:

Options :

1. ✖ Family and kin.

2. ✖ Friends and Counselors.

3. ✖ Counselors and family.

4. ✔ Family and friends.

Question Number : 79 Question Id : 16794318856 Question Type : MCQ Option Shuffling : Yes Display Question Number : Yes
Single Line Question Option : No Option Orientation : Vertical

Correct Marks : 1 Wrong Marks : 0.25

This is how siblings and strangers could respond in your crisis point

Options :

1. ✔ Strangers lend a helping hand and siblings will sadden us.

2. ✖ Siblings lend a helping hand and strangers will sadden us.

3. ✖ Strangers will land us into trouble and siblings will sadden us.

4. ✖ Siblings lend a helping hand and strangers will enchant us.

Question Number : 80 Question Id : 16794318857 Question Type : MCQ Option Shuffling : Yes Display Question Number : Yes
Single Line Question Option : No Option Orientation : Vertical

Correct Marks : 1 Wrong Marks : 0.25

The word empathetic means:

Options :

1. ✖ Showing compassion
2. ✔ Showing an ability to understand and share the feelings of another.
3. ✖ To be benevolent
4. ✖ To be concerned about others

Question Id : 16794318852 Question Type : COMPREHENSION Sub Question Shuffling Allowed : Yes Group Comprehension Questions : No

Question Numbers : (76 to 80)

Question Label : Comprehension

Read the following passage and answer the questions that follow.

No one survives on their own, and no one thrives alone, either. Yes, you might feel an excruciating loneliness after one of life's hurtful blows. But we are simply not built to survive solo. Isolation will kill us, not protect us. We humans are social animals made for community. Even when family and friends annoy the hell out of us, they remain an essential part of our survivorship.

One must find peers, friends, and family to break the isolation and loneliness that come in the aftermath of crisis. We have to let the people in our life *into* our life. In our hour of need, we may even depend on the grace of mere acquaintances or total strangers. Some will surprise us, coming out of the woodwork to help. Others – very often our best buddies and closest siblings – will disappoint us terribly.

I often told myself during points of crisis when I felt tempted to isolate, "Dammit, just make a call to someone . . . " To survive, we must find empathetic souls – sympathetic surrogates. Our inner *victim* may shun this, preferring to retreat into a shell. However, our inner *survivor* craves people. We need to find people who understand what we are going through. Social support is absolutely essential.

Sub questions

Question Number : 76 Question Id : 16794318853 Question Type : MCQ Option Shuffling : Yes Display Question Number : Yes Single Line Question Option : No Option Orientation : Vertical

Correct Marks : 1 Wrong Marks : 0.25

After one of life's hurtful blows you may feel:

Options :

1. ✖ a sad loneliness.

2. ☒ a tormenting loneliness.
3. ☐ a fighting loneliness.
4. ☐ a helping loneliness.

Question Number : 77 Question Id : 16794318854 Question Type : MCQ Option Shuffling : Yes Display Question Number : Yes
Single Line Question Option : No Option Orientation : Vertical
Correct Marks : 1 Wrong Marks : 0.25

‘aftermath’ means

Options :

1. ☐ Excursion
2. ☐ Percussion
3. ☒ Repercussions
4. ☐ Concussion

Question Number : 78 Question Id : 16794318855 Question Type : MCQ Option Shuffling : Yes Display Question Number : Yes
Single Line Question Option : No Option Orientation : Vertical
Correct Marks : 1 Wrong Marks : 0.25

These people form an integral part of our survivorship:

Options :

1. ☐ Family and kin.
2. ☐ Friends and Counselors.
3. ☐ Counselors and family.
4. ☒ Family and friends.

Question Number : 79 Question Id : 16794318856 Question Type : MCQ Option Shuffling : Yes Display Question Number : Yes
Single Line Question Option : No Option Orientation : Vertical
Correct Marks : 1 Wrong Marks : 0.25

This is how siblings and strangers could respond in your crisis point

Options :

1. ☒ Strangers lend a helping hand and siblings will sadden us.

2. ✖ Siblings lend a helping hand and strangers will sadden us.

3. ✖ Strangers will land us into trouble and siblings will sadden us.

4. ✖ Siblings lend a helping hand and strangers will enchant us.

Question Number : 80 Question Id : 16794318857 Question Type : MCQ Option Shuffling : Yes Display Question Number : Yes
Single Line Question Option : No Option Orientation : Vertical
Correct Marks : 1 Wrong Marks : 0.25

The word empathetic means:

Options :

1. ✖ Showing compassion

2. ✔ Showing an ability to understand and share the feelings of another.

3. ✖ To be benevolent

4. ✖ To be concerned about others

General Hindi

Group Number :	5
Group Id :	167943708
Group Maximum Duration :	0
Group Minimum Duration :	0
Revisit allowed for view? :	No
Revisit allowed for edit? :	No
Break time:	0
Group Marks:	20
Revisit allowed for group Instructions? :	Yes
Maximum Instruction Time:	0
Minimum Instruction Time:	0

General Hindi

Section Id :	167943773
Section Number :	1
Section type :	Online
Mandatory or Optional:	Mandatory
Number of Questions:	16
Number of Questions to be attempted:	16

Section Marks:	20
Display Number Panel:	Yes
Group All Questions:	No

Sub-Section Number:	1
Sub-Section Id:	1679431198
Question Shuffling Allowed :	Yes

Question Id : 16794318858 Question Type : COMPREHENSION Sub Question Shuffling Allowed : Yes Group Comprehension Questions : No

Question Numbers : (81 to 85)

Question Label : Comprehension

नीचे दिये गए गद्यांश को पढ़कर पूछे गये प्रश्नों के उत्तर दीजिए।

शुक्ल जी के निबंधों की भाषा बहुत कसी हुई, तथ्य निरूपिणी एवं उपयुक्त होती है। वस्तुतः उनके निबंध-लेखन से खड़ी बोली गद्य गंभीर विचारों की अभिव्यक्ति का समर्थ माध्यम बना। शुक्ल जी के निबंधों में गंभीर विचारों के बीच-बीच विशेषतः दृष्टांत प्रस्तुत करते समय, व्यंग्य विनोद के छिंटे भी होते हैं। उनका व्यंग्य शिष्ट किंतु प्रभाव में अचूक होता है। इसी समय रवीन्द्रनाथ के प्रभाव से भावात्मक शैली में निबंध लिखे गए। वे रहस्योन्मुख होते थे। उन्हें आध्यात्मिक भी समझा जा सकता है और श्रृंगारी भी।

Sub questions

Question Number : 81 Question Id : 16794318859 Question Type : MCQ Option Shuffling : Yes Display Question Number : Yes Single Line Question Option : No Option Orientation : Vertical

Correct Marks : 1 Wrong Marks : 0.25

शुक्लजी के निबंधों की भाषा की विशेषता नहीं है-

Options :

1. ✖ कसी हुई
2. ✖ तथ्य निरूपणी
3. ✖ उपयुक्त
4. ✔ प्रतीकात्मक

Question Number : 82 Question Id : 16794318860 Question Type : MCQ Option Shuffling : Yes Display Question Number : Yes Single Line Question Option : No Option Orientation : Vertical

Correct Marks : 1 Wrong Marks : 0.25

शुक्लजी के निबंधों से खड़ी बोली गद्य किसकी अभिव्यक्ति का माध्यम बना?

Options :

1. ✖ भावनाओं की
2. ✖ संवेदनाओं की
3. ✔ विचारों की
4. ✖ कल्पनाओं की

Question Number : 83 Question Id : 16794318861 Question Type : MCQ Option Shuffling : Yes Display Question Number : Yes
Single Line Question Option : No Option Orientation : Vertical

Correct Marks : 1 Wrong Marks : 0.25

दृष्टांत का आशय है-

Options :

1. ✖ दृश्य
2. ✔ उदाहरण
3. ✖ व्याख्या
4. ✖ विश्लेषण

Question Number : 84 Question Id : 16794318862 Question Type : MCQ Option Shuffling : Yes Display Question Number : Yes
Single Line Question Option : No Option Orientation : Vertical

Correct Marks : 1 Wrong Marks : 0.25

किसके प्रभाव से भावात्मक शैली में निबंध लिखे गये?

Options :

1. ✔ रवीन्द्रनाथ
2. ✖ शरतचन्द्र
3. ✖ प्रेमचन्द
4. ✖ महात्मा गाँधी

Question Number : 85 Question Id : 16794318863 Question Type : MCQ Option Shuffling : Yes Display Question Number : Yes
Single Line Question Option : No Option Orientation : Vertical

Correct Marks : 1 Wrong Marks : 0.25

‘आध्यात्मिक’ का आशय है-

Options :

1. ✓ आत्मा-परमात्मा से संबंधित
2. ✗ धर्म-राजनीति से संबंधित
3. ✗ काव्य-शास्त्र से संबंधित
4. ✗ मनोविज्ञान से संबंधित

Question Id : 16794318858 Question Type : COMPREHENSION Sub Question Shuffling Allowed : Yes Group Comprehension Questions : No

Question Numbers : (81 to 85)

Question Label : Comprehension

नीचे दिये गए गद्यांश को पढ़कर पूछे गये प्रश्नों के उत्तर दीजिए।

शुक्ल जी के निबंधों की भाषा बहुत कसी हुई, तथ्य निरूपिणी एवं उपयुक्त होती है। वस्तुतः उनके निबंध-लेखन से खड़ी बोली गद्य गंभीर विचारों की अभिव्यक्ति का समर्थ माध्यम बना। शुक्ल जी के निबंधों में गंभीर विचारों के बीच-बीच विशेषतः दृष्टांत प्रस्तुत करते समय, व्यंग्य विनोद के छिंटे भी होते हैं। उनका व्यंग्य शिष्ट किंतु प्रभाव में अचूक होता है। इसी समय रवीन्द्रनाथ के प्रभाव से भावात्मक शैली में निबंध लिखे गए। वे रहस्योन्मुख होते थे। उन्हें आध्यात्मिक भी समझा जा सकता है और श्रृंगारी भी।

Sub questions

Question Number : 81 Question Id : 16794318859 Question Type : MCQ Option Shuffling : Yes Display Question Number : Yes Single Line Question Option : No Option Orientation : Vertical

Correct Marks : 1 Wrong Marks : 0.25

शुक्लजी के निबंधों की भाषा की विशेषता नहीं है-

Options :

1. ✗ कसी हुई
2. ✗ तथ्य निरूपणी
3. ✗ उपयुक्त
4. ✓ प्रतीकात्मक

Question Number : 82 Question Id : 16794318860 Question Type : MCQ Option Shuffling : Yes Display Question Number : Yes
Single Line Question Option : No Option Orientation : Vertical

Correct Marks : 1 Wrong Marks : 0.25

शुक्लजी के निबंधों से खड़ी बोली गद्य किसकी
अभिव्यक्ति का माध्यम बना?

Options :

1. ✖ भावनाओं की
2. ✖ संवेदनाओं की
3. ✔ विचारों की
4. ✖ कल्पनाओं की

Question Number : 83 Question Id : 16794318861 Question Type : MCQ Option Shuffling : Yes Display Question Number : Yes
Single Line Question Option : No Option Orientation : Vertical

Correct Marks : 1 Wrong Marks : 0.25

दृष्टांत का आशय है-

Options :

1. ✖ दृश्य
2. ✔ उदाहरण
3. ✖ व्याख्या
4. ✖ विश्लेषण

Question Number : 84 Question Id : 16794318862 Question Type : MCQ Option Shuffling : Yes Display Question Number : Yes
Single Line Question Option : No Option Orientation : Vertical

Correct Marks : 1 Wrong Marks : 0.25

किसके प्रभाव से भावात्मक शैली में निबंध लिखे
गये?

Options :

1. ✔ रवीन्द्रनाथ
2. ✖ शरतचन्द्र
3. ✖ प्रेमचन्द

4. ✖ महात्मा गाँधी

Question Number : 85 Question Id : 16794318863 Question Type : MCQ Option Shuffling : Yes Display Question Number : Yes
Single Line Question Option : No Option Orientation : Vertical

Correct Marks : 1 Wrong Marks : 0.25

‘आध्यात्मिक’ का आशय है-

Options :

1. ✔ आत्मा-परमात्मा से संबंधित

2. ✖ धर्म-राजनीति से संबंधित

3. ✖ काव्य-शास्त्र से संबंधित

4. ✖ मनोविज्ञान से संबंधित

Sub-Section Number:

2

Sub-Section Id:

1679431199

Question Shuffling Allowed :

Yes

Question Number : 86 Question Id : 16794318864 Question Type : MCQ Option Shuffling : Yes Display Question Number : Yes
Single Line Question Option : No Option Orientation : Vertical

Correct Marks : 1 Wrong Marks : 0.25

निम्न में तत्सम शब्द कौन सा है?

Options :

1. ✖ नाक

2. ✖ नया

3. ✔ नग्न

4. ✖ नब्बे

Question Number : 86 Question Id : 16794318864 Question Type : MCQ Option Shuffling : Yes Display Question Number : Yes
Single Line Question Option : No Option Orientation : Vertical

Correct Marks : 1 Wrong Marks : 0.25

निम्न में तत्सम शब्द कौन सा है?

Options :

1. ✖ नाक

2. ✖ नया

3. ✔ नग्न

4. ✖ नब्बे

Question Number : 87 Question Id : 16794318865 Question Type : MCQ Option Shuffling : Yes Display Question Number : Yes
Single Line Question Option : No Option Orientation : Vertical

Correct Marks : 1 Wrong Marks : 0.25

निम्न में कौन सा शब्द तद्भव है?

Options :

1. ✖ जुष्ट

2. ✖ जीर्ण

3. ✖ निर्झर

4. ✔ टूटना

Question Number : 87 Question Id : 16794318865 Question Type : MCQ Option Shuffling : Yes Display Question Number : Yes
Single Line Question Option : No Option Orientation : Vertical

Correct Marks : 1 Wrong Marks : 0.25

निम्न में कौन सा शब्द तद्भव है?

Options :

1. ✖ जुष्ट

2. ✖ जीर्ण

3. ✖ निर्झर

4. ✔ टूटना

Question Number : 88 Question Id : 16794318866 Question Type : MCQ Option Shuffling : Yes Display Question Number : Yes
Single Line Question Option : No Option Orientation : Vertical

Correct Marks : 1 Wrong Marks : 0.25

निम्न में कौन सा शब्द देशज है?

Options :

1. ✖ आराम

2. ✓ ठेठ

3. ✗ अदावत

4. ✗ इण्टर

Question Number : 88 Question Id : 16794318866 Question Type : MCQ Option Shuffling : Yes Display Question Number : Yes
Single Line Question Option : No Option Orientation : Vertical

Correct Marks : 1 Wrong Marks : 0.25

निम्न में कौन सा शब्द देशज है?

Options :

1. ✗ आराम

2. ✓ ठेठ

3. ✗ अदावत

4. ✗ इण्टर

Question Number : 89 Question Id : 16794318867 Question Type : MCQ Option Shuffling : Yes Display Question Number : Yes
Single Line Question Option : No Option Orientation : Vertical

Correct Marks : 1 Wrong Marks : 0.25

‘उजाला’ किस प्रकार की संज्ञा है?

Options :

1. ✗ भाववाचक

2. ✓ पदार्थवाचक

3. ✗ जातिवाचक

4. ✗ व्यक्तिवाचक

Question Number : 89 Question Id : 16794318867 Question Type : MCQ Option Shuffling : Yes Display Question Number : Yes
Single Line Question Option : No Option Orientation : Vertical

Correct Marks : 1 Wrong Marks : 0.25

‘उजाला’ किस प्रकार की संज्ञा है?

Options :

1. ✗ भाववाचक

2. ✓ पदार्थवाचक

3. ✖ जातिवाचक

4. ✖ व्यक्तिवाचक

Question Number : 90 Question Id : 16794318868 Question Type : MCQ Option Shuffling : Yes Display Question Number : Yes
Single Line Question Option : No Option Orientation : Vertical

Correct Marks : 1 Wrong Marks : 0.25

‘प्राचीन’ किस प्रकार का विशेषण है?

Options :

1. ✖ सार्वनामिक

2. ✖ संख्यावाचक

3. ✖ परिमाण बोधक

4. ✔ गुणवाचक

Question Number : 90 Question Id : 16794318868 Question Type : MCQ Option Shuffling : Yes Display Question Number : Yes
Single Line Question Option : No Option Orientation : Vertical

Correct Marks : 1 Wrong Marks : 0.25

‘प्राचीन’ किस प्रकार का विशेषण है?

Options :

1. ✖ सार्वनामिक

2. ✖ संख्यावाचक

3. ✖ परिमाण बोधक

4. ✔ गुणवाचक

Question Number : 91 Question Id : 16794318869 Question Type : MCQ Option Shuffling : Yes Display Question Number : Yes
Single Line Question Option : No Option Orientation : Vertical

Correct Marks : 1 Wrong Marks : 0.25

‘उल्लास’ का संधि विच्छेद होगा-

Options :

1. ✖ उत् + लस

2. ✔ उत् + लास

3. ✖ उत् + लस

4. ✖ उत् + लास

Question Number : 91 Question Id : 16794318869 Question Type : MCQ Option Shuffling : Yes Display Question Number : Yes
Single Line Question Option : No Option Orientation : Vertical

Correct Marks : 1 Wrong Marks : 0.25

‘उल्लास’ का संधि विच्छेद होगा-

Options :

1. ✖ उत् + लस

2. ✔ उत् + लास

3. ✖ उत् + लस

4. ✖ उत् + लास

Question Number : 92 Question Id : 16794318870 Question Type : MCQ Option Shuffling : Yes Display Question Number : Yes
Single Line Question Option : No Option Orientation : Vertical

Correct Marks : 1 Wrong Marks : 0.25

‘बेखटके’ में कौन सा समास है?

Options :

1. ✖ द्वंद्व

2. ✖ द्विगु

3. ✔ अव्ययीभाव

4. ✖ तत्पुरुष

Question Number : 92 Question Id : 16794318870 Question Type : MCQ Option Shuffling : Yes Display Question Number : Yes
Single Line Question Option : No Option Orientation : Vertical


Correct Marks : 1 Wrong Marks : 0.25

‘बेखटके’ में कौन सा समास है?

Options :

1. ✖ द्वंद्व

2. ✖ द्विगु

3.  अव्ययीभाव

4.  तत्पुरुष

Question Number : 93 Question Id : 16794318871 Question Type : MCQ Option Shuffling : Yes Display Question Number : Yes
Single Line Question Option : No Option Orientation : Vertical

Correct Marks : 1 Wrong Marks : 0.25


निम्न में से कौन सा शब्द स्त्रीलिंग है?

Options :

1.  हास्य

2.  हीरा

3.  हुक्म

4.  हरकत

Question Number : 93 Question Id : 16794318871 Question Type : MCQ Option Shuffling : Yes Display Question Number : Yes
Single Line Question Option : No Option Orientation : Vertical

Correct Marks : 1 Wrong Marks : 0.25


निम्न में से कौन सा शब्द स्त्रीलिंग है?

Options :

1.  हास्य

2.  हीरा

3.  हुक्म

4.  हरकत

Question Number : 94 Question Id : 16794318872 Question Type : MCQ Option Shuffling : Yes Display Question Number : Yes
Single Line Question Option : No Option Orientation : Vertical

Correct Marks : 1 Wrong Marks : 0.25

‘संयोग’ में उपसर्ग है?

Options :

1.  सम्

2.  सन्

3. ✖ स

4. ✖ योग

Question Number : 94 Question Id : 16794318872 Question Type : MCQ Option Shuffling : Yes Display Question Number : Yes
Single Line Question Option : No Option Orientation : Vertical

Correct Marks : 1 Wrong Marks : 0.25

‘संयोग’ में उपसर्ग है?

Options :

1. ✔ सम्

2. ✖ सन्

3. ✖ स

4. ✖ योग

Question Number : 95 Question Id : 16794318873 Question Type : MCQ Option Shuffling : Yes Display Question Number : Yes
Single Line Question Option : No Option Orientation : Vertical

Correct Marks : 1 Wrong Marks : 0.25

‘ईर्ष्यालु’ में प्रत्यय है-

Options :

1. ✖ लु

2. ✖ यालु

3. ✔ आलु

4. ✖ ई

Question Number : 95 Question Id : 16794318873 Question Type : MCQ Option Shuffling : Yes Display Question Number : Yes
Single Line Question Option : No Option Orientation : Vertical

Correct Marks : 1 Wrong Marks : 0.25

‘ईर्ष्यालु’ में प्रत्यय है-

Options :

1. ✖ लु

2. ✖ यालु

3.  आलु

4.  ई


Question Number : 96 Question Id : 16794318874 Question Type : MCQ Option Shuffling : Yes Display Question Number : Yes
Single Line Question Option : No Option Orientation : Vertical

Correct Marks : 1 Wrong Marks : 0.25

‘इच्छा’ का पर्यायवाची नहीं है-

Options :

1.  ईप्सा

2.  असूया

3.  स्पृहा

4.  ईहा

Question Number : 96 Question Id : 16794318874 Question Type : MCQ Option Shuffling : Yes Display Question Number : Yes
Single Line Question Option : No Option Orientation : Vertical

Correct Marks : 1 Wrong Marks : 0.25

‘इच्छा’ का पर्यायवाची नहीं है-

Options :

1.  ईप्सा

2.  असूया

3.  स्पृहा


4.  ईहा


Question Number : 97 Question Id : 16794318875 Question Type : MCQ Option Shuffling : Yes Display Question Number : Yes
Single Line Question Option : No Option Orientation : Vertical

Correct Marks : 1 Wrong Marks : 0.25

‘आचार’ का विलोम होगा-

Options :

1.  विचार

2.  समाचार

3. ✓ अनाचार

4. ✗ प्रचार

Question Number : 97 Question Id : 16794318875 Question Type : MCQ Option Shuffling : Yes Display Question Number : Yes
Single Line Question Option : No Option Orientation : Vertical

Correct Marks : 1 Wrong Marks : 0.25

‘आचार’ का विलोम होगा-

Options :

1. ✗ विचार

2. ✗ समाचार

3. ✓ अनाचार

4. ✗ प्रचार

Question Number : 98 Question Id : 16794318876 Question Type : MCQ Option Shuffling : Yes Display Question Number : Yes
Single Line Question Option : No Option Orientation : Vertical

Correct Marks : 1 Wrong Marks : 0.25

‘जो खाने योग्य न हो’ के लिए एक शब्द होगा-

Options :

1. ✗ दूषित

2. ✗ प्रदूषित

3. ✗ खाद्य

4. ✓ अखाद्य

Question Number : 98 Question Id : 16794318876 Question Type : MCQ Option Shuffling : Yes Display Question Number : Yes
Single Line Question Option : No Option Orientation : Vertical

Correct Marks : 1 Wrong Marks : 0.25

‘जो खाने योग्य न हो’ के लिए एक शब्द होगा-

Options :

1. ✗ दूषित

2. ✗ प्रदूषित

3. ✖ खादय

4. ✔ अखादय

Question Number : 99 Question Id : 16794318877 Question Type : MCQ Option Shuffling : Yes Display Question Number : Yes
Single Line Question Option : No Option Orientation : Vertical

Correct Marks : 1 Wrong Marks : 0.25

‘आदमी ने ऐसा विचार नहीं करना चाहिए।’ वाक्य में अशुद्ध अंश है-

Options :

1. ✔ आदमी ने

2. ✖ ऐसा विचार

3. ✖ नहीं

4. ✖ करना चाहिए।

Question Number : 99 Question Id : 16794318877 Question Type : MCQ Option Shuffling : Yes Display Question Number : Yes
Single Line Question Option : No Option Orientation : Vertical

Correct Marks : 1 Wrong Marks : 0.25

‘आदमी ने ऐसा विचार नहीं करना चाहिए।’ वाक्य में अशुद्ध अंश है-

Options :

1. ✔ आदमी ने

2. ✖ ऐसा विचार

3. ✖ नहीं

4. ✖ करना चाहिए।

Question Number : 100 Question Id : 16794318878 Question Type : MCQ Option Shuffling : Yes Display Question Number : Yes
Single Line Question Option : No Option Orientation : Vertical

Correct Marks : 1 Wrong Marks : 0.25

निम्न में वर्तनी की दृष्टि से शुद्ध शब्द कौन सा है?

Options :

1. ✖ अतिथी

2. ✔ अतिथि

3. ✖ अतीथि

4. ✖ अतीथी

Question Number : 100 Question Id : 16794318878 Question Type : MCQ Option Shuffling : Yes Display Question Number : Yes
Single Line Question Option : No Option Orientation : Vertical

Correct Marks : 1 Wrong Marks : 0.25

निम्न में वर्तनी की दृष्टि से शुद्ध शब्द कौन सा है?

Options :

1. ✖ अतिथी

2. ✔ अतिथि

3. ✖ अतीथि

4. ✖ अतीथी

Subject Related

Group Number :	6
Group Id :	167943709
Group Maximum Duration :	0
Group Minimum Duration :	0
Revisit allowed for view? :	No
Revisit allowed for edit? :	No
Break time:	0
Group Marks:	20
Revisit allowed for group Instructions? :	Yes
Maximum Instruction Time:	0
Minimum Instruction Time:	0

Subject Related

Section Id :	167943774
Section Number :	1
Section type :	Online
Mandatory or Optional:	Mandatory
Number of Questions:	20
Number of Questions to be attempted:	20
Section Marks:	20
Display Number Panel:	Yes
Group All Questions:	No

Sub-Section Number: 1
Sub-Section Id: 1679431200
Question Shuffling Allowed : Yes

Question Number : 101 Question Id : 16794318879 Question Type : MCQ Option Shuffling : Yes Display Question Number : Yes
Single Line Question Option : No Option Orientation : Vertical
Correct Marks : 1 Wrong Marks : 0.25

What is the goal of self development?

Options :

1. ✖ To become tall and healthy
2. ✖ To grow physically into adulthood
3. ✖ To grow in intelligence alone
4. ✔ To adapt to environment in which we live

Question Number : 101 Question Id : 16794318879 Question Type : MCQ Option Shuffling : Yes Display Question Number : Yes
Single Line Question Option : No Option Orientation : Vertical
Correct Marks : 1 Wrong Marks : 0.25

आत्म विकास का लक्ष्य क्या है?

Options :

1. ✖ लंबा और स्वस्थ बनना
2. ✖ शारीरिक रूप से वयस्कता की ओर बढ़ना
3. ✖ केवल बुद्धिमत्ता का विकास
4. ✔ जिस पर्यावरण में हम रहते हैं उसके अनुकूल होना

Question Number : 102 Question Id : 16794318880 Question Type : MCQ Option Shuffling : Yes Display Question Number : Yes
Single Line Question Option : No Option Orientation : Vertical
Correct Marks : 1 Wrong Marks : 0.25

What according to Piaget is the activity pertaining to the Preoperational Stage of children?

Options :

1. ✖ Developing memory and imagination
2. ✔ Children begin to engage in symbolic play and learn to manipulate symbols
3. ✖ Becoming more aware of logic in events

4. ✖ Being able to use logic to solve problems

Question Number : 102 Question Id : 16794318880 Question Type : MCQ Option Shuffling : Yes Display Question Number : Yes
Single Line Question Option : No Option Orientation : Vertical

Correct Marks : 1 Wrong Marks : 0.25

प्याज़े के मुताबिक बच्चों के पूर्व-संक्रियात्मक अवस्था से संबंधित गतिविधि क्या है?

Options :

1. ✖ स्मृति और कल्पना का विकास
2. ✔ बच्चे प्रतीकात्मक खेल में शामिल होने लगते हैं और प्रतीकों में हेरफेर करना सीखते हैं
3. ✖ घटनाओं में तर्क के बारे में अधिक जागरूक बनना
4. ✖ समस्याओं के हल के लिए तर्क का उपयोग करने में सक्षम होना

Question Number : 103 Question Id : 16794318881 Question Type : MCQ Option Shuffling : Yes Display Question Number : Yes
Single Line Question Option : No Option Orientation : Vertical

Correct Marks : 1 Wrong Marks : 0.25

What do children in the late childhood stage (8 years to 12 years) usually do?

Options :

1. ✖ Organise a great deal of information about the world from their senses
2. ✖ Enjoy and take opportunities to talk and listen to simple stories
3. ✔ Acquire a sense of discipline and some sense of responsibility to school work
4. ✖ Exhibit considerable mental and physical maturity in comparison to the children younger than them

Question Number : 103 Question Id : 16794318881 Question Type : MCQ Option Shuffling : Yes Display Question Number : Yes
Single Line Question Option : No Option Orientation : Vertical

Correct Marks : 1 Wrong Marks : 0.25

आमतौर पर बचपन में (8 साल से 12 साल) विलंबित बाल अवस्था होने पर बच्चे क्या करते हैं?

Options :

1. ✖ अपनी इंद्रियों से दुनिया के बारे में की जानकारी अच्छे व्यवहार से व्यवस्थित करना
2. ✖ सरल कहानियों के बारे में बात करना और सुनने का अवसर और आनंद लेना

3. ✓ स्कूल कार्य के लिए अनुशासन की भावना और जिम्मेदारी की भावना अभिग्रहण करना

4. ✗ छोटे बच्चों की तुलना में बेहतर मानसिक और शारीरिक परिपक्वता प्रदर्शित करना

Question Number : 104 Question Id : 16794318882 Question Type : MCQ Option Shuffling : Yes Display Question Number : Yes
Single Line Question Option : No Option Orientation : Vertical

Correct Marks : 1 Wrong Marks : 0.25

What are the emotional needs of a child?

Options :

1. ✓ Love, belonging, friendship and security

2. ✗ Desire to learn something, which is critical in effective education and learning

3. ✗ Acceptance, trust and being valued in society

4. ✗ Good food, water, clean air, and a safe, warm place to sleep

Question Number : 104 Question Id : 16794318882 Question Type : MCQ Option Shuffling : Yes Display Question Number : Yes
Single Line Question Option : No Option Orientation : Vertical

Correct Marks : 1 Wrong Marks : 0.25

बच्चे की भावनात्मक ज़रूरतें क्या होती हैं?

Options :

1. ✓ प्यार, सामान, दोस्ती और सुरक्षा

2. ✗ कुछ सीखने की इच्छा है, जो प्रभावी शिक्षा और सीखने में महत्वपूर्ण है

3. ✗ स्वीकृति, विश्वास और समाज में प्रतिष्ठावान होना

4. ✗ अच्छा खाना, पानी, साफ हवा, और सोने के लिए सुरक्षित, गर्म जगह

Question Number : 105 Question Id : 16794318883 Question Type : MCQ Option Shuffling : Yes Display Question Number : Yes
Single Line Question Option : No Option Orientation : Vertical

Correct Marks : 1 Wrong Marks : 0.25

What does hypothesis of the Social Comparison Theory indicate?

Options :

1. ✗ Physical comparison alone

2. ✗ Social interaction

3. ✖ Self-control

4. ✔ Upward and downward comparison

Question Number : 105 Question Id : 16794318883 Question Type : MCQ Option Shuffling : Yes Display Question Number : Yes
Single Line Question Option : No Option Orientation : Vertical

Correct Marks : 1 Wrong Marks : 0.25

सामाजिक तुलना सिद्धांत की परिकल्पना क्या इंगित करती है?

Options :

1. ✖ केवल शारीरिक तुलना

2. ✖ सामाजिक संपर्क

3. ✖ आत्म-संयम

4. ✔ ऊपर और नीचे की तुलना

Question Number : 106 Question Id : 16794318884 Question Type : MCQ Option Shuffling : Yes Display Question Number : Yes
Single Line Question Option : No Option Orientation : Vertical

Correct Marks : 1 Wrong Marks : 0.25

What are the major characteristics and development changes during the age 7 to 11?

Options :

1. ✖ They realise that their actions can cause things to happen in the world around them.

2. ✖ Children at this stage tend to be egocentric and struggle to see things from the perspective of others.

3. ✖ They begin to use deductive logic or reasoning from a general principle to specific information.

4. ✔ Their thinking becomes more logical and organised, but still very concrete.

Question Number : 106 Question Id : 16794318884 Question Type : MCQ Option Shuffling : Yes Display Question Number : Yes
Single Line Question Option : No Option Orientation : Vertical

Correct Marks : 1 Wrong Marks : 0.25

7 से 11 वर्ष की आयु के दौरान प्रमुख विशेषताओं और विकास में परिवर्तन क्या हैं?

Options :

1. ✖ उन्हें एहसास होने लगता है कि उनके कार्य से आसपास की दुनिया में चीजों पर असर हो सकता है

2. ✖

इस अवस्था में बच्चे अहंकेंद्रित होते हैं और दूसरों के परिप्रेक्ष्य से चीजों को देखने के लिए संघर्ष करते हैं

3. ✖

वे सामान्य सिद्धांत से विशिष्ट जानकारी तक निगमनात्मक तर्क या निगमन का उपयोग करना शुरू करते हैं

4. ✔

उनकी सोच अधिक तार्किक और व्यवस्थित हो जाती है, लेकिन अभी भी बहुत दृढ़ होनी है

Question Number : 107 Question Id : 16794318885 Question Type : MCQ Option Shuffling : Yes Display Question Number : Yes
Single Line Question Option : No Option Orientation : Vertical

Correct Marks : 1 Wrong Marks : 0.25

How does Piaget's theory of cognitive development help teachers understand children?

Options :

1. ✖

Using this theory, teachers can access the physical growth of the children

2. ✖

Using this theory, teachers can access the cultural growth of the children

3. ✔

Using this theory, Teachers can access the cognitive development of children and strategies their teaching

4. ✖

Using this theory, teachers can access the Social growth of the children

Question Number : 107 Question Id : 16794318885 Question Type : MCQ Option Shuffling : Yes Display Question Number : Yes
Single Line Question Option : No Option Orientation : Vertical

Correct Marks : 1 Wrong Marks : 0.25

प्याजे के संज्ञानात्मक विकास का सिद्धांत शिक्षकों को बच्चों को समझने में कैसे मदद करता है?

Options :

1. ✖

इस सिद्धांत का प्रयोग करते हुए, शिक्षक बच्चों के शारीरिक विकास तक पहुंच सकते हैं

2. ✖

इस सिद्धांत का प्रयोग करते हुए, शिक्षक बच्चों के सांस्कृतिक विकास तक पहुंच सकते हैं

3. ✔

इस सिद्धांत का प्रयोग करते हुए, शिक्षक बच्चों के संज्ञानात्मक विकास और उनके शिक्षण की रणनीतियों तक पहुंच सकते हैं

4. ✖

इस सिद्धांत का प्रयोग करते हुए, शिक्षक बच्चों के सामाजिक विकास तक पहुंच सकते हैं

Question Number : 108 Question Id : 16794318886 Question Type : MCQ Option Shuffling : Yes Display Question Number : Yes
Single Line Question Option : No Option Orientation : Vertical

Correct Marks : 1 Wrong Marks : 0.25

Which of the below are acceptable social behaviour patterns?

Options :

1. ✖ Destructiveness and prejudice
2. ✖ Aggressiveness and selfishness
3. ✔ Cooperation and social approval
4. ✖ Egocentrism and ascendant behaviour

Question Number : 108 Question Id : 16794318886 Question Type : MCQ Option Shuffling : Yes Display Question Number : Yes
Single Line Question Option : No Option Orientation : Vertical

Correct Marks : 1 Wrong Marks : 0.25

निम्नलिखित में से कौन सा स्वीकार्य सामाजिक व्यवहार पैटर्न हैं?

Options :

1. ✖ विध्वंशकता और पक्षपात
2. ✖ आक्रमणता और स्वार्थपरता
3. ✔ सहयोग और सामाजिक अनुमोदन
4. ✖ अहंकार और प्रबल व्यवहार

Question Number : 109 Question Id : 16794318887 Question Type : MCQ Option Shuffling : Yes Display Question Number : Yes
Single Line Question Option : No Option Orientation : Vertical

Correct Marks : 1 Wrong Marks : 0.25

Which of the below is/are type(s) of learning?

Options :

1. ✖ Vertical only
2. ✖ Horizontal only
3. ✔ Both vertical and horizontal
4. ✖ Depth and width

Question Number : 109 Question Id : 16794318887 Question Type : MCQ Option Shuffling : Yes Display Question Number : Yes
Single Line Question Option : No Option Orientation : Vertical

Correct Marks : 1 Wrong Marks : 0.25

नीचे से कौन सा सीखने (अध्ययन) के प्रकार हैं?

Options :

1. ✖ केवल ऊर्ध्वाधर
2. ✖ केवल क्षैतिज
3. ✔ ऊर्ध्वाधर और क्षैतिज दोनों
4. ✖ गहराई और चौड़ाई

Question Number : 110 Question Id : 16794318888 Question Type : MCQ Option Shuffling : Yes Display Question Number : Yes
Single Line Question Option : No Option Orientation : Vertical

Correct Marks : 1 Wrong Marks : 0.25

What is the meaning of 'learning affects the conduct of the learners'?

Options :

1. ✖
Learning is through the modification and remodification by the objects and individuals in the environment
2. ✔
Learning means attempts made to provide such learning experiences that can mould the desired conduct and habits in the learner
3. ✖
Learning is that where individual mind is consciously or unconsciously affected by the group activities
4. ✖ Learning is both physical and mental development

Question Number : 110 Question Id : 16794318888 Question Type : MCQ Option Shuffling : Yes Display Question Number : Yes
Single Line Question Option : No Option Orientation : Vertical

Correct Marks : 1 Wrong Marks : 0.25

'सीखने वालों के आचरण को प्रभावित करने' का क्या तात्पर्य है?

Options :

1. ✖
पर्यावरण में प्रयोजनों और व्यक्तियों द्वारा संशोधन और पुनर्निर्माण के माध्यम से सीखा जाता है
2. ✔
सीखने का अर्थ है ऐसे सीखने के अनुभव प्रदान करने के प्रयास किए गए जो सीखने वाले में वांछित आचरण और आदतें पैदा कर सकते हैं
3. ✖
सीखना यह है कि जहां व्यक्तिगत मन समूह गतिविधियों से जानबूझकर या बिना जानबूझकर प्रभावित होता है

4. ✖ शारीरिक और मानसिक दोनों विकास है

Question Number : 111 Question Id : 16794318889 Question Type : MCQ Option Shuffling : Yes Display Question Number : Yes
Single Line Question Option : No Option Orientation : Vertical

Correct Marks : 1 Wrong Marks : 0.25

Which of the below is a domain mostly used for designing?

Options :

- 1. ✖ Behaviour modification
- 2. ✖ Social enhancement
- 3. ✖ Emotional development
- 4. ✔ Educational development

Question Number : 111 Question Id : 16794318889 Question Type : MCQ Option Shuffling : Yes Display Question Number : Yes
Single Line Question Option : No Option Orientation : Vertical

Correct Marks : 1 Wrong Marks : 0.25

नीचे से कौन सा डोमेन ज्यादातर डिजाइनिंग के लिए उपयोग किया जाता है?

Options :

- 1. ✖ व्यवहार संशोधन
- 2. ✖ सामाजिक वृद्धि
- 3. ✖ भावनात्मक विकास
- 4. ✔ शैक्षणिक विकास

Question Number : 112 Question Id : 16794318890 Question Type : MCQ Option Shuffling : Yes Display Question Number : Yes
Single Line Question Option : No Option Orientation : Vertical

Correct Marks : 1 Wrong Marks : 0.25

What do knowledge, comprehension, application, analysis, synthesis and evaluation belong to?

Options :

- 1. ✖ Affective domain
- 2. ✔ Cognitive domain
- 3. ✖ Developmental stages

4. ✖ Psychomotor domain

Question Number : 112 Question Id : 16794318890 Question Type : MCQ Option Shuffling : Yes Display Question Number : Yes
Single Line Question Option : No Option Orientation : Vertical

Correct Marks : 1 Wrong Marks : 0.25

ज्ञान, समझ, विनियोग, विश्लेषण, संश्लेषण और मूल्यांकन क्या हैं?

Options :

1. ✖ प्रभावी डोमेन
2. ✔ संज्ञानात्मक डोमेन
3. ✖ विकास चरण
4. ✖ साइकोमोटर डोमेन

Question Number : 113 Question Id : 16794318891 Question Type : MCQ Option Shuffling : Yes Display Question Number : Yes
Single Line Question Option : No Option Orientation : Vertical

Correct Marks : 1 Wrong Marks : 0.25

Which category do these examples belong to: Recite a policy, quote prices from memory to a customer, recite the safety rules?

Options :

1. ✔ Remembering
2. ✖ Applying
3. ✖ Analysing
4. ✖ Creating

Question Number : 113 Question Id : 16794318891 Question Type : MCQ Option Shuffling : Yes Display Question Number : Yes
Single Line Question Option : No Option Orientation : Vertical

Correct Marks : 1 Wrong Marks : 0.25

ये उदाहरण किस श्रेणी से संबंधित हैं: नीति याद करना, स्मृति से ग्राहक को कीमतों में उद्धरण देना, सुरक्षा नियमों को पढ़ना?

Options :

1. ✔ याद करना
2. ✖ लागू करना
3. ✖ विश्लेषण

4. ✖ सृजन

Question Number : 114 Question Id : 16794318892 Question Type : MCQ Option Shuffling : Yes Display Question Number : Yes
Single Line Question Option : No Option Orientation : Vertical

Correct Marks : 1 Wrong Marks : 0.25

Look at the following keywords: Categorises, combines, compiles, composes, creates, devises, designs. These keywords belong to which of the following categories?

Options :

- 1. ✖ Remembering
- 2. ✖ Evaluating
- 3. ✔ Creating
- 4. ✖ Applying

Question Number : 114 Question Id : 16794318892 Question Type : MCQ Option Shuffling : Yes Display Question Number : Yes
Single Line Question Option : No Option Orientation : Vertical

Correct Marks : 1 Wrong Marks : 0.25

निम्नलिखित कीवर्ड देखें: वर्गीकरण, संयोजन, संकलन, रचनाएं, बनाता है, तैयार करना, डिजाइन। ये कीवर्ड निम्नलिखित में से किन श्रेणियों से संबंधित हैं?

Options :

- 1. ✖ याद करना
- 2. ✖ मूल्यांकन
- 3. ✔ सृजन
- 4. ✖ लागू करना

Question Number : 115 Question Id : 16794318893 Question Type : MCQ Option Shuffling : Yes Display Question Number : Yes
Single Line Question Option : No Option Orientation : Vertical

Correct Marks : 1 Wrong Marks : 0.25

What is the meaning of socialisation takes place formally and informally?

Options :

- 1. ✖ A person controls his/her impulses
- 2. ✖ Socialisation helps to control human behaviour
- 3. ✖ Socialisation is a life-long process

4. ✓ Socialisation takes place through direct instruction in schools and family

Question Number : 115 Question Id : 16794318893 Question Type : MCQ Option Shuffling : Yes Display Question Number : Yes
Single Line Question Option : No Option Orientation : Vertical

Correct Marks : 1 Wrong Marks : 0.25

सामाजीकरण औपचारिक रूप से और अनौपचारिक रूप से होने का क्या अर्थ है?

Options :

1. ✗ एक व्यक्ति अपनी उत्तेजना को नियंत्रित करता है
2. ✗ सामाजीकरण मानव व्यवहार को नियंत्रित करने में मदद करता है
3. ✗ समाजीकरण एक जीवन पर्यंत प्रक्रिया है
4. ✓ सामाजीकरण स्कूलों और परिवारों में प्रत्यक्ष निर्देश के माध्यम से होता है

Question Number : 116 Question Id : 16794318894 Question Type : MCQ Option Shuffling : Yes Display Question Number : Yes
Single Line Question Option : No Option Orientation : Vertical

Correct Marks : 1 Wrong Marks : 0.25

What happens to the socially isolated children?

Options :

1. ✗ They are socially active and participate in social matters
2. ✓ They are devoid of social experience; they may fail to develop normally
3. ✗ They learn the cultural values and norms
4. ✗ Their biological maturation and social experiences happen normally

Question Number : 116 Question Id : 16794318894 Question Type : MCQ Option Shuffling : Yes Display Question Number : Yes
Single Line Question Option : No Option Orientation : Vertical

Correct Marks : 1 Wrong Marks : 0.25

सामाजिक रूप से अलग किए हुए बच्चों के साथ क्या होता है?

Options :

1. ✗ वे सामाजिक रूप से सक्रिय होते हैं और सामाजिक मामलों में भाग लेते हैं
2. ✓ वे सामाजिक अनुभव से वंचित होते हैं; वे सामान्य रूप से विकसित होने में असफल हो सकते हैं

3. ✖ वे सांस्कृतिक मूल्यों और मानदंडों को सीखते हैं

4. ✖ उनकी द्विपक्षीय परिपक्वता और सामाजिक अनुभव सामान्य होते हैं

Question Number : 117 Question Id : 16794318895 Question Type : MCQ Option Shuffling : Yes Display Question Number : Yes
Single Line Question Option : No Option Orientation : Vertical

Correct Marks : 1 Wrong Marks : 0.25

What does culture consist of?

Options :

1. ✔

A set of principles and traditions transmitted from generation to generations, yet because human beings have created it by nature, culture is flexible and subject to change

2. ✖ Varying backgrounds respond and develop themselves differently

3. ✖ Economic knowledge and decision making in financial matters

4. ✖ Language that enables human beings to communicate with members in the society

Question Number : 117 Question Id : 16794318895 Question Type : MCQ Option Shuffling : Yes Display Question Number : Yes
Single Line Question Option : No Option Orientation : Vertical

Correct Marks : 1 Wrong Marks : 0.25

संस्कृति में क्या शामिल होता है?

Options :

1. ✔

पीढ़ी दर पीढ़ी प्रचलित सिद्धांतों और परंपराओं का एक समूह, फिर भी क्योंकि मनुष्यों ने इसे प्राकृतिक तौर पर बनाया है, इसलिए संस्कृति उदार और परिवर्तनशील होती है

2. ✖ बदलती पृष्ठभूमि को अलग तरह से लेता और खुद का विकास करता है

3. ✖ आर्थिक ज्ञान और वित्तीय मामलों में निर्णय लेता है

4. ✖ भाषा जो मनुष्यों को समाज में सदस्यों के साथ संवाद करने में सक्षम बनाती है

Question Number : 118 Question Id : 16794318896 Question Type : MCQ Option Shuffling : Yes Display Question Number : Yes
Single Line Question Option : No Option Orientation : Vertical

Correct Marks : 1 Wrong Marks : 0.25

What is the meaning of re-socialisation?

Options :

1. ✖

It refers to how a growing child learns very important lesson in social conduct from his/her peers

2. ✖

It refers to socialiation of the infant in the primary or earlierst years of his/her life

3. ✔

It refers to the process of discarding former behaviour patterns and accepting new ones as a part of transition in one's life

4. ✖

It refers to the process by which men learn the culture of a group with the anticipation of joining the group

Question Number : 118 Question Id : 16794318896 Question Type : MCQ Option Shuffling : Yes Display Question Number : Yes
Single Line Question Option : No Option Orientation : Vertical

Correct Marks : 1 Wrong Marks : 0.25

पुनः समाजीकरण का अर्थ क्या है?

Options :

1. ✖

यह बच्चे के अपने साथी से सामाजिक आचरण के बारे में कितना महत्वपूर्ण सबक सीखने से संबंधित है

2. ✖

यह शिशु में उसके जीवन के प्रारंभिक वर्षों में समाजीकरण से संबंधित है

3. ✔

यह पूर्व व्यवहार पैटर्न को हटाने और जीवन में अवस्थांतर के हिस्से के रूप में नए को स्वीकार करने की प्रक्रिया से संबंधित है

4. ✖

यह उस प्रक्रिया से संबंधित है जिसके द्वारा पुरुष समूह में शामिल होने की प्रत्याशा के साथ सामूहिक संस्कृति सीखता है

Question Number : 119 Question Id : 16794318897 Question Type : MCQ Option Shuffling : Yes Display Question Number : Yes
Single Line Question Option : No Option Orientation : Vertical

Correct Marks : 1 Wrong Marks : 0.25

Which of these does not fall under values while teaching children?

Options :

1. ✖ Gratitude

2. ✔ Dissent

3. ✖ Compassion

4. ✖ Humility

Question Number : 119 Question Id : 16794318897 Question Type : MCQ Option Shuffling : Yes Display Question Number : Yes
Single Line Question Option : No Option Orientation : Vertical

Correct Marks : 1 Wrong Marks : 0.25

बच्चों को पढ़ाने के दौरान इनमें से कौन सा मूल्यों के तहत नहीं आता है?

Options :

1. ✖ आभार
2. ✔ असहमति
3. ✖ सहानुभूति
4. ✖ विनम्रता

Question Number : 120 Question Id : 16794318898 Question Type : MCQ Option Shuffling : Yes Display Question Number : Yes
Single Line Question Option : No Option Orientation : Vertical

Correct Marks : 1 Wrong Marks : 0.25

What does school culture result from?

Options :

1. ✖ Physical and emotional development in school
2. ✖ Social etiquettes in school
3. ✖ Social relationship between students and teachers
4. ✔ Both conscious and unconscious perspectives, values, interactions and practices in school

Question Number : 120 Question Id : 16794318898 Question Type : MCQ Option Shuffling : Yes Display Question Number : Yes
Single Line Question Option : No Option Orientation : Vertical

Correct Marks : 1 Wrong Marks : 0.25

स्कूल संस्कृति का परिणाम क्या होता है?

Options :

1. ✖ स्कूल में शारीरिक और भावनात्मक विकास
2. ✖ स्कूल में सामाजिक शिष्टाचार
3. ✖ छात्रों और शिक्षकों के बीच सामाजिक संबंध
4. ✔ स्कूल में सचेत और अवचेतन दृष्टिकोण, मूल्य, संवाद और नित्य प्रयोग दोनों

Subject Related

Group Number :	7
Group Id :	167943710
Group Maximum Duration :	0
Group Minimum Duration :	0
Revisit allowed for view? :	No
Revisit allowed for edit? :	No
Break time:	0
Group Marks:	20
Revisit allowed for group Instructions? :	Yes
Maximum Instruction Time:	0
Minimum Instruction Time:	0

Subject Related

Section Id :	167943775
Section Number :	1
Section type :	Online
Mandatory or Optional:	Mandatory
Number of Questions:	20
Number of Questions to be attempted:	20
Section Marks:	20
Display Number Panel:	Yes
Group All Questions:	No





Sub-Section Number:	1
Sub-Section Id:	1679431201
Question Shuffling Allowed :	Yes

Question Number : 121 Question Id : 16794318899 Question Type : MCQ Option Shuffling : Yes Display Question Number : Yes
Single Line Question Option : No Option Orientation : Vertical

Correct Marks : 1 Wrong Marks : 0.25

What are the characteristics commonly associated with positive school culture?

Options :

1.  The individual success of teachers and students are recognised and celebrated
2.  Feeling and acting like adults in school
3.  Telling jokes and enjoying to handle your stress
4.  Not asking advice and suggestions from adults in school

Question Number : 121 Question Id : 16794318899 Question Type : MCQ Option Shuffling : Yes Display Question Number : Yes
Single Line Question Option : No Option Orientation : Vertical

Correct Marks : 1 Wrong Marks : 0.25

सकारात्मक स्कूल संस्कृति के साथ आमतौर पर जुड़ी विशेषताएं क्या हैं?

Options :

1. ✓ शिक्षकों और छात्रों की व्यक्तिगत सफलता को पहचानना और मनाना
2. ✗ स्कूल में वयस्कों की तरह महसूस करना और कार्य करना
3. ✗ तनाव खत्म करने के लिए चुटकुले सुनाना और आनंद लेना
4. ✗ स्कूल में वयस्कों से न सलाह लेना और न कोई सुझाव लेना

Question Number : 122 Question Id : 16794318900 Question Type : MCQ Option Shuffling : Yes Display Question Number : Yes
Single Line Question Option : No Option Orientation : Vertical

Correct Marks : 1 Wrong Marks : 0.25

What do you understand by: 'facilitate the child's interaction with others outside the home'?

Options :

1. ✗ Interaction, stimulation and play at home
2. ✗ Providing emotional security to the child, ensuring it socialises, nurturing the child and giving it affection
3. ✗ Keeping the child safe and free from harm, providing shelter and clothing to the child, and preventing and attending to his/her sickness
4. ✓ Interaction within the community, at health clinics and at school

Question Number : 122 Question Id : 16794318900 Question Type : MCQ Option Shuffling : Yes Display Question Number : Yes
Single Line Question Option : No Option Orientation : Vertical

Correct Marks : 1 Wrong Marks : 0.25

'घर के बाहर दूसरों के साथ बच्चे का परस्पर संवाद सुविधाजनक बनाने' से आप क्या समझते हैं?

Options :

1. ✗ घर पर परस्पर संवाद, प्रोत्साहन और खेल
2. ✗ बच्चे को भावनात्मक सुरक्षा प्रदान करना, उसे सामाजिक बनाना सुनिश्चित करना, बच्चे को पोषित करना और स्नेह देना
3. ✗ बच्चे को सुरक्षित और नुकसान मुक्त रखना, बच्चे को आश्रय और कपड़े देना, और उसे बीमारी से दूर रखना और बीमार होने पर उसकी देखभाल करना

4. ✓ स्वास्थ्य केंद्र और स्कूल में समुदाय के साथ आपसी बातचीत

Question Number : 123 Question Id : 16794318901 Question Type : MCQ Option Shuffling : Yes Display Question Number : Yes
Single Line Question Option : No Option Orientation : Vertical

Correct Marks : 1 Wrong Marks : 0.25

As per Upanishad, which of the below is the definition of education?

Options :

1. ✗ "Education is something which makes man self-reliant and selfless"
2. ✗ "Education is the manifestation of the divine perfection, already existing in man"
3. ✓ "Education is for liberation"
4. ✗ "The widest road leading to the solution of all our problems is education."

Question Number : 123 Question Id : 16794318901 Question Type : MCQ Option Shuffling : Yes Display Question Number : Yes
Single Line Question Option : No Option Orientation : Vertical

Correct Marks : 1 Wrong Marks : 0.25

उपनिषद के अनुसार, नीचे से कौन सी शिक्षा की परिभाषा है?

Options :

1. ✗ "शिक्षा वह प्रक्रिया है जो मनुष्य को आत्मनिर्भर और निःस्वार्थ बनाती है"
2. ✗ "शिक्षा पहले से मनुष्य में मौजूद दिव्य पूर्णता की अभिव्यक्ति है"
3. ✓ "शिक्षा मुक्ति के लिए है"
4. ✗ "हमारी सभी समस्याओं का समाधान करने वाला व्यापक मार्ग शिक्षा है"

Question Number : 124 Question Id : 16794318902 Question Type : MCQ Option Shuffling : Yes Display Question Number : Yes
Single Line Question Option : No Option Orientation : Vertical

Correct Marks : 1 Wrong Marks : 0.25

A systematic, organised education model is:

Options :

1. ✗ Non-formal education
2. ✓ Formal education
3. ✗ Casual education

4. ✖ Adult education

Question Number : 124 Question Id : 16794318902 Question Type : MCQ Option Shuffling : Yes Display Question Number : Yes
Single Line Question Option : No Option Orientation : Vertical

Correct Marks : 1 Wrong Marks : 0.25

एक व्यवस्थित, संगठित शिक्षा मॉडल क्या है?

Options :

1. ✖ गैर-औपचारिक शिक्षा

2. ✔ औपचारिक शिक्षा

3. ✖ सामयिक शिक्षा

4. ✖ प्रौढ़ शिक्षा

Question Number : 125 Question Id : 16794318903 Question Type : MCQ Option Shuffling : Yes Display Question Number : Yes
Single Line Question Option : No Option Orientation : Vertical

Correct Marks : 1 Wrong Marks : 0.25

What is the main objective of Saakshar Bharat Mission?

Options :

1. ✔ Ensuring female literacy rate goes up

2. ✖ Ensuring total literacy in the country

3. ✖ Imparting functional literacy

4. ✖ Ensuring adult literacy rate goes up

Question Number : 125 Question Id : 16794318903 Question Type : MCQ Option Shuffling : Yes Display Question Number : Yes
Single Line Question Option : No Option Orientation : Vertical

Correct Marks : 1 Wrong Marks : 0.25

साक्षर भारत मिशन का मुख्य उद्देश्य क्या है?

Options :

1. ✔ उच्च महिला साक्षरता दर सुनिश्चित करना

2. ✖ देश में कुल साक्षरता सुनिश्चित करना

3. ✖ कार्यात्मक साक्षरता प्रदान करना

4. ✖ उच्च वयस्क साक्षरता दर सुनिश्चित करना

Question Number : 126 Question Id : 16794318904 Question Type : MCQ Option Shuffling : Yes Display Question Number : Yes
Single Line Question Option : No Option Orientation : Vertical

Correct Marks : 1 Wrong Marks : 0.25

Eklavya Model Residential School (EMRS) project is started for:

Options :

1. ✔ quality middle and high level education to Scheduled Tribe (ST) students in remote areas
2. ✖ quality education for children and teachers by Andhra Pradesh government only
3. ✖ quality education for children and teachers by Uttar Pradesh government only
4. ✖ quality education for children and teachers by Himachal government only

Question Number : 126 Question Id : 16794318904 Question Type : MCQ Option Shuffling : Yes Display Question Number : Yes
Single Line Question Option : No Option Orientation : Vertical

Correct Marks : 1 Wrong Marks : 0.25

एकलव्य मॉडल आवासीय स्कूल (ई.एम.आर.एस.) परियोजना किसलिए शुरू की गई है?

Options :

1. ✔ दूरस्थ क्षेत्रों में अनुसूचित जनजाति (एसटी) छात्रों के लिए गुणवत्ता मध्यम और उच्च स्तर की शिक्षा
2. ✖ केवल आंध्र प्रदेश सरकार द्वारा बच्चों और शिक्षकों के लिए गुणवत्तापूर्ण शिक्षा
3. ✖ केवल उत्तर प्रदेश सरकार द्वारा बच्चों और शिक्षकों के लिए गुणवत्तापूर्ण शिक्षा
4. ✖ केवल हिमाचल सरकार द्वारा बच्चों और शिक्षकों के लिए गुणवत्तापूर्ण शिक्षा

Question Number : 127 Question Id : 16794318905 Question Type : MCQ Option Shuffling : Yes Display Question Number : Yes
Single Line Question Option : No Option Orientation : Vertical

Correct Marks : 1 Wrong Marks : 0.25

Learning to know, learning to do, learning to be, learning to live together form:

Options :

1. ✖ Pillars of society
2. ✖ Pillars of living

3. ✓ Pillars of education

4. ✗ Pillars of environment

Question Number : 127 Question Id : 16794318905 Question Type : MCQ Option Shuffling : Yes Display Question Number : Yes
Single Line Question Option : No Option Orientation : Vertical

Correct Marks : 1 Wrong Marks : 0.25

जानना सीखना, करना सीखना, होना सीखना, एक साथ जीना सीखना किसका रूप है?

Options :

1. ✗ समाज का स्तंभ

2. ✗ रहने का स्तंभ

3. ✓ शिक्षा का स्तंभ

4. ✗ पर्यावरण का स्तंभ

Question Number : 128 Question Id : 16794318906 Question Type : MCQ Option Shuffling : Yes Display Question Number : Yes
Single Line Question Option : No Option Orientation : Vertical

Correct Marks : 1 Wrong Marks : 0.25

Participants of Jomtien Conference reaffirmed the rights of _____.

Options :

1. ✗ Gender equality

2. ✗ Education for adults

3. ✓ Every citizen

4. ✗ Education rights to children affected by HIV/AIDS

Question Number : 128 Question Id : 16794318906 Question Type : MCQ Option Shuffling : Yes Display Question Number : Yes
Single Line Question Option : No Option Orientation : Vertical

Correct Marks : 1 Wrong Marks : 0.25

जोमेटियन सम्मेलन के प्रतिभागियों ने किस अधिकार की पुष्टि की है?

Options :

1. ✗ लैंगिक समानता

2. ✗ वयस्कों के लिए शिक्षा

3. ✓ प्रत्येक नागरिक

4. ✗ एचआईवी/एड्स से प्रभावित बच्चों के लिए शिक्षा अधिकार

Question Number : 129 Question Id : 16794318907 Question Type : MCQ Option Shuffling : Yes Display Question Number : Yes
Single Line Question Option : No Option Orientation : Vertical

Correct Marks : 1 Wrong Marks : 0.25

‘Learning Without Burden’ is a basic concept related to:

Options :

1. ✓ NCF-2005

2. ✗ NPC-1986

3. ✗ NCERT

4. ✗ NCTE

Question Number : 129 Question Id : 16794318907 Question Type : MCQ Option Shuffling : Yes Display Question Number : Yes
Single Line Question Option : No Option Orientation : Vertical

Correct Marks : 1 Wrong Marks : 0.25

‘बिना बोझ के सीखना’ से संबंधित एक बुनियादी अवधारणा क्या है?

Options :

1. ✓ एन.सी.एफ. - 2005

2. ✗ एन.पी.सी. - 1986

3. ✗ एन.सी.ई.आर.टी.

4. ✗ एन.सी.टी.ई.

Question Number : 130 Question Id : 16794318908 Question Type : MCQ Option Shuffling : Yes Display Question Number : Yes
Single Line Question Option : No Option Orientation : Vertical

Correct Marks : 1 Wrong Marks : 0.25

Who are supposed to be partnering in the Sarva Shiksha Abhiyan (SSA)?

Options :

1. ✓ Central government and State government

2. ✗ Central government only

3. ✖ State government only

4. ✖ State government and Private management

Question Number : 130 Question Id : 16794318908 Question Type : MCQ Option Shuffling : Yes Display Question Number : Yes
Single Line Question Option : No Option Orientation : Vertical

Correct Marks : 1 Wrong Marks : 0.25

सर्व शिक्षा अभियान (एस.एस.ए.) में किस किस को साझेदारी करनी है?

Options :

1. ✔ केंद्र सरकार और राज्य सरकार

2. ✖ केवल केंद्र सरकार

3. ✖ केवल राज्य सरकार

4. ✖ राज्य सरकार और निजी प्रबंधन

Question Number : 131 Question Id : 16794318909 Question Type : MCQ Option Shuffling : Yes Display Question Number : Yes
Single Line Question Option : No Option Orientation : Vertical

Correct Marks : 1 Wrong Marks : 0.25

"Unwritten, unintended unofficial perspectives a student learns is known as-."

Options :

1. ✔ Hidden curriculum

2. ✖ Official curriculum

3. ✖ Regular curriculum

4. ✖ Unofficial curriculum

Question Number : 131 Question Id : 16794318909 Question Type : MCQ Option Shuffling : Yes Display Question Number : Yes
Single Line Question Option : No Option Orientation : Vertical

Correct Marks : 1 Wrong Marks : 0.25

"अज्ञात अनौपचारिक दृष्टिकोण जो एक छात्र सीखता है, के रूप में जाना जाता है।"

Options :

1. ✔ अदृष्ट पाठ्यक्रम

2. ✖ आधिकारिक पाठ्यक्रम

3. ✖ नियमित पाठ्यक्रम

4. ✖ अनौपचारिक पाठ्यक्रम

Question Number : 132 Question Id : 16794318910 Question Type : MCQ Option Shuffling : Yes Display Question Number : Yes
Single Line Question Option : No Option Orientation : Vertical

Correct Marks : 1 Wrong Marks : 0.25

Who first coined the term disability in 1963?

Options :

1. ✖ Kate Adams

2. ✔ Dr. Samuel Kirk

3. ✖ Daniel J

4. ✖ Samuel Paul

Question Number : 132 Question Id : 16794318910 Question Type : MCQ Option Shuffling : Yes Display Question Number : Yes
Single Line Question Option : No Option Orientation : Vertical

Correct Marks : 1 Wrong Marks : 0.25

1963 में पहली बार अक्षमता शब्द किसने प्रतिपादित किया?

Options :

1. ✖ केट एडम्स

2. ✔ डॉ सैमुअल किर्क

3. ✖ डैनियल जे

4. ✖ सैमुअल पॉल

Question Number : 133 Question Id : 16794318911 Question Type : MCQ Option Shuffling : Yes Display Question Number : Yes
Single Line Question Option : No Option Orientation : Vertical

Correct Marks : 1 Wrong Marks : 0.25

When one faces certain limitations in mental functioning, and in skills such as communicating, taking care of own self, as well as social skills, this situation is called as:

Options :

1. ✔ Mental disability

2. ✖ Physical disability

3. ✖ Social disability

4. ✖ Learning disability

Question Number : 133 Question Id : 16794318911 Question Type : MCQ Option Shuffling : Yes Display Question Number : Yes
Single Line Question Option : No Option Orientation : Vertical

Correct Marks : 1 Wrong Marks : 0.25

जब किसी को मानसिक कार्य जैसे संचार अपनी देखभाल के साथ-साथ सामाजिक कौशल में किसी परेशानी का सामना करना पड़ता है तो उस स्थिति को क्या कहा जाता है?

Options :

1. ✔ मानसिक विकलांगता

2. ✖ शारीरिक विकलांगता

3. ✖ सामाजिक अक्षमता

4. ✖ सीखने की विकलांगता

Question Number : 134 Question Id : 16794318912 Question Type : MCQ Option Shuffling : Yes Display Question Number : Yes
Single Line Question Option : No Option Orientation : Vertical

Correct Marks : 1 Wrong Marks : 0.25

In which year the Rights of Persons with Disabilities Bill was passed?

Options :

1. ✖ 2005

2. ✖ 2010

3. ✔ 2016

4. ✖ 2012

Question Number : 134 Question Id : 16794318912 Question Type : MCQ Option Shuffling : Yes Display Question Number : Yes
Single Line Question Option : No Option Orientation : Vertical

Correct Marks : 1 Wrong Marks : 0.25

किस वर्ष विकलांग व्यक्तियों के अधिकारों को मान्यता मिली थी?

Options :

1. ✖ 2005

2. ✖ 2010

3. ✓ 2016

4. ✗ 2012

Question Number : 135 Question Id : 16794318913 Question Type : MCQ Option Shuffling : Yes Display Question Number : Yes
Single Line Question Option : No Option Orientation : Vertical

Correct Marks : 1 Wrong Marks : 0.25

What is the main objective of curriculum?

Options :

1. ✗ To pass in any examination
2. ✗ To get minimum marks in examination
3. ✓ For all round development of students
4. ✗ To learn the content to score marks

Question Number : 135 Question Id : 16794318913 Question Type : MCQ Option Shuffling : Yes Display Question Number : Yes
Single Line Question Option : No Option Orientation : Vertical

Correct Marks : 1 Wrong Marks : 0.25

पाठ्यक्रम का मुख्य उद्देश्य क्या है?

Options :

1. ✗ किसी भी परीक्षा में उत्तीर्ण होना
2. ✗ परीक्षा में न्यूनतम अंक प्राप्त करना
3. ✓ छात्रों का हर फन विकास
4. ✗ अंक प्राप्त करने के लिए पाठ याद करना

Question Number : 136 Question Id : 16794318914 Question Type : MCQ Option Shuffling : Yes Display Question Number : Yes
Single Line Question Option : No Option Orientation : Vertical

Correct Marks : 1 Wrong Marks : 0.25

From the following options, which represents the correct list of parts of a curriculum?

Options :

1. ✗ Teaching, learning, students, teachers, school building
2. ✓ Objectives, content, materials, evaluation strategies

3. ✖ Learning objectives, assessments, school environment, principal

4. ✖ Academic activities, goals, achievements

Question Number : 136 Question Id : 16794318914 Question Type : MCQ Option Shuffling : Yes Display Question Number : Yes
Single Line Question Option : No Option Orientation : Vertical

Correct Marks : 1 Wrong Marks : 0.25

निम्नलिखित विकल्पों में से कौन पाठ्यक्रम के कुछ हिस्सों की सही सूची को दर्शाता है?

Options :

1. ✖ शिक्षण, सीखना, छात्रों, शिक्षकों, स्कूल इमारत

2. ✔ उद्देश्यों, सामग्री, सामान, मूल्यांकन रणनीतियां

3. ✖ सीखने के उद्देश्य, आकलन, स्कूल पर्यावरण, प्रिंसिपल

4. ✖ शैक्षणिक गतिविधियां, लक्ष्य, उपलब्धियां

Question Number : 137 Question Id : 16794318915 Question Type : MCQ Option Shuffling : Yes Display Question Number : Yes
Single Line Question Option : No Option Orientation : Vertical

Correct Marks : 1 Wrong Marks : 0.25

What needs not to be changed in the curriculum according to different eras?

Options :

1. ✖ Content

2. ✖ Methods

3. ✔ Dedication of a teacher

4. ✖ Evaluation strategies

Question Number : 137 Question Id : 16794318915 Question Type : MCQ Option Shuffling : Yes Display Question Number : Yes
Single Line Question Option : No Option Orientation : Vertical

Correct Marks : 1 Wrong Marks : 0.25

विभिन्न युग के अनुसार पाठ्यक्रम में क्या बदलाव करने की जरूरत नहीं है?

Options :

1. ✖ पाठ्य सामग्री

2. ✖ पद्धति

3. ✓ शिक्षक का समर्पण

4. ✗ मूल्यांकन रणनीतियों

Question Number : 138 Question Id : 16794318916 Question Type : MCQ Option Shuffling : Yes Display Question Number : Yes
Single Line Question Option : No Option Orientation : Vertical

Correct Marks : 1 Wrong Marks : 0.25

Which of the below is a true statement?

Options :

1. ✗ Curriculum and syllabus are equivalent components in education

2. ✓ Curriculum is a broad term and syllabus is a part of curriculum

3. ✗ Syllabus has a wide scope than curriculum

4. ✗ Syllabus has many activities as compared to the curriculum

Question Number : 138 Question Id : 16794318916 Question Type : MCQ Option Shuffling : Yes Display Question Number : Yes
Single Line Question Option : No Option Orientation : Vertical

Correct Marks : 1 Wrong Marks : 0.25

नीचे से कौन सा सही कथन है?

Options :

1. ✗ पाठ्यचर्या और पाठ्यक्रम शिक्षा में समकक्ष घटक हैं

2. ✓ पाठ्यचर्या एक व्यापक शब्द है और पाठ्यक्रम पाठ्यक्रम का हिस्सा है

3. ✗ पाठ्यचर्या का पाठ्यक्रम की तुलना में व्यापक दायरा है

4. ✗ पाठ्यचर्या की पाठ्यक्रम तुलना में कई गतिविधियां हैं

Question Number : 139 Question Id : 16794318917 Question Type : MCQ Option Shuffling : Yes Display Question Number : Yes
Single Line Question Option : No Option Orientation : Vertical

Correct Marks : 1 Wrong Marks : 0.25

How do we connect and work on internet?

Options :

1. ✗ By using LAN

2. ✓ By using WAN

3. ✖ By using MAN

4. ✖ By using TAN

Question Number : 139 Question Id : 16794318917 Question Type : MCQ Option Shuffling : Yes Display Question Number : Yes
Single Line Question Option : No Option Orientation : Vertical

Correct Marks : 1 Wrong Marks : 0.25

हम इंटरनेट पर कैसे कनेक्ट और काम करते हैं?

Options :

1. ✖ LAN का उपयोग करके

2. ✔ WAN का उपयोग करके

3. ✖ MAN का उपयोग करके

4. ✖ TAN का उपयोग करके

Question Number : 140 Question Id : 16794318918 Question Type : MCQ Option Shuffling : Yes Display Question Number : Yes
Single Line Question Option : No Option Orientation : Vertical

Correct Marks : 1 Wrong Marks : 0.25

The full form of ICT is:

Options :

1. ✖ Internet Communication Technology

2. ✖ Internet Connection Technology

3. ✔ Information Communication Technology

4. ✖ Information Connection Technology

Question Number : 140 Question Id : 16794318918 Question Type : MCQ Option Shuffling : Yes Display Question Number : Yes
Single Line Question Option : No Option Orientation : Vertical

Correct Marks : 1 Wrong Marks : 0.25

आई.सी.टी. (ICT) का पूर्ण रूप क्या है?

Options :

1. ✖ इंटरनेट कम्युनिकेशन टेक्नॉलॉजी

2. ✖ इंटरनेट कनेक्शन टेक्नॉलॉजी

3. ✓ इनफॉर्मेशन कम्युनिकेशन टेक्नॉलॉजी

4. ✗ इनफॉर्मेशन कनेक्शन टेक्नॉलॉजी

Subject Related	
Group Number :	8
Group Id :	167943711
Group Maximum Duration :	0
Group Minimum Duration :	0
Revisit allowed for view? :	No
Revisit allowed for edit? :	No
Break time:	0
Group Marks:	20
Revisit allowed for group Instructions? :	Yes
Maximum Instruction Time:	0
Minimum Instruction Time:	0

Subject Related	
Section Id :	167943776
Section Number :	1
Section type :	Online
Mandatory or Optional:	Mandatory
Number of Questions:	20
Number of Questions to be attempted:	20
Section Marks:	20
Display Number Panel:	Yes
Group All Questions:	No

Sub-Section Number:	1
Sub-Section Id:	1679431202
Question Shuffling Allowed :	Yes

Question Number : 141 Question Id : 16794318919 Question Type : MCQ Option Shuffling : Yes Display Question Number : Yes
Single Line Question Option : No Option Orientation : Vertical

Correct Marks : 1 Wrong Marks : 0.25

What is the best example of paradigm shift in education due to ICT?

Options :

1. ✗ Continuous use of technology in the classroom

2. ✗ Equal uses of traditional methods of teaching

3. ✓ Shift from teacher-centric approach to student-centric approach

4. ✖ Providing virtual learning environment for primary level

Question Number : 141 Question Id : 16794318919 Question Type : MCQ Option Shuffling : Yes Display Question Number : Yes
Single Line Question Option : No Option Orientation : Vertical

Correct Marks : 1 Wrong Marks : 0.25

आईसीटी के कारण शिक्षा में प्रतिमान बदलाव का सबसे अच्छा उदाहरण क्या है?

Options :

1. ✖ कक्षा में प्रौद्योगिकी का निरंतर उपयोग
2. ✖ शिक्षण के पारंपरिक तरीकों का समान उपयोग
3. ✔ शिक्षक-केंद्रित दृष्टिकोण को छात्र-केंद्रित दृष्टिकोण करना
4. ✖ प्राथमिक स्तर के लिए वर्चुअल लर्निंग पर्यावरण प्रदान करना

Question Number : 142 Question Id : 16794318920 Question Type : MCQ Option Shuffling : Yes Display Question Number : Yes
Single Line Question Option : No Option Orientation : Vertical

Correct Marks : 1 Wrong Marks : 0.25

Which of the below assessments is relevant for primary students?

Options :

1. ✖ Creating a blog
2. ✔ Preparing a slide in Power-Point presentation
3. ✖ Participating in webinars
4. ✖ Conducting seminars

Question Number : 142 Question Id : 16794318920 Question Type : MCQ Option Shuffling : Yes Display Question Number : Yes
Single Line Question Option : No Option Orientation : Vertical

Correct Marks : 1 Wrong Marks : 0.25

प्राथमिक छात्रों के लिए निम्नलिखित में से कौन सा आकलन प्रासंगिक है?

Options :

1. ✖ एक ब्लॉग बनाना
2. ✔ पावर पॉइंट (PowerPoint) प्रस्तुति में एक स्लाइड तैयार करना
3. ✖ वेबिनार में भाग लेना

4. ✖ संगोष्ठियों का आयोजन

Question Number : 143 Question Id : 16794318921 Question Type : MCQ Option Shuffling : Yes Display Question Number : Yes
Single Line Question Option : No Option Orientation : Vertical
Correct Marks : 1 Wrong Marks : 0.25

Why do teachers use computer in classroom?

Options :

1. ✖ To avoid paper work
2. ✖ To show that they are techno savvy
3. ✔ To provide enriched audio-visual experiences
4. ✖ To ensure the progress of a child

Question Number : 143 Question Id : 16794318921 Question Type : MCQ Option Shuffling : Yes Display Question Number : Yes
Single Line Question Option : No Option Orientation : Vertical
Correct Marks : 1 Wrong Marks : 0.25

शिक्षक कक्षा में कंप्यूटर का उपयोग क्यों करते हैं?

Options :


1. ✖ कागज कार्य से बचने के लिए
2. ✖ यह दिखाने के लिए कि वे तकनीक जानते हैं
3. ✔ समृद्ध ऑडियो-विज़ुअल अनुभव प्रदान करने के लिए
4. ✖ एक बच्चे की प्रगति सुनिश्चित करने के लिए

Question Number : 144 Question Id : 16794318922 Question Type : MCQ Option Shuffling : Yes Display Question Number : Yes
Single Line Question Option : No Option Orientation : Vertical
Correct Marks : 1 Wrong Marks : 0.25

How can we ensure internet safety among our students?

Options :

1. ✖ Creating awareness about internet
2. ✖ Preventing them from using internet
3. ✖ Showing the videos to children that pertain to the threats of internet





4.  Explaining the internet safety measures and its importance to students

Question Number : 144 Question Id : 16794318922 Question Type : MCQ Option Shuffling : Yes Display Question Number : Yes
Single Line Question Option : No Option Orientation : Vertical

Correct Marks : 1 Wrong Marks : 0.25

हम अपने छात्रों के बीच इंटरनेट सुरक्षा कैसे सुनिश्चित कर सकते हैं?

Options :





1.  इंटरनेट के बारे में जागरूकता पैदा करके
2.  उन्हें इंटरनेट का उपयोग करने से रोककर
3.  इंटरनेट के खतरों से संबंधित बच्चों को वीडियो दिखा कर
4.  इंटरनेट सुरक्षा उपायों और छात्रों के लिए इसका महत्व समझा कर

Question Number : 145 Question Id : 16794318923 Question Type : MCQ Option Shuffling : Yes Display Question Number : Yes
Single Line Question Option : No Option Orientation : Vertical

Correct Marks : 1 Wrong Marks : 0.25

Which of the following is known as ICT-supported teaching strategy?

Options :



1.  Showing handmade projects in the class
2.  Computer-assisted instruction
3.  Sending emails about the homework
4.  Use of smart board in the class

Question Number : 145 Question Id : 16794318923 Question Type : MCQ Option Shuffling : Yes Display Question Number : Yes
Single Line Question Option : No Option Orientation : Vertical

Correct Marks : 1 Wrong Marks : 0.25

निम्नलिखित में से कौन सा आई.सी.टी. समर्थित शिक्षण रणनीति के रूप में जाना जाता है?

Options :

1.  कक्षा में हस्त निर्मित प्रोजेक्ट्स को दिखाना
2.  कंप्यूटरकृत सहायता निर्देश

3. ✖ होमवर्क के बारे में ईमेल भेजना

4. ✖ कक्षा में स्मार्ट बोर्ड का उपयोग

Question Number : 146 Question Id : 16794318924 Question Type : MCQ Option Shuffling : Yes Display Question Number : Yes
Single Line Question Option : No Option Orientation : Vertical

Correct Marks : 1 Wrong Marks : 0.25

Which of the below is an example that represents evaluation using technology?

Options :

1. ✖ Sending emails about examination

2. ✖ Preparing marklist on the computer

3. ✔ Online test

4. ✖ Writing a test using computer

Question Number : 146 Question Id : 16794318924 Question Type : MCQ Option Shuffling : Yes Display Question Number : Yes
Single Line Question Option : No Option Orientation : Vertical

Correct Marks : 1 Wrong Marks : 0.25

नीचे से कौन सा एक उदाहरण है जो मूल्यांकन में प्राद्योगिकी के प्रयोग का प्रतिनिधित्व करता है?

Options :

1. ✖ परीक्षा के बारे में ईमेल भेजना

2. ✖ कंप्यूटर पर मार्कलिस्ट तैयार करना

3. ✔ ऑनलाइन परीक्षा

4. ✖ कंप्यूटर का उपयोग कर एक परीक्षण लिखना

Question Number : 147 Question Id : 16794318925 Question Type : MCQ Option Shuffling : Yes Display Question Number : Yes
Single Line Question Option : No Option Orientation : Vertical

Correct Marks : 1 Wrong Marks : 0.25

How can creativity be achieved?

Options :

1. ✖ It is achieved by satisfying the highest needs of a person and employing internal motivation

2. ✔ It is achieved by developing the abilities of reasoning, hypothesizing, inferring and prediction

3. ✖ It is realised by developing the abilities of memory and focus

4. ✖ It is achieved to develop the recall and recognition abilities

Question Number : 147 Question Id : 16794318925 Question Type : MCQ Option Shuffling : Yes Display Question Number : Yes
Single Line Question Option : No Option Orientation : Vertical

Correct Marks : 1 Wrong Marks : 0.25

रचनात्मकता कैसे प्राप्त की जा सकती है?

Options :

1. ✖

यह किसी व्यक्ति की उच्चतम आवश्यकताओं को पूरा करके और आंतरिक प्रेरणा को नियोजित करके हासिल किया जाता है

2. ✔

यह तर्क, परिकल्पना, व्याख्या और भविष्यवाणी की क्षमताओं को विकसित करके हासिल किया जाता है

3. ✖

यह स्मृति और फोकस करने की क्षमताओं को विकसित करके महसूस किया जाता है

4. ✖

यह स्मरणशक्ति और मान्यता क्षमताओं को विकसित करने के लिए हासिल किया जाता है

Question Number : 148 Question Id : 16794318926 Question Type : MCQ Option Shuffling : Yes Display Question Number : Yes
Single Line Question Option : No Option Orientation : Vertical

Correct Marks : 1 Wrong Marks : 0.25

What is the initial stage for planning an achievement test?

Options :

1. ✖

Writing the questions in sequential manner

2. ✖

Numbering the questions properly

3. ✔

Stating the objectives in such a form that it will enable their achievements to be verified

4. ✖

Being clear in thoughts and words

Question Number : 148 Question Id : 16794318926 Question Type : MCQ Option Shuffling : Yes Display Question Number : Yes
Single Line Question Option : No Option Orientation : Vertical

Correct Marks : 1 Wrong Marks : 0.25

उपलब्धि परीक्षण की योजना के लिए प्रारंभिक चरण क्या है?

Options :

1. ✖

अनुक्रमिक तरीके से प्रश्नों को लिखना

2. ✖ प्रश्नों को सही तरीके से क्रमांकित करना

3. ✔

उद्देश्यों को इस तरह के रूप में बताते हुए कि यह उनकी उपलब्धियों को सत्यापित करने में सक्षम होना

4. ✖ विचारों और शब्दों में स्पष्ट होना

Question Number : 149 Question Id : 16794318927 Question Type : MCQ Option Shuffling : Yes Display Question Number : Yes
Single Line Question Option : No Option Orientation : Vertical

Correct Marks : 1 Wrong Marks : 0.25

Rohan is listening to the lecture being delivered. He is able to understand and evaluate what the teacher says. Which type of listening is this?

Options :

1. ✖ Casual listening

2. ✔ Focused listening

3. ✖ Gradual listening

4. ✖ Gist listening

Question Number : 149 Question Id : 16794318927 Question Type : MCQ Option Shuffling : Yes Display Question Number : Yes
Single Line Question Option : No Option Orientation : Vertical

Correct Marks : 1 Wrong Marks : 0.25

रोहन व्याख्यान को सुन रहा है। वह शिक्षक की बातों को समझने और उसका मूल्यांकन करने में सक्षम है। यह किस तरह का श्रवण है?

Options :

1. ✖ आकस्मिक श्रवण

2. ✔ केंद्रित श्रवण

3. ✖ क्रमिक श्रवण

4. ✖ भावार्थीय श्रवण

Question Number : 150 Question Id : 16794318928 Question Type : MCQ Option Shuffling : Yes Display Question Number : Yes
Single Line Question Option : No Option Orientation : Vertical

Correct Marks : 1 Wrong Marks : 0.25

Geeta picked a book from the library. She saw the title page, contents and flipped the pages to decide whether she wanted to borrow the book or not. Which reading technique is Geeta following?

Options :

1. ✓ Skimming
2. ✗ Scanning
3. ✗ Intensive
4. ✗ Extensive

Question Number : 150 Question Id : 16794318928 Question Type : MCQ Option Shuffling : Yes Display Question Number : Yes
Single Line Question Option : No Option Orientation : Vertical

Correct Marks : 1 Wrong Marks : 0.25

गीता ने लाइब्रेरी से एक पुस्तक ली। उसने शीर्षक पृष्ठ, सामग्रियों को देखा और यह तय करने के लिए पृष्ठों को पलटा कि क्या वह पुस्तक उधार लेना चाहती है या नहीं। गीता निम्नलिखित कौन सी रीडिंग तकनीक का पालन करती है?

Options :

1. ✓ स्किमिंग
2. ✗ स्कैनिंग
3. ✗ गहन
4. ✗ व्यापक

Question Number : 151 Question Id : 16794318929 Question Type : MCQ Option Shuffling : Yes Display Question Number : Yes
Single Line Question Option : No Option Orientation : Vertical

Correct Marks : 1 Wrong Marks : 0.25

In an English class, the teacher makes use of picture composition for framing short stories and asks students to collect short stories from English magazines and story books. This strategy of the teacher develops which skill in students?

Options :

1. ✗ Developing attention
2. ✗ Surfing internet
3. ✓ Reading
4. ✗ Writing

Question Number : 151 Question Id : 16794318929 Question Type : MCQ Option Shuffling : Yes Display Question Number : Yes
Single Line Question Option : No Option Orientation : Vertical

Correct Marks : 1 Wrong Marks : 0.25

एक अंग्रेजी कक्षा में, शिक्षक लघु कथाओं को तैयार करने के लिए चित्र संरचना का उपयोग करता है और छात्रों को अंग्रेजी पत्रिकाओं और कहानी पुस्तकों से छोटी कहानियां एकत्र करने के लिए कहता है। शिक्षक की यह रणनीति छात्रों में कौन सा कौशल विकसित करती है?

Options :

1. ✖ ध्यान विकसित करना
2. ✖ इंटरनेट सर्फिंग
3. ✔ पठन
4. ✖ लेखन

Question Number : 152 Question Id : 16794318930 Question Type : MCQ Option Shuffling : Yes Display Question Number : Yes
Single Line Question Option : No Option Orientation : Vertical

Correct Marks : 1 Wrong Marks : 0.25

Who developed the teaching method called Suggestopedia?

Options :

1. ✖ Vygotsky
2. ✖ Jean Piaget
3. ✔ Georgi Lozanov
4. ✖ Skinner

Question Number : 152 Question Id : 16794318930 Question Type : MCQ Option Shuffling : Yes Display Question Number : Yes
Single Line Question Option : No Option Orientation : Vertical

Correct Marks : 1 Wrong Marks : 0.25

‘सजेस्टोपेडिया’ नामक शिक्षण पद्धति किसने विकसित की?

Options :

1. ✖ विगोस्तकी (Vygotsky)
2. ✖ जॉ प्याज़े (Jean Piaget)
3. ✔ जॉर्जी लोज़ानोव (Georgi Lozanov)
4. ✖ स्किनर (Skinner)

Question Number : 153 Question Id : 16794318931 Question Type : MCQ Option Shuffling : Yes Display Question Number : Yes
Single Line Question Option : No Option Orientation : Vertical

Correct Marks : 1 Wrong Marks : 0.25

What is the meaning of reliability in assessment of second language?

Options :

1. ☒ Assessment test should produce the same result under the same conditions
2. ☐ It should address all objectives of learning, that is, all six academic standards
3. ☐ Assessment should be easy to administer, economical and should be conducted in a conducive environment
4. ☐ Assessment should contain wide variety of materials

Question Number : 153 Question Id : 16794318931 Question Type : MCQ Option Shuffling : Yes Display Question Number : Yes
Single Line Question Option : No Option Orientation : Vertical

Correct Marks : 1 Wrong Marks : 0.25

दूसरी भाषा के आकलन में विश्वसनीयता का अर्थ क्या है?

Options :

1. ☒ मूल्यांकन परीक्षा एक परिस्थिति में एक ही परिणाम देना चाहिए
2. ☐ यह सीखने के सभी उद्देश्यों को, यानी, सभी छह अकादमिक मानकों को संबोधित करना चाहिए
3. ☐ आकलन आसान, किफायती और एक अनुकूल वातावरण में आयोजित किया जाना चाहिए आसान होना चाहिए
4. ☐ आकलन में बहुत सारी पाठ्य सामग्री की विविधताएँ होनी चाहिए

Question Number : 154 Question Id : 16794318932 Question Type : MCQ Option Shuffling : Yes Display Question Number : Yes
Single Line Question Option : No Option Orientation : Vertical

Correct Marks : 1 Wrong Marks : 0.25

What is the meaning of lexical?

Options :

1. ☐ Sound system
2. ☐ Sentences
3. ☐ Context-dependent rules and style
4. ☒ Relating to the words or vocabulary of a language.

Question Number : 154 Question Id : 16794318932 Question Type : MCQ Option Shuffling : Yes Display Question Number : Yes
Single Line Question Option : No Option Orientation : Vertical

Correct Marks : 1 Wrong Marks : 0.25

लेक्सिकल (lexical) का अर्थ क्या है?

Options :

1. ✖ ध्वनि प्रणाली
2. ✖ वाक्य
3. ✖ सन्दर्भ-आधारित नियम और शैली पर
4. ✔ किसी भाषा के शब्दों या शब्दावली से संबंधित

Question Number : 155 Question Id : 16794318933 Question Type : MCQ Option Shuffling : Yes Display Question Number : Yes
Single Line Question Option : No Option Orientation : Vertical

Correct Marks : 1 Wrong Marks : 0.25

Which one of the following is an example of a child's directed speech?

Options :

1. ✖ Disciplining to draw attention
2. ✔ Speaking complete sentences
3. ✖ Lack of repetitions
4. ✖ Relating to past experiences

Question Number : 155 Question Id : 16794318933 Question Type : MCQ Option Shuffling : Yes Display Question Number : Yes
Single Line Question Option : No Option Orientation : Vertical

Correct Marks : 1 Wrong Marks : 0.25

निम्नलिखित में से कौन सा एक बच्चे के निर्देशित भाषण का एक उदाहरण है?

Options :

1. ✖ ध्यान आकर्षित करने के लिए अनुशासन
2. ✔ पूरा वाक्य बोलना
3. ✖ पुनरावृत्ति की कमी
4. ✖ पिछले अनुभवों से संबंधित

Question Number : 156 Question Id : 16794318934 Question Type : MCQ Option Shuffling : Yes Display Question Number : Yes
Single Line Question Option : No Option Orientation : Vertical

Correct Marks : 1 Wrong Marks : 0.25

What is the optimum condition for language learning in the home, identified by Hart in 2000?

Options :

1. ☒ Not including the children in interaction
2. ☐ Increasing the amount of interaction with children
3. ☐ Disciplining the children when they interact
4. ☐ Correcting the errors of children when they interact

Question Number : 156 Question Id : 16794318934 Question Type : MCQ Option Shuffling : Yes Display Question Number : Yes
Single Line Question Option : No Option Orientation : Vertical

Correct Marks : 1 Wrong Marks : 0.25

हार्ट द्वारा 2000 में पहचान किये गए तथ्यों के अनुसार घर में भाषा सीखने की इष्टतम शर्तें क्या हैं?

Options :

1. ☒ बातचीत में बच्चों को शामिल नहीं करना
2. ☐ बच्चों के साथ बातचीत की मात्रा में वृद्धि
3. ☐ बातचीत करते समय बच्चों को अनुशासित रखना
4. ☐ बातचीत करते समय बच्चों की त्रुटियों को सुधारना

Question Number : 157 Question Id : 16794318935 Question Type : MCQ Option Shuffling : Yes Display Question Number : Yes
Single Line Question Option : No Option Orientation : Vertical

Correct Marks : 1 Wrong Marks : 0.25

How to assess the development of listening skill?

Options :

1. ☒ Understanding what words mean and the connections among words
2. ☐ Using language for different purposes
3. ☐ Detecting, manipulating or analysing the written words
4. ☐ Using words conventionally

Question Number : 157 Question Id : 16794318935 Question Type : MCQ Option Shuffling : Yes Display Question Number : Yes
Single Line Question Option : No Option Orientation : Vertical

Correct Marks : 1 Wrong Marks : 0.25

श्रवण कौशल के विकास का आकलन कैसे किया जाता है?

Options :

1. ☒ शब्दों का मतलब और शब्दों के बीच संबंधों को समझना
2. ☐ विभिन्न उद्देश्यों के लिए भाषा का प्रयोग करना
3. ☐ लिखित शब्दों का पता लगाना, छेड़छाड़ करना या विश्लेषण करना
4. ☐ परंपरागत शब्दों का प्रयोग करना

Question Number : 158 Question Id : 16794318936 Question Type : MCQ Option Shuffling : Yes Display Question Number : Yes
Single Line Question Option : No Option Orientation : Vertical

Correct Marks : 1 Wrong Marks : 0.25

Evaluation that monitors the learning progress during teaching is:

Options :

1. ☐ Placement evaluation
2. ☒ Formative evaluation
3. ☐ Diagnostic evaluation
4. ☐ Summative evaluation

Question Number : 158 Question Id : 16794318936 Question Type : MCQ Option Shuffling : Yes Display Question Number : Yes
Single Line Question Option : No Option Orientation : Vertical

Correct Marks : 1 Wrong Marks : 0.25

मूल्यांकन के दौरान सीखने की प्रगति पर नज़र रखने वाला मूल्यांकन यह है:

Options :

1. ☐ प्लेसमेंट मूल्यांकन
2. ☒ निर्माणात्मक मूल्यांकन
3. ☐ नैदानिक मूल्यांकन
4. ☐ सारांश मूल्यांकन

Question Number : 159 Question Id : 16794318937 Question Type : MCQ Option Shuffling : Yes Display Question Number : Yes
Single Line Question Option : No Option Orientation : Vertical

Correct Marks : 1 Wrong Marks : 0.25

Which of the below ascertains the quantitative value that expresses the amount of characteristics possessed by an individual?

Options :

1. ☒ Measurement
2. ☐ Test
3. ☐ Evaluation
4. ☐ Assessment

Question Number : 159 Question Id : 16794318937 Question Type : MCQ Option Shuffling : Yes Display Question Number : Yes
Single Line Question Option : No Option Orientation : Vertical

Correct Marks : 1 Wrong Marks : 0.25

नीचे से कौन सा मात्रात्मक मान निर्धारित करता है जो किसी व्यक्ति द्वारा प्राप्त विशेषताओं की मात्रा को व्यक्त करता है?

Options :

1. ☒ माप
2. ☐ परीक्षा
3. ☐ मूल्यांकन
4. ☐ निर्धारण

Question Number : 160 Question Id : 16794318938 Question Type : MCQ Option Shuffling : Yes Display Question Number : Yes
Single Line Question Option : No Option Orientation : Vertical

Correct Marks : 1 Wrong Marks : 0.25

What is the purpose of evaluation?

Options :

1. ☐ To have a periodic process of assessment
2. ☐ To obtain the data of achievement of a student
3. ☐ To test the knowledge of an individual in a subject
4. ☒ To measure the educational achievements and work towards improving the students

Question Number : 160 Question Id : 16794318938 Question Type : MCQ Option Shuffling : Yes Display Question Number : Yes
Single Line Question Option : No Option Orientation : Vertical

Correct Marks : 1 Wrong Marks : 0.25

मूल्यांकन का उद्देश्य क्या है?

Options :

1. ✖ मूल्यांकन की आवधिक प्रक्रिया के लिए
2. ✖ छात्र की उपलब्धि के डेटा प्राप्त करने के लिए
3. ✖ किसी विषय में किसी व्यक्ति के ज्ञान का परीक्षण करने के लिए
4. ✔ छात्र की शैक्षिक उपलब्धियों को मापने और उन्हें सुधारने के लिए काम करने के लिए

Subject Related

Group Number :	9
Group Id :	167943712
Group Maximum Duration :	0
Group Minimum Duration :	0
Revisit allowed for view? :	No
Revisit allowed for edit? :	No
Break time:	0
Group Marks:	20
Revisit allowed for group Instructions? :	Yes
Maximum Instruction Time:	0
Minimum Instruction Time:	0

Subject Related

Section Id :	167943777
Section Number :	1
Section type :	Online
Mandatory or Optional:	Mandatory
Number of Questions:	20
Number of Questions to be attempted:	20
Section Marks:	20
Display Number Panel:	Yes
Group All Questions:	No

Sub-Section Number:	1
Sub-Section Id:	1679431203
Question Shuffling Allowed :	Yes

Question Number : 161 Question Id : 16794318939 Question Type : MCQ Option Shuffling : Yes Display Question Number : Yes
Single Line Question Option : No Option Orientation : Vertical

Correct Marks : 1 Wrong Marks : 0.25

A maths teacher is teaching maths to grade 5 students in such a way that she is closely knitting her teaching with the experiences of the students in their daily routine. The approach followed by the teacher is:

Options :

1. ✖ Incidental approach
2. ✖ Drill approach
3. ✔ Social approach
4. ✖ Meaningful approach

Question Number : 161 Question Id : 16794318939 Question Type : MCQ Option Shuffling : Yes Display Question Number : Yes
Single Line Question Option : No Option Orientation : Vertical

Correct Marks : 1 Wrong Marks : 0.25

एक गणित शिक्षक ग्रेड 5 छात्रों को इस तरह से गणित पढ़ा रही है कि वह अपने छात्रों के दैनिक दिनचर्या में उनके अनुभवों के साथ अपने शिक्षण को बारीकी से बुन रही है। शिक्षक के बाद दृष्टिकोण यह है:

Options :

1. ✖ आकस्मिक दृष्टिकोण
2. ✖ ड्रिल दृष्टिकोण
3. ✔ सामाजिक दृष्टिकोण
4. ✖ अर्थपूर्ण दृष्टिकोण

Question Number : 162 Question Id : 16794318940 Question Type : MCQ Option Shuffling : Yes Display Question Number : Yes
Single Line Question Option : No Option Orientation : Vertical

Correct Marks : 1 Wrong Marks : 0.25

Which technique of co-operative learning was developed by Frank T. Lyman?

Options :

1. ✖ Jigsaw
2. ✔ Think-pair-share
3. ✖ Role play
4. ✖ Peer learning

Question Number : 162 Question Id : 16794318940 Question Type : MCQ Option Shuffling : Yes Display Question Number : Yes
Single Line Question Option : No Option Orientation : Vertical

Correct Marks : 1 Wrong Marks : 0.25

फ्रैंक टी लाइमैन द्वारा सहकारी शिक्षा की कौन सी तकनीक विकसित की गई थी?

Options :

1. ✖ जिग्सॉ
2. ✔ थिंक-पेअर-शेयर
3. ✖ रोल प्ले
4. ✖ साथ-साथ सीखना

Question Number : 163 Question Id : 16794318941 Question Type : MCQ Option Shuffling : Yes Display Question Number : Yes
Single Line Question Option : No Option Orientation : Vertical

Correct Marks : 1 Wrong Marks : 0.25

Which method is suitable for teaching of Environmental studies?

Options :

1. ✖ Story telling method
2. ✖ Discussion method
3. ✔ Activity based method
4. ✖ Lecture method

Question Number : 163 Question Id : 16794318941 Question Type : MCQ Option Shuffling : Yes Display Question Number : Yes
Single Line Question Option : No Option Orientation : Vertical

Correct Marks : 1 Wrong Marks : 0.25

पर्यावरण अध्ययन के शिक्षण के लिए कौन सी विधि उपयुक्त है?

Options :

1. ✖ कहानी कहने की विधि
2. ✖ चर्चा विधि
3. ✔ गतिविधि आधारित विधि
4. ✖ व्याख्यान विधि

Question Number : 164 Question Id : 16794318942 Question Type : MCQ Option Shuffling : Yes Display Question Number : Yes
Single Line Question Option : No Option Orientation : Vertical

Correct Marks : 1 Wrong Marks : 0.25

Which of the below options represents the examples of institutional resources?

Options :

1. ✖ Rivers, forests, etc.
2. ✖ Books, pencils, etc.
3. ✖ Newspaper, TV, etc.
4. ✔ Post office, bank, etc.

Question Number : 164 Question Id : 16794318942 Question Type : MCQ Option Shuffling : Yes Display Question Number : Yes
Single Line Question Option : No Option Orientation : Vertical

Correct Marks : 1 Wrong Marks : 0.25

निम्नलिखित में से कौन सा विकल्प संस्थागत संसाधनों के उदाहरणों का प्रतिनिधित्व करता है?

Options :

1. ✖ नदियों, जंगलों, आदि
2. ✖ किताबें, पेंसिल आदि
3. ✖ समाचार पत्र, टीवी, आदि
4. ✔ डाकघर, बैंक, आदि

Question Number : 165 Question Id : 16794318943 Question Type : MCQ Option Shuffling : Yes Display Question Number : Yes
Single Line Question Option : No Option Orientation : Vertical

Correct Marks : 1 Wrong Marks : 0.25

Which of these effects our surroundings and has harmful effects on plants, animals and human beings.

Options :

1. ✖ Pollutant
2. ✖ Pollute
3. ✔ Pollution
4. ✖ Polluted

Question Number : 165 Question Id : 16794318943 Question Type : MCQ Option Shuffling : Yes Display Question Number : Yes
Single Line Question Option : No Option Orientation : Vertical

Correct Marks : 1 Wrong Marks : 0.25

इनमें से कौन सा हमारे आस-पास प्रभाव डालता है और पौधों, जानवरों और मनुष्यों पर हानिकारक प्रभाव डालता है?

Options :

1. ✖ प्रदूषक
2. ✖ प्रदूषित किया हुआ
3. ✔ प्रदूषण
4. ✖ प्रदूषित

Question Number : 166 Question Id : 16794318944 Question Type : MCQ Option Shuffling : Yes Display Question Number : Yes
Single Line Question Option : No Option Orientation : Vertical

Correct Marks : 1 Wrong Marks : 0.25

The concept of 'Environmental awareness and education in general education streams and in teacher preparation' was introduced in which conference for the first time?

Options :

1. ✔ Stockholm Conference
2. ✖ Sweden Conference
3. ✖ UNO Conference
4. ✖ Indian Conference

Question Number : 166 Question Id : 16794318944 Question Type : MCQ Option Shuffling : Yes Display Question Number : Yes
Single Line Question Option : No Option Orientation : Vertical

Correct Marks : 1 Wrong Marks : 0.25

'सामान्य शिक्षा धाराओं और शिक्षण तैयारी में पर्यावरण जागरूकता और शिक्षा' की अवधारणा पहली बार किस सम्मेलन में पेश की गई थी?

Options :

1. ✔ स्टॉकहोम सम्मेलन
2. ✖ स्वीडन सम्मेलन
3. ✖ यूएनओ सम्मेलन
4. ✖ भारतीय सम्मेलन

Question Number : 167 Question Id : 16794318945 Question Type : MCQ Option Shuffling : Yes Display Question Number : Yes
Single Line Question Option : No Option Orientation : Vertical

Correct Marks : 1 Wrong Marks : 0.25

The mother tongue usage can be a good option to teach at primary level because:

Options :

1. ✖ Develops mother tongue
2. ✖ Develops confidence in teachers
3. ✔ Helps children to learn in natural environment
4. ✖ Helps the students to score good marks

Question Number : 167 Question Id : 16794318945 Question Type : MCQ Option Shuffling : Yes Display Question Number : Yes
Single Line Question Option : No Option Orientation : Vertical

Correct Marks : 1 Wrong Marks : 0.25

प्राथमिक स्तर पर सिखाने के लिए मातृभाषा का उपयोग एक अच्छा विकल्प हो सकता है क्योंकि:

Options :

1. ✖ मातृभाषा विकसित करता है
2. ✖ शिक्षकों में विश्वास विकसित करता है
3. ✔ बच्चों को प्राकृतिक पर्यावरण में सीखने में मदद करता है
4. ✖ छात्रों को अच्छे अंक स्कोर करने में मदद करता है

Question Number : 168 Question Id : 16794318946 Question Type : MCQ Option Shuffling : Yes Display Question Number : Yes
Single Line Question Option : No Option Orientation : Vertical

Correct Marks : 1 Wrong Marks : 0.25

What is the “mug and jug model”:

Options :

1. ✖ An ancient way of teaching in classrooms
2. ✔ A traditional way of teaching in classrooms
3. ✖ A modern way of teaching in classrooms
4. ✖ The latest way of teaching in classrooms

Question Number : 168 Question Id : 16794318946 Question Type : MCQ Option Shuffling : Yes Display Question Number : Yes
Single Line Question Option : No Option Orientation : Vertical

Correct Marks : 1 Wrong Marks : 0.25

"मग और जुग मॉडल" क्या है:

Options :

1. ✖ कक्षाओं में शिक्षण का एक प्राचीन तरीका
2. ✔ कक्षाओं में शिक्षण का एक पारंपरिक तरीका
3. ✖ कक्षाओं में शिक्षण का एक आधुनिक तरीका
4. ✖ कक्षाओं में पढ़ाने का नवीनतम तरीका

Question Number : 169 Question Id : 16794318947 Question Type : MCQ Option Shuffling : Yes Display Question Number : Yes
Single Line Question Option : No Option Orientation : Vertical

Correct Marks : 1 Wrong Marks : 0.25

How can we develop reasoning and justification skills through social studies?

Options :

1. ✔ By organising debates
2. ✖ By organising field trips
3. ✖ By conducting quizzes
4. ✖ Through map-pointing exercises

Question Number : 169 Question Id : 16794318947 Question Type : MCQ Option Shuffling : Yes Display Question Number : Yes
Single Line Question Option : No Option Orientation : Vertical

Correct Marks : 1 Wrong Marks : 0.25

सामाजिक अध्ययन के माध्यम से हम तर्क और औचित्य कौशल कैसे विकसित कर सकते हैं?

Options :

1. ✔ बहस आयोजित करके
2. ✖ क्षेत्र यात्रा का आयोजन करके
3. ✖ क्विज़ आयोजित करके
4. ✖ मानचित्र-पाइंटिंग अभ्यास के माध्यम से

Question Number : 170 Question Id : 16794318948 Question Type : MCQ Option Shuffling : Yes Display Question Number : Yes
Single Line Question Option : No Option Orientation : Vertical

Correct Marks : 1 Wrong Marks : 0.25

Which drawing exercise may give us many insights into children's thinking about: how water in villages gets polluted, different pollutants, etc.?

Options :

1. ✖ Drawing of village roads
2. ✖ Drawing of village panchayat
3. ✔ Drawing of village pond
4. ✖ Drawing of village school

Question Number : 170 Question Id : 16794318948 Question Type : MCQ Option Shuffling : Yes Display Question Number : Yes
Single Line Question Option : No Option Orientation : Vertical

Correct Marks : 1 Wrong Marks : 0.25

कौन सा ड्राइंग अभ्यास हमें बच्चों की सोच में कई अंतर्दृष्टि दे सकता है: गांवों में पानी प्रदूषित, विभिन्न प्रदूषक आदि कैसे मिलता है?

Options :

1. ✖ गांव की सड़कों का चित्रण
2. ✖ गांव पंचायत का चित्रण
3. ✔ गांव तालाब का चित्रण
4. ✖ गांव स्कूल का चित्रण

Question Number : 171 Question Id : 16794318949 Question Type : MCQ Option Shuffling : Yes Display Question Number : Yes
Single Line Question Option : No Option Orientation : Vertical

Correct Marks : 1 Wrong Marks : 0.25

One crucial element in evaluating art work is that:

Options :

1. ✖ There should not be any evaluation
2. ✔ There should not be a judgement of "good" or "bad"
3. ✖ Teacher should not evaluate students' work
4. ✖ Teacher should give grades to the work

Question Number : 171 Question Id : 16794318949 Question Type : MCQ Option Shuffling : Yes Display Question Number : Yes
Single Line Question Option : No Option Orientation : Vertical

Correct Marks : 1 Wrong Marks : 0.25

कला कार्य का मूल्यांकन करने में एक महत्वपूर्ण तत्व यह है कि:

Options :

1. ✖ कोई मूल्यांकन नहीं होना चाहिए
2. ✔ "अच्छा" या "बुरा" का निर्णय नहीं होना चाहिए
3. ✖ शिक्षक को छात्रों के काम का मूल्यांकन नहीं करना चाहिए
4. ✖ शिक्षक को काम करने के लिए ग्रेड देना चाहिए

Question Number : 172 Question Id : 16794318950 Question Type : MCQ Option Shuffling : Yes Display Question Number : Yes
Single Line Question Option : No Option Orientation : Vertical

Correct Marks : 1 Wrong Marks : 0.25

Which of the following is not a tool in evaluating art?

Options :

1. ✖ Observation schedule
2. ✖ Portfolio
3. ✖ Checklist
4. ✔ Question paper

Question Number : 172 Question Id : 16794318950 Question Type : MCQ Option Shuffling : Yes Display Question Number : Yes
Single Line Question Option : No Option Orientation : Vertical

Correct Marks : 1 Wrong Marks : 0.25

कला का मूल्यांकन करने में निम्नलिखित में से कौन सा टूल नहीं है?

Options :

1. ✖ निरीक्षण कार्यक्रम
2. ✖ पोर्टफोलियो
3. ✖ चेकलिस्ट
4. ✔ प्रश्न पत्र

Question Number : 173 Question Id : 16794318951 Question Type : MCQ Option Shuffling : Yes Display Question Number : Yes
Single Line Question Option : No Option Orientation : Vertical

Correct Marks : 1 Wrong Marks : 0.25

Which of the below are reliable means to measure one's learning?

Options :

1. ✖ Ranks
2. ✖ Rubrix
3. ✔ Indicators
4. ✖ Matrix

Question Number : 173 Question Id : 16794318951 Question Type : MCQ Option Shuffling : Yes Display Question Number : Yes
Single Line Question Option : No Option Orientation : Vertical

Correct Marks : 1 Wrong Marks : 0.25

किसी के सीखने को मापने के लिए नीचे से कौन सा विश्वसनीय साधन है?

Options :

1. ✖ रैंक
2. ✖ रूब्रिक्स
3. ✔ संकेतक
4. ✖ मैट्रिक्स

Question Number : 174 Question Id : 16794318952 Question Type : MCQ Option Shuffling : Yes Display Question Number : Yes
Single Line Question Option : No Option Orientation : Vertical

Correct Marks : 1 Wrong Marks : 0.25

What are the 3 Rs of school gardening?

Options :

1. ✔ Ready to learn, resilient, responsible,
2. ✖ Reproduce, revive, regrow
3. ✖ Ready to grow, responsible, resourceful
4. ✖ Ready to sow, revive, regrow

Question Number : 174 Question Id : 16794318952 Question Type : MCQ Option Shuffling : Yes Display Question Number : Yes
Single Line Question Option : No Option Orientation : Vertical

Correct Marks : 1 Wrong Marks : 0.25

स्कूल बागवानी के 3 रुपये क्या हैं?

Options :

1. ✓ सीखने के लिए तैयार, लचीला, जिम्मेदार,
2. ✗ पुनः उत्पन्न, पुनर्जीवित
3. ✗ बढ़ने के लिए तैयार, जिम्मेदार, संसाधन
4. ✗ बोलने के लिए तैयार, पुनर्जीवित, पुनर्विकास

Question Number : 175 Question Id : 16794318953 Question Type : MCQ Option Shuffling : Yes Display Question Number : Yes
Single Line Question Option : No Option Orientation : Vertical
Correct Marks : 1 Wrong Marks : 0.25

One of the most critical objectives of school gardening that helps in cognitive development is:

Options :

1. ✓ Using senses to wonder and question
2. ✗ Feeling the soil
3. ✗ Observing the seed germination
4. ✗ Socialising with peers

Question Number : 175 Question Id : 16794318953 Question Type : MCQ Option Shuffling : Yes Display Question Number : Yes
Single Line Question Option : No Option Orientation : Vertical
Correct Marks : 1 Wrong Marks : 0.25

स्कूल बागवानी के सबसे महत्वपूर्ण उद्देश्यों में से एक जो संज्ञानात्मक विकास में मदद करता है:

Options :

1. ✓ आश्चर्य और प्रश्न के लिए इंद्रियों का उपयोग करना
2. ✗ मिट्टी महसूस कर रहा हूँ
3. ✗ बीज अंकुरण का निरीक्षण करना
4. ✗ साथियों के साथ सोशलायजिंग

Question Number : 176 Question Id : 16794318954 Question Type : MCQ Option Shuffling : Yes Display Question Number : Yes
Single Line Question Option : No Option Orientation : Vertical
Correct Marks : 1 Wrong Marks : 0.25

Which style of learning does gardening address?

Options :

1. ✖ Visual learning style only
2. ✖ Auditory learning style only
3. ✔ Kinaesthetic learning style
4. ✖ Application learning style only

Question Number : 176 Question Id : 16794318954 Question Type : MCQ Option Shuffling : Yes Display Question Number : Yes
Single Line Question Option : No Option Orientation : Vertical

Correct Marks : 1 Wrong Marks : 0.25

बागवानी के पते (Gardening Address) में सीखने की कौन सी शैली है?

Options :

1. ✖ केवल दृश्य सीखने की शैली
2. ✖ केवल श्रवण सीखने की शैली
3. ✔ काइनेसथेटिक सीखने की शैली
4. ✖ केवल आवेदन सीखने सीखने शैली

Question Number : 177 Question Id : 16794318955 Question Type : MCQ Option Shuffling : Yes Display Question Number : Yes
Single Line Question Option : No Option Orientation : Vertical

Correct Marks : 1 Wrong Marks : 0.25

Which of the below can be associated with a teen's healthy social development?

Options :

1. ✖ Relationship with teachers in school
2. ✖ Relationship with parents
3. ✔ Relationship with peer group
4. ✖ Relationship with self

Question Number : 177 Question Id : 16794318955 Question Type : MCQ Option Shuffling : Yes Display Question Number : Yes
Single Line Question Option : No Option Orientation : Vertical

Correct Marks : 1 Wrong Marks : 0.25

किशोरों के स्वस्थ सामाजिक विकास से नीचे कौन सा जोड़ा जा सकता है?

Options :

1. ✖ स्कूल में शिक्षकों के साथ उसके संबंध
2. ✖ माता-पिता के साथ उसके संबंध
3. ✔ सहकर्मी समूह के साथ उसके संबंध
4. ✖ स्वयं के साथ उसके संबंध

Question Number : 178 Question Id : 16794318956 Question Type : MCQ Option Shuffling : Yes Display Question Number : Yes
Single Line Question Option : No Option Orientation : Vertical

Correct Marks : 1 Wrong Marks : 0.25

What should parents do to help adolescents handle their problems?

Options :

1. ✔ Openly talk about youth issues and, with the help of their own experience, prepare the adolescents to protect themselves
2. ✖ Ignore the adolescents as they believe that sex education means you are encouraging sex
3. ✖ Feel school is responsible as it highlights human anatomy and reproductive system
4. ✖ Help the adolescents by taking them to the counselors

Question Number : 178 Question Id : 16794318956 Question Type : MCQ Option Shuffling : Yes Display Question Number : Yes
Single Line Question Option : No Option Orientation : Vertical

Correct Marks : 1 Wrong Marks : 0.25

किशोरावस्था में उनकी समस्याओं को संभालने में मदद करने के लिए माता-पिता को क्या करना चाहिए?

Options :

1. ✔ युवा मुद्दों के बारे में खुले तौर पर बात करें और, अपने अनुभव की मदद से, किशोरावस्था को खुद को बचाने के लिए तैयार करें
2. ✖ किशोरों को अनदेखा करें क्योंकि उनका मानना है कि यौन शिक्षा का मतलब है कि आप सेक्स को प्रोत्साहित कर रहे हैं
3. ✖ महसूस करें कि स्कूल जिम्मेदार है क्योंकि यह मानव शरीर रचना और प्रजनन प्रणाली को हाइलाइट करता है
4. ✖ किशोरों को सलाहकारों के पास ले जाकर उनकी मदद करें

Question Number : 179 Question Id : 16794318957 Question Type : MCQ Option Shuffling : Yes Display Question Number : Yes
Single Line Question Option : No Option Orientation : Vertical

Correct Marks : 1 Wrong Marks : 0.25

Which age group according to WHO comes under adolescents?

Options :

1. ✖ 10 to 24
2. ✖ 15 to 24
3. ✖ 10 to 20
4. ✔ 10 to 19

Question Number : 179 Question Id : 16794318957 Question Type : MCQ Option Shuffling : Yes Display Question Number : Yes
Single Line Question Option : No Option Orientation : Vertical

Correct Marks : 1 Wrong Marks : 0.25

डब्ल्यूएचओ के अनुसार कौन सा आयु समूह किशोरावस्था में आता है?

Options :

1. ✖ 10 से 24
2. ✖ 15 से 24
3. ✖ 10 से 20
4. ✔ 10 से 19

Question Number : 180 Question Id : 16794318958 Question Type : MCQ Option Shuffling : Yes Display Question Number : Yes
Single Line Question Option : No Option Orientation : Vertical

Correct Marks : 1 Wrong Marks : 0.25

How can the school take the responsibility of building of physical growth and development in adolescents?

Options :

1. ✖ Providing indepth information about games and sports in classroom
2. ✖ Providing knowledge about mental and emotional changes
3. ✔ Providing ample opportunities for physical activities
4. ✖ Providing intense professional training keeping future in mind

Question Number : 180 Question Id : 16794318958 Question Type : MCQ Option Shuffling : Yes Display Question Number : Yes
Single Line Question Option : No Option Orientation : Vertical

Correct Marks : 1 Wrong Marks : 0.25

किशोरावस्था में शारीरिक विकास और विकास के निर्माण की जिम्मेदारी कैसे ले सकते हैं?

Options :

1. ✖ कक्षा में खेल और खेल के बारे में जानकारी प्रदान करना
2. ✖ मानसिक और भावनात्मक परिवर्तनों के बारे में ज्ञान प्रदान करना
3. ✔ शारीरिक गतिविधियों के लिए पर्याप्त अवसर प्रदान करना
4. ✖ भविष्य में दिमाग को ध्यान में रखते हुए गहन पेशेवर प्रशिक्षण प्रदान करना

Subject Related

Group Number :	10
Group Id :	167943713
Group Maximum Duration :	0
Group Minimum Duration :	120
Revisit allowed for view? :	No
Revisit allowed for edit? :	No
Break time:	0
Group Marks:	20
Revisit allowed for group Instructions? :	Yes
Maximum Instruction Time:	0
Minimum Instruction Time:	0

Subject Related

Section Id :	167943778
Section Number :	1
Section type :	Online
Mandatory or Optional:	Mandatory
Number of Questions:	20
Number of Questions to be attempted:	20
Section Marks:	20
Display Number Panel:	Yes
Group All Questions:	No

Sub-Section Number:	1
Sub-Section Id:	1679431204
Question Shuffling Allowed :	Yes

Question Number : 181 Question Id : 16794318959 Question Type : MCQ Option Shuffling : Yes Display Question Number : Yes
Single Line Question Option : No Option Orientation : Vertical

Correct Marks : 1 Wrong Marks : 0.25

What do you mean by 'emotional immaturity' among adolescents?

Options :

1. ✖

The adolescents develop certain amount of independence in thinking and can critically examine the things to make the decision of his own.

2. ✔

Emotions of anger, fear, shame, disgust give rise to variation in moods, nervousness, sensitiveness, stubbornness, disobedience etc. Sex drive is also a prolific source of emotional disturbance in adolescence.

3. ✖

Adolescents, in general, cannot tolerate immoral or illegal activities, which leads to emotional disturbance

4. ✖

They organise their thoughts and activities in conformity with the ideal of the hero. This leads to emotional immaturity.

Question Number : 181 Question Id : 16794318959 Question Type : MCQ Option Shuffling : Yes Display Question Number : Yes
Single Line Question Option : No Option Orientation : Vertical

Correct Marks : 1 Wrong Marks : 0.25

किशोरावस्था में 'भावनात्मक अपरिपक्वता' से आपका क्या मतलब है?

Options :

1. ✖

किशोरावस्था सोचने में आजादी की कुछ मात्रा विकसित करती है और अपने स्वयं के निर्णय लेने के लिए चीजों की गंभीर जांच कर सकती है।

2. ✔

क्रोध, भय, शर्म, घृणा की भावनाएं मनोदशा, घबराहट, संवेदनशीलता, जिद्दीपन, अवज्ञा आदि में बदलाव को जन्म देती हैं। सेक्स ड्राइव किशोरावस्था में भावनात्मक अशांति का एक शानदार स्रोत भी है।

3. ✖

किशोर, सामान्य रूप से, अनैतिक या अवैध गतिविधियों को बर्दाश्त नहीं कर सकते हैं, जिससे भावनात्मक गड़बड़ी होती है।

4. ✖

वे नायक के आदर्श के अनुरूप अपने विचारों और गतिविधियों को व्यवस्थित करते हैं। इससे भावनात्मक अपरिपक्वता होती है।

Question Number : 182 Question Id : 16794318960 Question Type : MCQ Option Shuffling : Yes Display Question Number : Yes
Single Line Question Option : No Option Orientation : Vertical

Correct Marks : 1 Wrong Marks : 0.25

What is the responsibility of a teacher for proper social development of adolescents?

Options :

1. ✔

Group games, debates, seminars, conferences may be organised. These will help the adolescents to participate in social activities.

2. ✖

The adolescents are generally interested in experimentation and self-examinations of objects. Hence, it is suggested that importance should be given on using new dynamic methods of teaching.

3. ✖

The adolescent has to face a large number of problems at this stage. As such, proper guidance and counseling should be provided by teachers.

4. ✖

Information about HIV and other sex-related diseases should be provided on a scientific manner by the teachers to the young adolescents. If necessary, teachers and parents must take help of counselors.

Question Number : 182 Question Id : 16794318960 Question Type : MCQ Option Shuffling : Yes Display Question Number : Yes
Single Line Question Option : No Option Orientation : Vertical

Correct Marks : 1 Wrong Marks : 0.25

किशोरावस्था के उचित सामाजिक विकास के लिए एक शिक्षक की ज़िम्मेदारी क्या है?

Options :

1. ✔

समूह के खेल, बहस, संगोष्ठियों, सम्मेलनों का आयोजन किया जा सकता है। इससे किशोरावस्था में सामाजिक गतिविधियों में भाग लेने में मदद मिलेगी।

2. ✖

किशोरावस्था आमतौर पर वस्तुओं के प्रयोग और आत्म-परीक्षाओं में रुचि रखते हैं। इसलिए, यह सुझाव दिया जाता है कि शिक्षण के नए गतिशील तरीकों का उपयोग करने पर महत्व दिया जाना चाहिए।

3. ✖

किशोरावस्था को इस चरण में बड़ी संख्या में समस्याओं का सामना करना पड़ता है। ऐसे में, शिक्षकों द्वारा उचित मार्गदर्शन और परामर्श प्रदान किया जाना चाहिए।

4. ✖

एचआईवी और अन्य यौन-संबंधी बीमारियों के बारे में जानकारी शिक्षकों द्वारा युवा किशोरों को वैज्ञानिक तरीके से प्रदान की जानी चाहिए। यदि आवश्यक हो, तो शिक्षकों और माता-पिता को सलाहकारों की मदद लेनी चाहिए।

Question Number : 183 Question Id : 16794318961 Question Type : MCQ Option Shuffling : Yes Display Question Number : Yes
Single Line Question Option : No Option Orientation : Vertical

Correct Marks : 1 Wrong Marks : 0.25

What is the full form of WHO an organization of UN?

Options :

1. ✖

World Health Office

2. ✖

World Hygiene office

3. ✖

World Health Orientation

4. ✔

World Health Organization

Question Number : 183 Question Id : 16794318961 Question Type : MCQ Option Shuffling : Yes Display Question Number : Yes
Single Line Question Option : No Option Orientation : Vertical

Correct Marks : 1 Wrong Marks : 0.25

संयुक्त राष्ट्र के संगठन WHO (डब्ल्यूएचओ) का पूरा रूप क्या है?

Options :

1. ✖ वल्ड हेल्थ ऑफिस
2. ✖ वल्ड हाइजीन ऑफिस
3. ✖ वल्ड हेल्थ ओरिएंटेशन
4. ✔ वल्ड हेल्थ ऑर्गेनाइज़ेशन

Question Number : 184 Question Id : 16794318962 Question Type : MCQ Option Shuffling : Yes Display Question Number : Yes
Single Line Question Option : No Option Orientation : Vertical

Correct Marks : 1 Wrong Marks : 0.25

What activities will you plan to develop health habits among students?

Options :

1. ✖ State importance of good health habits
2. ✖ Show movie related to health habits
3. ✖ Take students to doctor
4. ✔ Give rewards to the students exhibiting good health habits

Question Number : 184 Question Id : 16794318962 Question Type : MCQ Option Shuffling : Yes Display Question Number : Yes
Single Line Question Option : No Option Orientation : Vertical

Correct Marks : 1 Wrong Marks : 0.25

छात्रों के बीच स्वास्थ्य आदतों को विकसित करने की आप कौन सी गतिविधियां तैयार करेंगे?

Options :

1. ✖ अच्छी स्वास्थ्य आदतों का राज्य महत्व
2. ✖ स्वास्थ्य आदतों से संबंधित फिल्म दिखाएं
3. ✖ छात्रों को डॉक्टर के पास ले जाओ
4. ✔ अच्छे स्वास्थ्य आदतों को प्रदर्शित करने वाले छात्रों को पुरस्कार दें

Question Number : 185 Question Id : 16794318963 Question Type : MCQ Option Shuffling : Yes Display Question Number : Yes
Single Line Question Option : No Option Orientation : Vertical

Correct Marks : 1 Wrong Marks : 0.25

How can a teacher ensure a student's health?

Options :

1. ☒ By observing a student's behaviour, and his mental and physical condition
2. ☐ By observing a student's height and weight
3. ☐ By observing a student's health and hygiene habits
4. ☐ By observing a student's diet

Question Number : 185 Question Id : 16794318963 Question Type : MCQ Option Shuffling : Yes Display Question Number : Yes
Single Line Question Option : No Option Orientation : Vertical

Correct Marks : 1 Wrong Marks : 0.25

एक शिक्षक एक छात्र के स्वास्थ्य को कैसे सुनिश्चित कर सकता है?

Options :

1. ☒ एक छात्र के व्यवहार, और उसकी मानसिक और शारीरिक स्थिति को देखकर
2. ☐ छात्र की ऊंचाई और वजन देखकर
3. ☐ छात्र के स्वास्थ्य और स्वच्छता आदतों को देखकर
4. ☐ छात्र के आहार को देखकर

Question Number : 186 Question Id : 16794318964 Question Type : MCQ Option Shuffling : Yes Display Question Number : Yes
Single Line Question Option : No Option Orientation : Vertical

Correct Marks : 1 Wrong Marks : 0.25

What should be the first duty of a teacher do if he/she finds a student is very ill in the class?

Options :

1. ☐ Call his/her parents
2. ☐ Give medicine
3. ☒ Take him/her to doctor
4. ☐ Tell him/her to take rest

Question Number : 186 Question Id : 16794318964 Question Type : MCQ Option Shuffling : Yes Display Question Number : Yes
Single Line Question Option : No Option Orientation : Vertical

Correct Marks : 1 Wrong Marks : 0.25

एक शिक्षक का पहला कर्तव्य क्या होना चाहिए यदि उसकी कक्षा में छात्र बहुत बीमार है?

Options :

1. ✖ अपने माता-पिता को बुलाए
2. ✖ दवाई देना
3. ✔ उसे डॉक्टर के पास ले जाएं
4. ✖ उसे आराम करने के लिए कहें

Question Number : 187 Question Id : 16794318965 Question Type : MCQ Option Shuffling : Yes Display Question Number : Yes
Single Line Question Option : No Option Orientation : Vertical

Correct Marks : 1 Wrong Marks : 0.25

A student is not able to read the content on black board. As a teacher, first you will:

Options :

1. ✔ Ask him/her about his problem
2. ✖ Tell him/her to sit on the first bench
3. ✖ Inform this to the principal
4. ✖ Send him/her to the school counsellor

Question Number : 187 Question Id : 16794318965 Question Type : MCQ Option Shuffling : Yes Display Question Number : Yes
Single Line Question Option : No Option Orientation : Vertical

Correct Marks : 1 Wrong Marks : 0.25

एक छात्र ब्लैक बोर्ड पर सामग्री को पढ़ने में सक्षम नहीं है। एक शिक्षक के रूप में, सर्वप्रथम आप क्या करेंगे?

Options :

1. ✔ उसे अपनी समस्या के बारे में पूछेंगे
2. ✖ उसे पहली बेंच पर बैठने के लिए कहेंगे
3. ✖ इसे प्रिंसिपल को सूचित करें
4. ✖ उसे स्कूल परामर्शदाता को भेजेंगे

Question Number : 188 Question Id : 16794318966 Question Type : MCQ Option Shuffling : Yes Display Question Number : Yes
Single Line Question Option : No Option Orientation : Vertical

Correct Marks : 1 Wrong Marks : 0.25

What is the role of a school in building a healthy child?

Options :

1. ☒ Use a coordinated approach to develop, implement and evaluate healthy eating and physical activity policies and practices
2. ☐ Provide first aid kit to students when they get injured
3. ☐ Take the student to hospital when sick
4. ☐ Arrange physical training periods

Question Number : 188 Question Id : 16794318966 Question Type : MCQ Option Shuffling : Yes Display Question Number : Yes
Single Line Question Option : No Option Orientation : Vertical

Correct Marks : 1 Wrong Marks : 0.25

स्वस्थ बच्चे के निर्माण में स्कूल की भूमिका क्या है?

Options :

1. ☒ स्वस्थ भोजन और शारीरिक गतिविधि नीतियों और कार्यप्रणाली को विकसित करने, कार्यान्वित करने और मूल्यांकन करने के लिए एक समन्वित दृष्टिकोण का उपयोग करें
2. ☐ छात्रों को घायल होने पर प्राथमिक चिकित्सा किट प्रदान करें
3. ☐ जब बीमार हो तो छात्र को अस्पताल ले जाएं
4. ☐ शारीरिक प्रशिक्षण अवधि व्यवस्थित करें

Question Number : 189 Question Id : 16794318967 Question Type : MCQ Option Shuffling : Yes Display Question Number : Yes
Single Line Question Option : No Option Orientation : Vertical

Correct Marks : 1 Wrong Marks : 0.25

Which of the below methods was given by John Dewey?

Options :

1. ☐ Problem solving method
2. ☐ Source method
3. ☐ Play way method
4. ☒ Project method

Question Number : 189 Question Id : 16794318967 Question Type : MCQ Option Shuffling : Yes Display Question Number : Yes
Single Line Question Option : No Option Orientation : Vertical

Correct Marks : 1 Wrong Marks : 0.25

जॉन डेवी द्वारा निम्नलिखित में से कौन सी विधियां दी गई थीं?

Options :

1. ✖ समस्या हल करने की विधि
2. ✖ स्रोत विधि
3. ✖ प्ले बे विधि
4. ✔ परियोजना विधि

Question Number : 190 Question Id : 16794318968 Question Type : MCQ Option Shuffling : Yes Display Question Number : Yes
Single Line Question Option : No Option Orientation : Vertical

Correct Marks : 1 Wrong Marks : 0.25

Who among the below has given the list of micro skills?

Options :

1. ✖ John Dewey
2. ✔ B.K. Passi
3. ✖ R.L. Stevenson
4. ✖ Benjamin Bloom

Question Number : 190 Question Id : 16794318968 Question Type : MCQ Option Shuffling : Yes Display Question Number : Yes
Single Line Question Option : No Option Orientation : Vertical

Correct Marks : 1 Wrong Marks : 0.25

निम्नलिखित में से किसने माइक्रो कौशल की सूची दी है?

Options :

1. ✖ जॉन डूई
2. ✔ बीके पासी
3. ✖ आर एल स्टीवेंसन
4. ✖ बेंजामिन ब्लूम

Question Number : 191 Question Id : 16794318969 Question Type : MCQ Option Shuffling : Yes Display Question Number : Yes
Single Line Question Option : No Option Orientation : Vertical

Correct Marks : 1 Wrong Marks : 0.25

Teaching Skills + Pedagogical theory + Professional skills. The summation of this represents:

Options :

1. ✖ Teacher's socializing skills
2. ✖ Learner ability
3. ✖ Learner skills
4. ✔ Teacher education

Question Number : 191 Question Id : 16794318969 Question Type : MCQ Option Shuffling : Yes Display Question Number : Yes
Single Line Question Option : No Option Orientation : Vertical

Correct Marks : 1 Wrong Marks : 0.25

शिक्षण कौशल + शैक्षिक सिद्धांत + व्यावसायिक कौशल- इसका सारांश दर्शाता है:

Options :

1. ✖ शिक्षक के सामाजिकरण कौशल
2. ✖ सीखने वाले की क्षमता
3. ✖ सीखने वाले का कौशल
4. ✔ शिक्षक की शिक्षा

Question Number : 192 Question Id : 16794318970 Question Type : MCQ Option Shuffling : Yes Display Question Number : Yes
Single Line Question Option : No Option Orientation : Vertical

Correct Marks : 1 Wrong Marks : 0.25

What is the full form of the ODL?

Options :

1. ✖ Openness and direct mode
2. ✖ Open learning mode
3. ✖ Open education mode
4. ✔ Open and distance mode

Question Number : 192 Question Id : 16794318970 Question Type : MCQ Option Shuffling : Yes Display Question Number : Yes
Single Line Question Option : No Option Orientation : Vertical

Correct Marks : 1 Wrong Marks : 0.25

ODL (ओडीएल) का पूरा रूप क्या है?

Options :

1. ✖ Openness and direct mode (खुला और प्रत्यक्ष प्रणाली)
2. ✖ Open learning mode (ओपन लर्निंग मोड)
3. ✖ Open education mode (ओपन शिक्षा प्रणाली)
4. ✔ Open and distance mode (खुली और दूरस्त प्रणाली)

Question Number : 193 Question Id : 16794318971 Question Type : MCQ Option Shuffling : Yes Display Question Number : Yes
Single Line Question Option : No Option Orientation : Vertical

Correct Marks : 1 Wrong Marks : 0.25

Which of the below is the main purpose of arranging seminars for teachers?

Options :

1. ✔ in-service teacher professional development
2. ✖ In-service teacher evaluation
3. ✖ In-service teacher process development
4. ✖ Indian teacher potential training development

Question Number : 193 Question Id : 16794318971 Question Type : MCQ Option Shuffling : Yes Display Question Number : Yes
Single Line Question Option : No Option Orientation : Vertical

Correct Marks : 1 Wrong Marks : 0.25

शिक्षकों के लिए संगोष्ठियों की व्यवस्था का मुख्य उद्देश्य नीचे से कौन सा है?

Options :

1. ✔ सेवा के दौरान शिक्षक पेशेवर विकास
2. ✖ सेवा के दौरान शिक्षकों का मूल्यांकन
3. ✖ सेवा के दौरान (इन-सर्विस) शिक्षक प्रक्रिया विकास
4. ✖ भारतीय शिक्षक संभावित प्रशिक्षण विकास

Question Number : 194 Question Id : 16794318972 Question Type : MCQ Option Shuffling : Yes Display Question Number : Yes
Single Line Question Option : No Option Orientation : Vertical

Correct Marks : 1 Wrong Marks : 0.25

What is the full form of NAAC?

Options :

1. ✖ National Administrative Academic Council
2. ✖ National Authoritative Academic Council
3. ✔ National Assessment and Accreditation Council
4. ✖ National Academic Acceleration Council

Question Number : 194 Question Id : 16794318972 Question Type : MCQ Option Shuffling : Yes Display Question Number : Yes
Single Line Question Option : No Option Orientation : Vertical

Correct Marks : 1 Wrong Marks : 0.25

एनएएसी (NAAC) का पूर्ण रूप क्या है?

Options :

1. ✖ नेशनल एडमिनिस्ट्रेटिव अकैडमिक
2. ✖ नेशनल ऑथॉरिटेटिव अकैडमिक काउंसिल
3. ✔ नेशनल अस्सेसमेंट एंड अक्क्रेडिटेशन काउंसिल
4. ✖ नेशनल अकैडमिक एक्सेलरेशन काउंसिल

Question Number : 195 Question Id : 16794318973 Question Type : MCQ Option Shuffling : Yes Display Question Number : Yes
Single Line Question Option : No Option Orientation : Vertical

Correct Marks : 1 Wrong Marks : 0.25

"Training is given to animals and circus performers, while education is to human beings." Whose quote is this?

Options :

1. ✖ Samuelson
2. ✖ John dewey
3. ✔ W.H. Kilpatric
4. ✖ Bloom

Question Number : 195 Question Id : 16794318973 Question Type : MCQ Option Shuffling : Yes Display Question Number : Yes
Single Line Question Option : No Option Orientation : Vertical

Correct Marks : 1 Wrong Marks : 0.25

"जानवरों और सर्कस कलाकारों को प्रशिक्षण दिया जाता है, जबकि शिक्षा मनुष्यों के लिए होती है।" यह किसका उद्धरण है?

Options :

1. ✖ सैमुएलसन
2. ✖ जॉन डूई
3. ✔ डब्ल्यू. एच. किल्पत्रिक
4. ✖ ब्लूम

Question Number : 196 Question Id : 16794318974 Question Type : MCQ Option Shuffling : Yes Display Question Number : Yes
Single Line Question Option : No Option Orientation : Vertical

Correct Marks : 1 Wrong Marks : 0.25

What is the meaning of professional development?

Options :

1. ✖ Skill development
2. ✖ Education development
3. ✖ In-service development
4. ✔ Overall competencies development

Question Number : 196 Question Id : 16794318974 Question Type : MCQ Option Shuffling : Yes Display Question Number : Yes
Single Line Question Option : No Option Orientation : Vertical

Correct Marks : 1 Wrong Marks : 0.25

वृत्तिक विकास (Professional Development) का अर्थ क्या है?

Options :

1. ✖ कौशल विकास
2. ✖ शिक्षा विकास
3. ✖ सेवारत विकास
4. ✔ समग्र दक्षता विकास

Question Number : 197 Question Id : 16794318975 Question Type : MCQ Option Shuffling : Yes Display Question Number : Yes
Single Line Question Option : No Option Orientation : Vertical

Correct Marks : 1 Wrong Marks : 0.25

What is the objective of National Literacy Mission?

Options :

1. ☒ Achieving complete literacy
2. ☐ Providing functional literacy
3. ☐ Ensuring adult literacy
4. ☐ Ensuring women literacy

Question Number : 197 Question Id : 16794318975 Question Type : MCQ Option Shuffling : Yes Display Question Number : Yes
Single Line Question Option : No Option Orientation : Vertical

Correct Marks : 1 Wrong Marks : 0.25

राष्ट्रीय साक्षरता मिशन का उद्देश्य क्या है?

Options :

1. ☒ पूर्ण साक्षरता प्राप्त करना
2. ☐ कार्यात्मक साक्षरता प्रदान करना
3. ☐ वयस्क साक्षरता सुनिश्चित करना
4. ☐ महिला साक्षरता सुनिश्चित करना

Question Number : 198 Question Id : 16794318976 Question Type : MCQ Option Shuffling : Yes Display Question Number : Yes
Single Line Question Option : No Option Orientation : Vertical

Correct Marks : 1 Wrong Marks : 0.25

When was the UEC established by the government of India?

Options :

1. ☐ 1978
2. ☐ 1956
3. ☒ 1948
4. ☐ 2004

Question Number : 198 Question Id : 16794318976 Question Type : MCQ Option Shuffling : Yes Display Question Number : Yes
Single Line Question Option : No Option Orientation : Vertical

Correct Marks : 1 Wrong Marks : 0.25

भारत सरकार द्वारा यूईसी कब स्थापित हुयी थी?

Options :

1. ✖ 1978

2. ✖ 1956

3. ✔ 1948

4. ✖ 2004

Question Number : 199 Question Id : 16794318977 Question Type : MCQ Option Shuffling : Yes Display Question Number : Yes
Single Line Question Option : No Option Orientation : Vertical

Correct Marks : 1 Wrong Marks : 0.25

What do you call “collections of student work representing a selection of performance”?

Options :

1. ✖ Dairies

2. ✖ Records

3. ✔ Portfolios

4. ✖ Assessments

Question Number : 199 Question Id : 16794318977 Question Type : MCQ Option Shuffling : Yes Display Question Number : Yes
Single Line Question Option : No Option Orientation : Vertical

Correct Marks : 1 Wrong Marks : 0.25

आप "चुनिन्दा प्रदर्शनों का प्रतिनिधित्व करने वाले छात्र कार्य के संग्रह" को क्या कहते हैं?

Options :

1. ✖ डायरियों

2. ✖ अभिलेख

3. ✔ विभागों

4. ✖ आकलन

Question Number : 200 Question Id : 16794318978 Question Type : MCQ Option Shuffling : Yes Display Question Number : Yes
Single Line Question Option : No Option Orientation : Vertical

Correct Marks : 1 Wrong Marks : 0.25

Who first defined the word “community” as a ‘group established by men having shared values’?

Options :

1. ✔ Aristotle

- 2. ✖ Plato
- 3. ✖ Kautilya
- 4. ✖ Khothari

Question Number : 200 Question Id : 16794318978 Question Type : MCQ Option Shuffling : Yes Display Question Number : Yes
Single Line Question Option : No Option Orientation : Vertical

Correct Marks : 1 Wrong Marks : 0.25

किसने पहली बार "समुदाय" शब्द को परिभाषित किया जैसे कि 'पुरुषों द्वारा स्थापित समूह के रूप में मूल्यों को साझा करना?

Options :

- 1. ✔ अरिस्टॉटल
- 2. ✖ प्लेटो
- 3. ✖ कौटिल्य
- 4. ✖ कोठारी